

一、單題（每題 2 分，共 70 分）

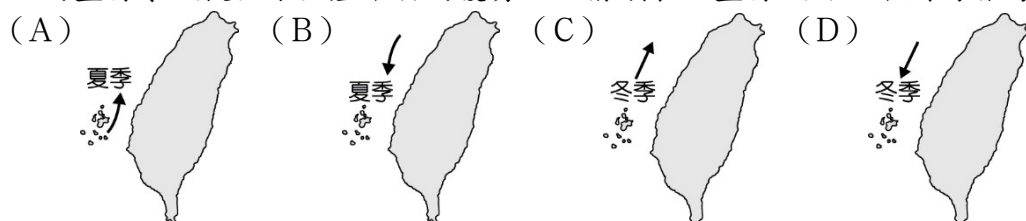
1. () 臺灣的族群多元，常有不同族群的語言文化或是原鄉文化反映於聚落地名中。附圖中的「鵝鑾鼻」為原住民族語。上文所述的「原住民族」可能是指下列哪一族？



- (A) 排灣族 (B) 魯凱族 (C) 布農族 (D) 阿美族。
2. () 臺灣加入世界貿易組織 (WTO) 之後，為何許多農產品無法和外國競爭？
 (A) 農地規模小，生產成本過高 (B) 外交困境，受到各國打壓 (C) 臺灣農產品的品質不佳 (D) 工業化導致高度污染。
3. () 臺灣的農業進行品種改良，除了提高品質外，還可以擴展產期，增加其生產量及提高價格。如九月分若要在市場上銷售，則何種水果需進行改良以調節其產期？



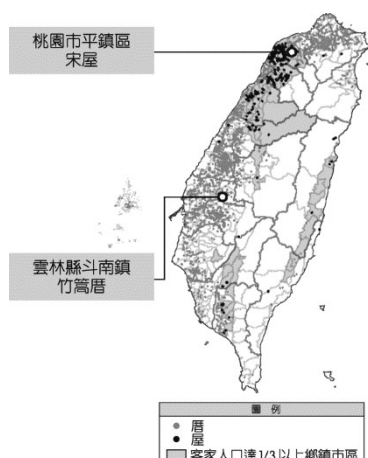
- (A) 木瓜 (B) 芒果 (C) 番茄 (D) 文旦柚。
4. () 臺灣出現許多與在地環境無關的地名，例如：南投縣的「仁愛鄉、信義鄉」，這些名稱出現在臺灣的可能原因為何？
 (A) 以彰顯道德教化 (B) 寄託復國的決心 (C) 冀求能長治久安 (D) 人民能落地生根。
5. () 產品名稱是消費者對產品的第一印象，有些產品會冠上生產者的姓名，有些則會新創品牌名稱。以新竹米粉為例，當地的盛行李風提供了生產米粉的優勢。以箭頭表示盛行風向，下列何者為該地盛行風向的正確示意圖？



6. () 附圖是臺灣某廟宇抽出的國運籤詩，根據圖中廟宇所在地的名稱判斷，該廟宇最可能位於下列哪一行政區的範圍內？



- (A) 新北市 (B) 臺南市 (C) 基隆市 (D) 臺東縣。
7. () 小白上地名資訊服務網查詢「厝和屋」的地名（見附圖），厝的地名主要分布在何種族群居住的地方？



(A)閩南人 (B)客家人 (C)平埔族 (D)高山族。

8. () 稻米是東方人的主食，也是臺灣分布最廣的作物，下面的選項何者不是近年來稻米需求量持續下降的原因？

(A)人們飲食習慣改變 (B)加入 WTO 後，外國稻米進口 (C)生活型態轉變 (D)耕種面積增加。

9. () 「溪底寮」為臺灣常見的聚落名稱，源自於早年當地民眾利用河川枯水期，在乾枯河床從事開墾，並在其地搭建簡單的工作寮房。考量臺灣的氣候和河川特色，上述地名在下列哪一縣市比較常見？

(A)新北市 (B)宜蘭縣 (C)苗栗縣 (D)嘉義縣。

10. () 聚落地名的來源往往和當地的區域特色息息相關，如附圖為全臺「鹿」地名的分布圖，其命名與下列何者關聯性最大？



(A)生態景觀 (B)平埔族社 (C)貿易買賣 (D)地形起伏。

11. () 近年來，由於環保和健康的意識抬頭，所以形成新的飲食文化，如環保素食和低碳飲食等，在餐廳中逐漸受到歡迎與重視。我們若到臺東旅遊，則下列菜單中，何項餐點最符合該飲食方式的概念？

(A)美國進口無汙染的生菜 (B)法國山區生產的葡萄 (C)花東縱谷種植的稻米 (D)日本精選的無毒蔬果。

12. () 臺灣在加入世界貿易組織 (WTO) 後，面臨了來自進口稻米的競爭，為了因應國際市場的衝擊，臺灣的稻農可以改朝下列哪一方向去做改變？

(A)增加產量 (B)提升品質 (C)降低售價 (D)稻田休耕。

13. () 目前基因改造技術多應用在農作物，目前臺灣尚未核准任何基因改造作物在國內推廣種植，但開放部分基因改造作物進口，其中不包括下列哪一種作物？

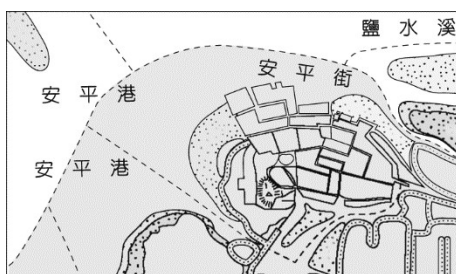
(A)小麥 (B)玉米 (C)棉花 (D)油菜。

14. () 臺灣的地名中，有些會受到語言影響。附表為臺灣本島四大極點，哪個極點之地的命名與原住民族語最相關？

極東之地	新北市三貂角燈塔
極西之地	臺南市國聖燈塔
極南之地	屏東縣鵝鑾鼻燈塔
極北之地	新北市富貴角燈塔

(A)極東之地 (B)極西之地 (C)極南之地 (D)極北之地。

15. () 透過歷史圖資，我們可以了解當時製圖者對地表景觀的紀錄。附圖為取自日治時期臺灣堡圖 (1904 年)，圖中可推論早期安平港是利用下列何種地形發展而成？

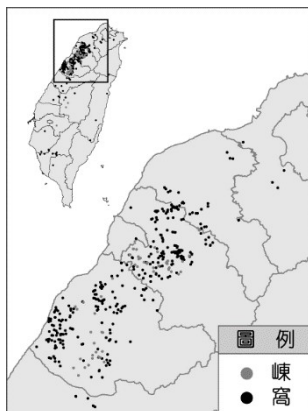


(A)岬角 (B)灣澳 (C)潟湖 (D)珊瑚礁。

16. () 臺灣有很多種古稱呼，何時臺灣成為官方行政區的命名，臺灣一詞固定下來？

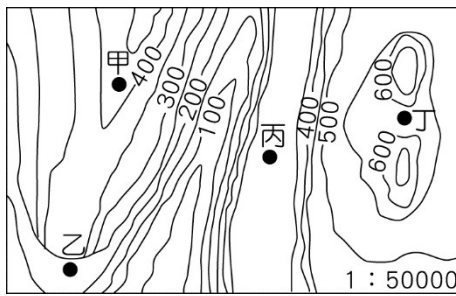
(A)鄭氏 (B)清帝國 (C)日治 (D)中華民國在臺灣。

17. () 根據內政部的地名調查，其特定地名的分布狀況如附圖所示，圖中的聚落最可能為下列何者？



(A)平埔族 (B)泰雅族 (C)閩南人 (D)客家人。

18. () 苗栗縣頭屋鄉舊名「崁頭屋」，「崁」字在客家用語意指陡峭崖坡，崁頭屋意即位於崖下的聚落。根據上述的地名由來，該聚落所在最有可能位於附圖中何處？



(A)甲 (B)乙 (C)丙 (D)丁。

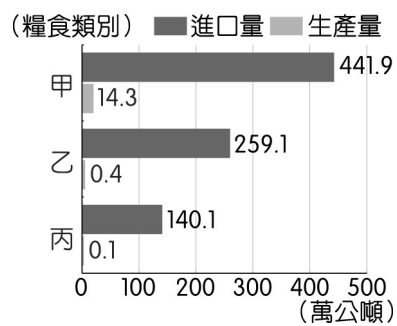
19. () 嘉義縣內同名的「潭仔墘」地名共有三個，其中兩個座落在新港鄉，另一個則在六腳鄉。圖(一)、圖(二)依序為當地村落所在的地圖，相同的地名命名，可能源自相似的地理環境。依據資料推論，地名中的「墘」字意義為何？



圖(一) 新港鄉大潭村 圖(二) 六腳鄉潭墘村

(A)位於某地物旁 (B)山凹坑谷 (C)坡度陡峭 (D)沖積平原。

20. () 附圖為 2021 年臺灣部分作物生產量與進口量統計圖，臺灣加入世界貿易組織後，開放我國農產品市場，基於公平貿易原則，調降進口關稅。依圖中數據判斷，圖中的甲、乙、丙最可能分別是下列哪三種作物？



(A)水稻、玉米、黃豆 (B)玉米、黃豆、小麥 (C)黃豆、小麥、水稻 (D)小麥、水稻、玉米。

21. () 自中華民國政府治理臺灣之後，為了去除日本殖民對臺灣的影響，著手修改部分日式地名。下列何者是此時期的地名更動？

(A)吉野→吉安 (B)錫口→松山 (C)打狗→高雄 (D)洄瀾→花蓮。

22. () 臺灣原住民地名中除了番與社之外，多為原住民族語音譯，如含巴、那、塔等字的地名很多。附圖為「巴」字地名分布圖，下列關於該分布圖的敘述何者正確？



(A)多分布在西部地區 (B)只分布於高山地形 (C)地名皆源自排灣族語 (D)主要集中花東兩縣市。

23. () 隨著現代商業性農業區域專業化的生產方式，配合加工技術與冷鏈運輸，使大量生產的農產品保存時限增加，擴大銷售市場。此種現象易引發哪些問題？

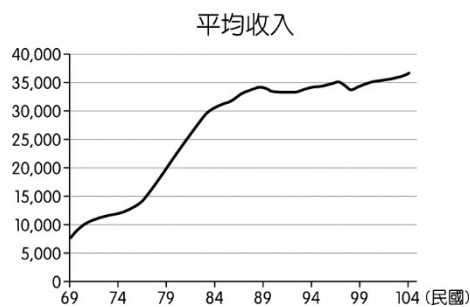
甲、食物營養價值流失 乙、食物里程距離增加
丙、難以辨識食物原貌 丁、商品價格大幅上漲

(A)甲乙 (B)乙丙 (C)丙丁 (D)甲丁。

24. () 臺灣的行政區包括 6 個直轄市，以及 16 個縣、市。某個縣以客家族群為主，每年 4 月至 5 月是桐花盛開時節，因此舉辦桐花季活動，境內的大湖是著名的「草莓之鄉」。上述「某個縣」的舊名為下列何者？

(A)打狗 (B)洄瀾 (C)雞籠 (D)貓裏。

25. () 飲食習慣容易受到經濟發展的影響，附圖為臺灣的平均收入變化趨勢，會造成下列何種影響？



(A)稻田轉種其他作物 (B)稻田面積逐漸增加 (C)稻米國內市場擴大 (D)稻米改以進口為主。

26. () 近年來，臺灣隨著環保與健康意識抬頭，出現不同的飲食方式，如附圖所示，圖中的「環保」最有可能是哪種環境議題？

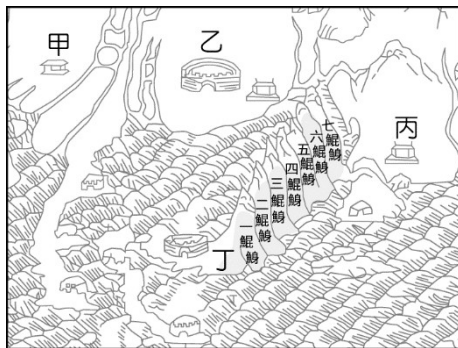


(A)碳排放量 (B)酸雨蔓延 (C)臭氧層破壞 (D)土地沙漠化。

27. () 清帝國時期，臺灣一詞作為行政區的名稱，如臺灣縣、臺灣府、臺灣省等，被使用的行政層級愈來愈高，此現象代表的意義為何？

(A)政權更迭頻繁 (B)戰略位置提升 (C)地名慣性沿用 (D)為求交流方便。

28. () 附圖為臺南地區某時期的古地圖，鯤鯨意指沙洲形狀像魚浮出海面露出背部，一鯤鯨曾因北側鄰近熱蘭遮城及大員市鎮，商業活動頻繁，而被稱為「臺灣第一鎮」。根據以上敘述，附圖中何者應為熱蘭遮城？



(A)甲 (B)乙 (C)丙 (D)丁。

29. () 附圖為「2021 年第四屆臺灣學校午餐大賽」的海報及該年度的主題，其中提及永續的概念，若以參賽的水果來判斷，下列哪所學校菜單中的水果最符合此主題？



(A)紐西蘭的奇異果 (B)南美智利的蘋果 (C)美國加州的蜜李 (D)臺中豐原的橘子。

30. () 臺灣過去曾被日本殖民統治，從部分被保留下來的日式歷史建築中，可窺見那段日治時期的影子之外，1920 年全臺行政區進行大調整時，有部分地名直接從日本挪用而來。依據上述，下列哪一地名的由來與此有關？

(A)臺北松山 (B)新北石門 (C)基隆暖暖 (D)屏東潮州。

31. () 近年來，隨著環保意識抬頭，出現低碳友善環境飲食。附圖為我國政府所發出的某一標章，腳掌中的數據代表「排放量的多寡」。依據判斷，下列何者最符合圖中的概念，數據可能最低？



(A)選擇集約耕作的農作 (B)選擇地產地消的食物 (C)減少購買非糧食作物 (D)避免購買昂貴的食物。

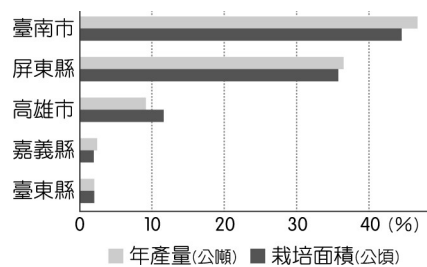
32. () 「這個地區原名『錫口』，位於甲盆地東北方，東南為丘陵地，周圍有四獸山、姆指山、筆架山等山峰綿亙；山麓有基隆河蜿蜒流過，原屬原住民平埔族遊獵捕魚的勝地，景色雄偉秀麗。『錫口』二字是臺語發音，即平埔族人之所稱之『河流彎曲之處』。」上述中提及的甲盆地所指為何？

(A)臺北盆地 (B)臺中盆地 (C)埔里盆地 (D)泰源盆地。

33. () 臺灣在加入 WTO 後，受到下列何項因素的影響，因此積極推動農業活動的轉型？

(A)降低進口關稅 (B)引入大量勞力 (C)農地成本上漲 (D)運輸成本提高。

34. () 早期臺灣的農業受到自然環境影響甚大，附圖是臺灣某種水果的主要栽種區，依據分布區的資訊判斷，此水果最可能為下列何者？



(A)蘋果 (B)草莓 (C)芒果 (D)梨子。

35. () 附圖為古代某種作物加工的圖像，由圖中顯示農民從收割甘蔗、榨汁到煮糖的過程，此地最容易形成哪個字的地名？



(A)炭 (B)崙 (C)窩 (D)廊。

二、題組（每格 2 分，共 20 分）

36. 南京東路、長安西路、杭州南路、重慶北路……臺北市路名有大量中國元素，但 1945 年臺灣省行政長官公署為求去日本化、廢除町目系統，頒布《臺灣省各縣市街道名稱改正辦法》（以下簡稱《改正辦法》），其中有 4 項命名原則，如下。

- 1.發揚中華民族精神者。
- 2.宣傳三民主義者。
- 3.紀念國家偉大人物者。
- 4.適合當地地理或習慣，且具有意義者。

當時並沒有使用大量中國地名，是直到 1947 年進行臺北市街道的更名，使用中國的省分和城市名稱，以及強調品德教育的宣導式名詞，確立了臺北市現在的路名。

- () (1) 根據敘述，今中山北路符合《改正辦法》中第幾項命名原則？ (A)第 1 項 (B)第 2 項 (C)第 3 項 (D)第 4 項。
- () (2) 臺北的中國地名是依照實際的地理方位命名，並以當時的公署所在為地圖中心點，也就是今行政院所在。宗漢今天要跟爸媽前往迪化街採買年貨，如果他們一家位於錦州街，朝向哪個方位前進便可抵達？



(A)東方 (B)西方 (C)南方 (D)北方。

- () (3) 1947 年行政長官公署將臺北市道路重新命名為中國地名的措施，其目的下列何者為非？ (A)行政治理方便 (B)展現光復決心 (C)普及地理教育 (D)教化臺灣民眾。

37. 臺灣的自然環境相當優越，所以水果種類眾多，素有「水果王國」的美譽。然而受到產季和保存的限制影響，所以透過學者研發出快速處理柑橘類水果的加工方法，降低成本並加以包裝對外銷售，如保存時間長又不輸鮮果口感的「柚香膠原露」便備受矚目。

由於水果的生產受氣候影響甚大，如柚子便喜歡生長在溫暖潮溼的地方，且生長時尤為需要水分，所以每年春秋雨季時栽培最為適宜，例如：荷蘭、美國及日本均為生產大國，具有溫帶性植物品種的環境優勢。臺灣雖位處亞熱帶地區，但運用生產技術的改良，不斷產出別具特色的溫帶水果，例如：梨子、草莓、蘋果等，甚至可外銷至其他國家，進軍國際市場。

柚子由於剝皮麻煩，通常只在中秋節前後食用柚子，但經加工處理後，不只一年四季都能吃到柚子，更由於加工處理後能夠常溫保存，在外銷市場上保存期限較鮮果長，又能保有原有口感，備具競爭力。

- () (1) 目前臺灣最主要是由於下列何者因素的影響，導致農地多由傳統的稻作改種蔬果等作物為主？ (A)國外蔬果進口 (B)飲食習慣改變 (C)氣候變遷因素 (D)人口老化嚴重。
- () (2) 若根據文中作物的生產環境判斷，下列哪一個市場因為不利其生長，故少見該種類水果，因此在外銷推廣時需多加促銷？ (A)美國 (B)中國 (C)伊朗 (D)墨西哥。
- () (3) 文中為避免水果保鮮期的時效性限制，所以進行相關處理。若根據原料特性判斷，其加工廠位於下列何種區位最為適合？ (A)原料產地 (B)工資低廉 (C)鄰近市場 (D)土地廣大。

38. 請閱讀下列敘述，並回答問題：

臺灣與紐西蘭在世界貿易組織架構下，雙方於2013年以會員身分簽署「臺澎金馬個別關稅領域與紐西蘭經濟合作協定」。協定共計25章，包括貨品貿易、原產地規則、關務程序與合作、跨境服務貿易，以及環境、原住民族、影視共同製作等合作議題，藉此臺灣與紐西蘭之間的貿易關係將更加緊密。

() (1) 簽署協定後，臺灣的何種產品最可能因該協定而迎來較大的商機？ (A) 麵粉 (B) 棉花 (C) 玉米 (D) 蝴蝶蘭。

() (2) 臺灣積極與其他國家簽訂經濟合作協定，對於農業生產而言有什麼優點？ (A) 擴大市場通路 (B) 減少交通成本 (C) 降低糧食進口量 (D) 降低農產運送損壞。

39. 臺灣早期的聚落發展，反映了先民生活環境的變遷與土地拓墾的歷程，當時民生以農業為主，多數民眾居住在為數眾多的鄉村聚落中。各聚落的居民依當地的自然環境、族群文化與產業，賦予聚落獨特的地名。2020年，臺灣共有368個鄉鎮市區，大多以當地居民日常生活所在的聚落名稱，作為其鄉鎮市區地名。早期的農業社會中，天然資源或作物的加工場所，常成為地名的命名依據。例如：早期甘蔗製糖非常發達，因此出現與糖類相關的地名。

() (1) 文中「與糖類相關的地名」，應為下列何者？ (A) 崙 (B) 崎 (C) 廊 (D) 窩。

() (2) 下列四張工業區位選擇模式圖中，何者最符合文中糖廠的工業區位？

(A)

(B)

(C)

(D)

40. 某學者根據內政部「地名資訊服務網」進行「聚落」類地名單字數量統計與排序，前10名結果如附表所示。

名 次	單 字／數量	名 次	單 字／數量
1	仔 7265	6	頭 2228
2	寮 2848	7	新 2148
3	厝 2804	8	山 1953
4	大 2384	9	下 1855
5	坑 2346	10	埔 1760

() (1) 附表中哪些單字，皆與地形關係密切？ (A) 仔、寮、大 (B) 頭、新、下 (C) 坑、山、埔 (D) 仔、新、山。

() (2) 地名常與族群語言關係密切，附表中哪個單字在閩南族群聚落最為常見，用來代表房舍的意思？ (A) 大 (B) 頭 (C) 厝 (D) 下。

41. 被網友列出臺灣怪地名之一的「糶糶村」（讀音：糶，ㄌ一ㄠˋ；糶，ㄉㄨㄣˊ），使用罕見生僻字作為村名，引起外地遊客的好奇心。根據考究，當地客家先民在此開闢良田，透過建立河港運輸連接東港溪至東港接駁大船銷往中國，發展成臺灣早期南部客家經濟活動的重鎮，也是六堆地區穀物買賣的集散地。請回答下列各題：

() (1) 依據文章資料，「糶糶村」最有可能位在下列哪個地區的中樞地帶？ (A) 桃園台地 (B) 埔里盆地 (C) 濁水溪沖積平原 (D) 屏東平原。

() (2) 從村名字體結構與字義分析，早期客家先民主要種植下列何種穀物維生？ (A) 水稻 (B) 小麥 (C) 玉米 (D) 大豆。

三、填充題（每題2分，共2分）

42. 早期，在臺漢人以讀音相近的【 】、台員、大灣、臺灣稱呼安平一帶。

四、配合題（每格2分，共8分）

43. 語言為研究歷史的活化石，由語言常可知一地的開發歷程。透過地名可以看到不同時期留下的痕跡，請選出其相對應的代號。

(甲)鄭氏	(乙)清帝國	(丙)日治	(丁)中華民國
-------	--------	-------	---------

() (1) 中山。

() (2) 嘉義。

() (3) 松山。

() (4) 新營。

113 下國三地卷補考題庫 ____年__班 座號：____ 姓名：_____

[滿分100分]

一、單題（每題2分，共70分）

- 1.(A) 2.(A) 3.(C) 4.(A) 5.(D) 6.(B) 7.(A) 8.(D) 9.(D) 10.(A) 11.(C) 12.(B) 13.(A)
- 14.(C) 15.(C) 16.(B) 17.(D) 18.(B) 19.(A) 20.(B) 21.(A) 22.(D) 23.(B) 24.(D) 25.(A)
- 26.(A) 27.(B) 28.(D) 29.(D) 30.(A) 31.(B) 32.(A) 33.(A) 34.(C) 35.(D)

二、題組（每格2分，共20分）

36. (1)(C) ; (2)(B) ; (3)(C)

37. (1)(B) ; (2)(C) ; (3)(A)

38. (1)(D) ; (2)(A)

39. (1)(C) ; (2)(A)

40. (1)(C) ; (2)(C)

41. (1)(D) ; (2)(A)

三、 填充題 (每題 2 分，共 2 分)

42. 大員

四、 配合題 (每格 2 分，共 8 分)

43. (1)(丁) ; (2)(乙) ; (3)(丙) ; (4)(甲)