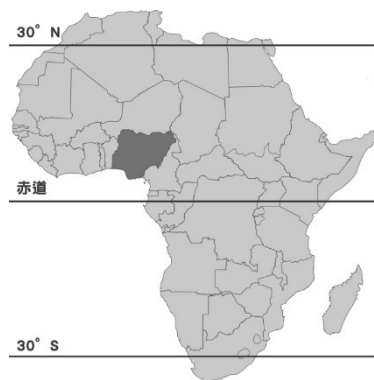


111-1 國三地理補考題庫

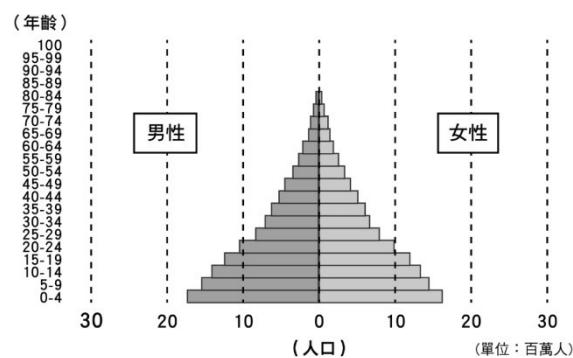
1. (A) 南非共和國的經濟作物有柑橘、葡萄等，不同於其他非洲地區的國家。請問：造成此作物差異的因素可能為何？
(A)緯度差異 (B)海拔不同
(C)殖民經濟 (D)族群差異
 2. (B) 漠南非洲境內有三個低地：(甲)剛果盆地；(乙)喀拉哈里盆地；(丙)東非大地塹。其中內部乾燥、沙漠廣布的是何者？
(A)甲 (B)乙 (C)丙
 3. (B) 廣告臺詞中「鑽石恆久遠，一顆永流傳」，鑽石屬於高消費的奢侈品。請問：下列何者即以生產鑽石著稱？
(A)埃及 (B)南非 (C)利比亞 (D)塞內加爾
 4. (A) 東非大裂谷最深達2,000公尺，寬30~100公里，全長6,000公里。請問：該裂谷主要是受到下列哪種地形作用力而形成的？
(A)板塊運動 (B)搬運作用
(C)冰河侵蝕 (D)堆積作用
 5. (D) 非洲的工業尚在萌芽階段，但卻擁有許多的天然資源，尤以金屬礦物最為豐富。請問：非洲金屬礦物豐富和下列哪一因素有密切關係？
(A)多雨的氣候 (B)開發較晚
(C)水流的沖積 (D)古老陸塊
 6. (B) 非洲的氣候帶大致呈現南、北對稱的分布，此種特色和下列哪一因素關係最密切？
(A)全洲地形平坦，起伏小
(B)赤道橫貫非洲大陸中部
(C)陸地廣大，介於兩大洋之間
(D)海岸平直少曲折
1. (D) 歐洲的地形景觀豐富，主要是受到下列哪些地形作用的影響？(甲)板塊運動；(乙)堆積作用；(丙)冰河作用；(丁)風化作用
(A)甲乙 (B)乙丙
(C)丙丁 (D)甲丙
 2. (C) 俄羅斯為全世界面積最為廣大的國家。請問：該國境內的氣候類型主要為下列哪兩種？
(A)溫帶海洋性氣候、寒帶氣候
(B)溫帶大陸性氣候、溫帶海洋性氣候
(C)溫帶大陸性氣候、寒帶氣候
(D)溫帶海洋性氣候、溫帶沙漠氣候
 3. (B) 英國、挪威、丹麥等國家，近年來都因鄰近哪一海域，經濟活動受惠於石油的開採？
(A)黑海 (B)北海
(C)地中海 (D)波羅的海
 4. (B) 西歐及北歐沿海地區的氣候，較同緯度其他地區溫暖潮溼，除西風外，還受下列何項因素影響？
(A)副熱帶高氣壓 (B)北大西洋暖流
(C)地勢高低 (D)迎東北信風
 5. (A) 部分歐洲國家，人口成長停滯，甚至呈現負成長，因此勞力不足。歐洲哪一區，工資較低廉，加入歐盟後，成為主要勞動力來源？
(A)東歐 (B)西歐 (C)南歐 (D)北歐
 6. (C) 俄羅斯境內的西伯利亞，地廣人稀，人口分布不均。請問：當地人口多分布於下列何處？
(A)河川沿岸地區 (B)東部沿海地區
(C)鐵路沿線地區 (D)礦產分布地區
1. (D) 下列有關美洲的敘述，何者正確？
(A)北美洲包括美國、加拿大與墨西哥
(B)南美洲全境位於南半球
(C)中南美洲目前以英語為主要語言
(D)中南美洲又被稱為拉丁美洲
 2. (C) 美國加州的葡萄乾、葡萄酒素負盛名，且臺灣進口的葡萄主要來自該地。請問：當地屬於何種氣

- 候型態？
- (A)溫帶海洋性氣候
(B)溫帶大陸性氣候
(C)溫帶地中海型氣候
(D)夏雨型暖溫帶氣候
3. (A) 美洲大陸跨越南、北半球，若與北美洲氣候類型比較，中南美洲沒有下列哪一種氣候類型的分布？
(A)溫帶大陸性氣候
(B)溫帶海洋性氣候
(C)夏雨型暖溫帶氣候
(D)溫帶沙漠氣候
4. (D) 舉世聞名的巴拿馬運河克服了陸地的阻礙，使分處於美洲兩側的大西洋及太平洋得以相通。請問：該運河主要是利用下列何種方法調節運河的水位？
(A)開挖渠道 (B)填海造陸
(C)興建堤防 (D)興建水閘
5. (B) 下列有關北美洲工業的敘述，何者正確？
(A)西雅圖以電影工業聞名
(B)舊金山矽谷是全球重要的高科技工業中心
(C)墨西哥灣以軟體工業為主
(D)洛杉磯石化工業達發
6. (C) 臺灣的電子產品主要出口至美國，但為避免造成過度的貿易出超及支付高額的關稅，因此在生產成本的考慮下，前往下列何處設廠較為適合？
(A)美國 (B)加拿大
(C)墨西哥 (D)巴西

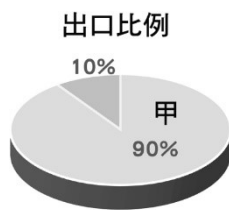
■ 奈及利亞位於幾內亞灣沿岸，如圖一，人口2億500萬人，人口結構如圖二。該國擁有豐富的甲資源，為其帶來龐大的外匯收入，出口比例如圖三。
請問：



(圖一)



(圖二)



(圖三)

1. (A) 請從你學過的非洲氣候類型分布判斷，奈國常見的氣候類型可能為下列何者？
 (A)北半球熱帶莽原氣候
 (B)北半球溫帶海洋性氣候
 (C)南半球溫帶地中海型氣候
 (D)北半球溫帶地中海型氣候
2. (B) 從圖二中，我們可以推論出奈及利亞在經濟發展上有何種優勢？
 (A)經濟建設完備
 (B)人口結構年輕
 (C)自然資源豐富
 (D)扶養壓力大
3. (B) 從圖三來看，下列哪件事情可能會對奈國經濟產生打擊？
 (A)南非大量增產黃金
 (B)美國大規模開採石油
 (C)安哥拉探勘到新的鑽石礦
 (D)巴西大規模種植咖啡出口

■ 從2002年4月，臺灣企業鴻海於捷克的投資廠落成，……
 國內大型資訊科技業者如大眾、華碩、鴻海、明基等，
 都已在捷克蓋廠或承租廠房。
 請問：

1. (A) 臺商前進捷克設立工廠或承租廠房的主要原因為何？
 (A)勞力、市場 (B)原料、資金
 (C)交通、政策 (D)動力、技術
2. (C) 若臺灣總公司派管理經理代表前往捷克進行短期視訪，會發生下列何種情形？
 (A)當地原料較臺灣短缺，採買不易
 (B)可以購買葡萄酒、橄欖油等地方名產
 (C)氣候較臺灣寒冷乾燥，冬季需注意保暖
 (D)若到奧地利旅遊要準備簽證

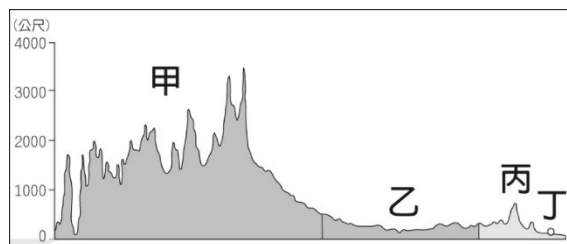
■ 請依據附圖，回答下列問題：



1. (A) 「這條街不過500多公尺，被稱為世界的金錢計時器，有200多家金融、外貿機構集中於此，並且全美最大的10家銀行，有6家在此營業，這裡可視為美國財富與實力的象徵。」請問：這條街應位於圖中的哪一城市？
 (A)甲 (B)乙 (C)丙 (D)丁
2. (D) CNN 晚間快報報導，美國境內遭到嚴重的颶風侵襲，颶風所到之處大雨滂沱，造成許多低窪地區淹水。請問：發生嚴重水災的地區，最有可能為圖中的何處？
 (A)甲 (B)乙 (C)丁 (D)戊

3. (C) 每年的 9、10 月之間，葡萄成熟收穫的季節，堪稱美國那帕谷地 (Napa Valley) 酒鄉的年度嘉年華。請問：此一酒鄉位於圖中的哪一地區？
(A)甲 (B)乙 (C)丙 (D)丁

■ 附圖是「北美洲沿北緯 40 度所繪製的地形剖面圖」。
請依據附圖，回答下列問題：



4. (A) 哪一區是板塊擠壓帶抬升產生，多火山、地震？
(A)甲 (B)乙 (C)丙 (D)丁
5. (B) 美國是世界重要的農牧產品輸出國，哪一區是其最主要的農產帶？
(A)甲 (B)乙 (C)丙 (D)丁