

一、選擇

1. () 自古以來，歐洲對於地球另一端的亞洲有著豐富的想像，認為亞洲是一個富庶且資源多元的地方，有這樣的想像源自於亞洲的香料、絲綢等奢侈品在歐洲市場一直是高單價的商品。請問：當時亞洲商品主要是由哪國商人壟斷貿易，因而促使歐洲國家積極向外尋找通往亞洲的新航道？ (A)西班牙商人 (B)葡萄牙商人 (C)義大利商人 (D)阿拉伯商人。

《答案》C

2. () 大航海時期，葡萄牙對於尋找前往東方的新航道相當熱衷。其中，達伽馬於西元 1497 年帶領船隊繞過「好望角」，發現前往印度洋的航道，建立東方航線。請問：「好望角」位於何處？ (A)非洲南端 (B)印度西岸 (C)歐洲北岸 (D)中國南岸。

《答案》A

3. () 伊斯蘭教的信徒稱為「穆斯林」，而其宗教的經典為何？ (A)《古蘭經》 (B)《新約聖經》 (C)《吠陀經》 (D)《舊約聖經》。

《答案》A

4. () 大不列顛與北愛爾蘭聯合王國自十八世紀以來成為世界強權，該王國之所以稱為「聯合王國」，是因為她是數個王國合併而來，可以說這個國家內部還有兩個或三個半獨立的政體。請問該國統治過下列哪個地區？ (A)印度 (B)印尼 (C)菲律賓 (D)越南。

《答案》A

詳解：「聯合王國」是英國的國號，中文通用的英國容易凸顯英格蘭的優位性，削弱了蘇格蘭、威爾斯與愛爾蘭。

5. () 「我們相信下面這些真理是不言而喻的，亦即人生而平等，而造物者賦予他們若干不可讓與的權利，如生存權、自由權和追求幸福的權利。」這是美國《獨立宣言》的其中一段話，這段話很明顯是何人的理論？ (A)盧梭 (B)洛克 (C)孟德斯鳩 (D)伏爾泰。

《答案》B

6. () 埃及是古文化的發源地之一，木乃伊與金字塔是其重要的文化特色遺跡。請問：古埃及人製作木乃伊最主要目的為何？ (A)幫助死者贖罪 (B)為了祭祀太陽神及陰間之神 (C)提供考古學者研究之用 (D)保持肉體不壞，以備來世之用。

《答案》D

7. () 信仰是人類生活中不可或缺的一部分。請問：中世紀歐洲的主要宗教信仰為何？ (A)伊斯蘭教 (B)佛教 (C)基督教 (D)祆教。

《答案》C

8. () 在十七世紀初期，有一家民營公司取得了官方的特許狀，可以自行籌組武力，這家民營公司的亞洲總部設於印尼的爪哇島上，請問這家公司的名稱為何？ (A)英屬東印度公司 (B)法屬東印度公司 (C)荷蘭聯合東印度公司 (D)西班牙聯合東印度公司。

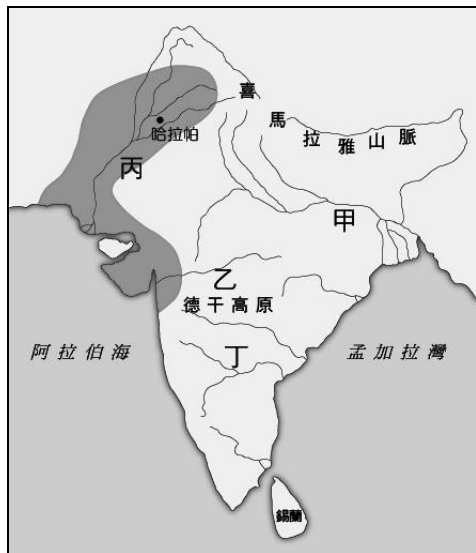
《答案》C

詳解：荷蘭聯合東印度公司於 1602 年成立，獲得官方特許狀，且在印尼爪哇島上的巴達維亞設立亞洲總部。

9. () 拜占庭帝國在下列哪位皇帝在位時，曾經制定法典，並且積極收復羅馬帝國的失土，可說是拜占庭帝國疆域最廣的時期？ (A)君士坦丁 (B)查士丁尼 (C)屋大維 (D)凱撒。

《答案》B

10. () 摩亨約達羅遺址建於西元前 2300 年，其雖以農業為主，卻有神殿、住宅、大浴場、穀倉、下水道等設施，都市規畫相當完善，令挖掘此處的考古學家十分吃驚。請問：此遺址位於附圖中哪一條河流下游？ (A)甲 (B)乙 (C)丙 (D)丁。



《答案》C

11. () 在某個時期的歐洲，人們建立科學的宇宙觀——探究自然、提倡理性、進步等信念，不再堅信基督教的宇宙觀。上述轉變與下列何者的關係最密切？ (A)宗教改革 (B)科學革命 (C)殖民經濟 (D)航海技術的進步。

《答案》B

詳解：科學革命使思想逐漸理性而不迷信。

12. () 附圖是八世紀時，一個橫跨歐、亞、非三洲帝國的疆域圖，關於這個帝國的敘述，下列何者正確？ (A)此帝國為拜占庭帝國 (B)這個帝國起源於阿拉伯半島 (C)這個帝國建立希臘化文化 (D)這個帝國引發亞歷山大東征。



《答案》B

詳解：從時間、帝國疆域與首都判斷，此帝國為阿拉伯帝國。

13. () 哥白尼與伽利略的學說均受到基督教會的壓迫，主要是因為他們的何種學說與教會思想產生爭端？ (A)物種起源 (B)優勝劣敗 (C)適者生存 (D)太陽中心說。

《答案》D

14. () 一天他在山洞中冥思，天使加百列突然出現，稱他為最後且最偉大的先知，要他宣揚阿拉的真理，據此他創立了一個新的宗派，為世界開創了全新的局面。上述應置於哪個宗教的簡介之中？ (A)伊斯蘭教 (B)基督宗教 (C)猶太教 (D)佛教。

《答案》A

詳解：穆罕默德娶了赫蒂徹後，開始有較多的時間冥想，據傳說中某日冥想時，天使加百列(希伯來人、基督徒同時認可的天使)顯靈，穆罕默德才踏上了宣揚宗教的道路。

15. () 文藝復興本身的涵義包括「復古」與「創新」等兩個面向。試問，所謂的復古的「古」指的應該為何？ (A)古埃及 (B)古印度 (C)古希臘 (D)古波斯。

《答案》C

詳解：文藝復興強調的復古主要是繼承古希臘、羅馬的文化基礎加以創新。

16. () 《禁書目錄》是羅馬教廷出版，收錄對於天主教信仰「具危險性」的著作，不少名人在此目錄中榜上有名，如笛卡兒、培根、哥白尼、伽利略、洛克、伏爾泰等人，請問：以上的思想家為什麼會被羅馬教廷列在《禁書目錄》內？ (A)理性思維一定程度削弱天主教對民眾的影響力 (B)他們的思想太過於落後，使民智倒退 (C)他們助長了西歐民族主

義，教廷不願意西歐因此陷入戰火 (D)他們的言論傾向希臘正教，不受羅馬教廷支持。

《答案》A

詳解：哥白尼的《日心說》挑戰了教會支持的《地心說》、伏爾泰批評教會的腐敗，在在削弱了教會原先對於世界觀的解釋權與權威性，故被教廷視作敵人。

17. () 學生閱讀下列一段資料：「希臘人稱這片土地為『美索不達米亞(Mesopotamia)』，『Meso-』意思是中間，『potamia』則是河流，後世便習慣以『兩河流域』來稱呼這片土地。」請問這位同學在閱讀的是哪篇內容？ (A)中國文明起源 (B)古印度大探索 (C)西亞文化光輝 (D)金字塔的祕密。

《答案》C

詳解：西亞古文化從「兩河流域」發展起來，此地又稱作「肥沃月彎」或是題幹中的音譯「美索不達米亞」，故選C。

18. () 「如果你害死別人的兒子，那麼你的兒子應當被處死……；如果平民損害貴族的畜牲，那麼平民應處以死刑……；貴族損害平民的畜牲，貴族應賠錢給平民……。」上文中的內容最可能出自於下列何者？ (A)《吠陀經》 (B)《舊約聖經》 (C)《漢摩拉比法典》 (D)《論語》。

《答案》C

19. () 因所在地區的位置、天然資源分布不同，故不同古文化的特色多有差異。下列有關於西亞與埃及古文化的文化特色，何者錯誤？ (A)蘇美：六十進位法 (B)波斯：創立祆教 (C)埃及：象形文字 (D)希伯來：創立伊斯蘭教。

《答案》D

詳解：希伯來人創立的是猶太教。

20. () 印第安人曾廣泛的生活於美洲大陸上，他們有自己的語言與文化，是美洲最早的居民。請問，美洲的原住民被稱為「印第安人」的原因為何？ (A)他們與印度人屬同一人種 (B)歐洲殖民者最初將美洲誤認為印度 (C)印度曾經殖民過美洲 (D)殖民者將大量印度人販賣至美洲為奴。

《答案》B

詳解：哥倫布發現新大陸，但是歐洲人原本以為自己到達的是印度，因而將美洲人稱為印度人(音同印第安人)，直到探險家亞美利哥指出新大陸為美洲。

21. () 品妍選擇了「麥哲倫」為歷史人物報告的主題，她應該會在報告中提及下列哪個相關內容？ (A)發現美洲新大陸 (B)船隊環繞世界一周 (C)開啟歐亞之間的新航路 (D)首先發現非洲南端的好望角。

《答案》B

22. () 幾位同學正在討論中古時期的宗教改革，請問下列有關宗教改革影響的論述何者正確？ (甲)英人喀爾文發揚馬丁路德的主張，闡述「預選說」理論，認為贖罪券並無作用 (乙)宗教改革運動後形成的諸多教派統稱為「新教」 (丙)西班牙人羅耀拉創立「耶穌會」，強調神職人員的訓練與紀律 (丁)英王亨利八世因政治問題與教宗決裂，進而脫離羅馬教會，創立「英格蘭國教派」。 (A)甲乙 (B)甲丁 (C)乙丙 (D)丙丁。

《答案》C

詳解：(甲)喀爾文為法國人。(丁)亨利八世因婚姻問題與教宗決裂。

23. () 大航海時代的開啟與東西之間的貿易有很大的關係。下列何者不是開啟大航海時代的原因？ (A)王室支持 (B)歐洲對東方貨品需求增加 (C)貿易路線被蒙古人阻斷 (D)航海知識與技術的進步。

《答案》C

24. () 學者指出，宗教改革後帶來人民識字率的提升。請問：會有這樣的狀況其原因為何？ (A)舊教並不重視教育 (B)新教取消原本存在的學校教育 (C)因為推廣閱讀翻譯為各地語言的《聖經》 (D)人民紛紛改信伊斯蘭教。

《答案》C

詳解：新教尤其提倡信徒直接閱讀《聖經》，加上各地對《聖經》的翻譯，傳統難以學習的拉丁文

走向衰微，也因此帶來識字率的提升。

25. () 十七、十八世紀，啟蒙哲士輩出，他們穿梭於各大沙龍，嘗試結合科學法則與政治、社會學。以下啟蒙哲士及其學說的配合，何者有誤？ (A)洛克—天賦人權 (B)孟德斯鳩—三權分立 (C)伏爾泰—宗教寬容、言論自由 (D)狄德羅—主權在民。

《答案》D

詳解：狄德羅是《百科全書》的作者，主權在民是盧梭的理論。

26. () 馬丁路德在西元 1517 年的發布的《九十五條論綱》掀起了當時宗教界的喧然大波，開啟宗教改革的序幕。請問：下列有關於新教派與其特色的敘述，何者正確？ (A)路德教派主張由國王擔任教會領袖 (B)喀爾文教派主張「因信得救」 (C)英格蘭國教派相信「預選說」 (D)各派皆強調《聖經》為唯一依歸。

《答案》D

詳解：(A)路德教派主張「因信得救」。(B)喀爾文教派相信「預選說」。(C)英格蘭國教派主張由國王擔任教會領袖。

27. () 中南美洲有許多國家與我國有邦交，外交官必須精通西班牙文或葡萄牙文等拉丁語系，才有辦法與當地官員溝通。請問：西、葡二國為南歐國家，哪個歷史事件影響拉丁美洲主要使用此兩國的語言？ (A)海外探險 (B)佛教傳播 (C)宗教改革 (D)文藝復興。

《答案》A

28. () 哥白尼是忠誠的天主教徒，也是神職人員，但這都不妨礙他被尊稱為科學革命第一人，請問主因最可能是？ (A)羅馬天主教徒身分 (B)對上帝完美的信念 (C)提出萬有引力定律 (D)觀察、紀錄等研究方法。

《答案》D

詳解：觀察與紀錄是哥白尼研究的方法，透過客觀的長期紀錄，最後才提出日心說，由於方法正確，才使得他無損科學革命第一人的稱號。

29. () 在十七、十八世紀的科學革命與啟蒙運動影響下，人們對於傳統宗教有著不一樣的想法與觀點，這些觀點也影響教會在社會的影響力。在科學革命與啟蒙運動的觀念傳遞中，對於教會產生什麼樣的影響？ (A)教會的勢力沒有受到太大的影響 (B)教會嘗試與啟蒙哲士相互合作，強化自身的影響性 (C)教會對於民眾的影響力大幅下降 (D)教會受惠於啟蒙運動所提倡的觀念，對社會的影響力加強。

《答案》C

詳解：科學革命與啟蒙運動皆對於教會勢力有所打擊。

30. () 著有《悲慘世界》、《鐘樓怪人》的法國大文豪雨果曾經對伏爾泰有以下的評論：「伏爾泰的名字所代表的不是一個人，而是整整一個時代。」請問：一生追求言論自由、反對教會腐敗的伏爾泰，最能代表哪一個時代？ (A)啟蒙時代 (B)浪漫主義 (C)文藝復興 (D)宗教改革。

《答案》A

詳解：伏爾泰主張言論自由與宗教寬容，受到法國人民的愛戴，是啟蒙時代的代表人物，其思想影響了法國大革命與美國獨立。

31. () 依夏是十七世紀來自香料群島中哈馬黑拉島的居民。某日，他親身經歷了居住的村莊所發生的悲劇。不知從何而來的外島人大量入侵島內，依夏的許多朋友奮力抵抗，卻反遭屠殺。最後，依夏和其他倖存的居民開始被這群外島人統治。請問：依夏所說的外島人最有可能來自下列何國？ (A)荷蘭 (B)英國 (C)西班牙 (D)葡萄牙。

《答案》A

詳解：荷蘭在十七世紀占領香料群島，並開始殖民此地。

西元 1609 年，他自製望遠鏡，證實了太陽中心說。

西元 1633 年，他被轉移到羅馬接受審判，宗教法庭宣判他為宗教異端，除非他放棄日心說，否則必須終生監禁。

西元 1992 年，教宗若望保祿二世表示對於他的遭遇感到遺憾並公開道歉。

32. ()

請問，上文描述的是誰？ (A)培根 (B)哥白尼 (C)牛頓 (D)伽利略。

《答案》D

詳解：從自製望遠鏡、日心說、被宗教法庭迫害等字句，可知是伽利略。

33. ()

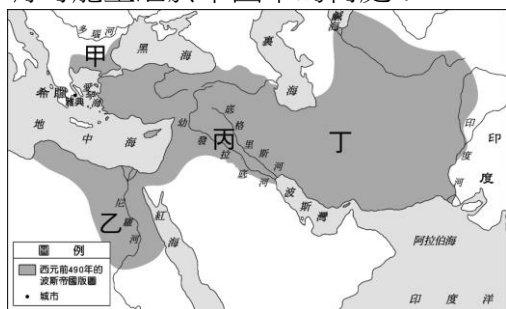
從此時期開始，世界貿易的網絡才能算是真正被串聯起來，過往的區域貿易已經無法與現在相比。全世界五大洲都被歐洲人的海外探險活動所影響，難以置身事外。請問這段敘述最可能描述與哪個時期的中國相符合？ (A)漢代 (B)唐代 (C)宋代 (D)明代。

《答案》D

詳解：明朝中葉後，歐洲人因為發現新航路的關係，越過大西洋、太平洋，串聯起世界貿易。

34. ()

「納克特是個學生，為了承繼父業，早早便被送進書記學校學習。但在他們國家中，學習書寫是件非常困難的事，必須記下數百種不同的象形文字符號，符號稍微不同便代表不同發音，這使學習者必須耗費大量的力氣來記誦那些圖案。納克特不禁想起曾經遇到過的腓尼基商人，愛錢的他們可不願將時間浪費在學習整套文字系統上，所以只借用一些常用的符號，簡化後用來記事，聰明又簡省時間。……」請問依上文線索，納克特最有可能生活於下圖中的何處？



(A)甲 (B)乙 (C)丙 (D)丁。

《答案》B

詳解：由文中提及「被腓尼基人簡化的象形文字」可推知納克特所學為埃及文，是故選擇埃及所在地：乙。

35. ()

伊斯蘭教為世界三大宗教之一，其教徒分散於世界的五大洲之中，甚至不少國家將伊斯蘭教侍奉為國教。下列有關伊斯蘭教的敘述，何者正確？ (A)伊斯蘭教為多神信仰，不過主要以阿拉為侍奉的對象 (B)伊斯蘭教中的經典《古蘭經》需透過翻譯讓信徒更加理解其中之涵義 (C)伊斯蘭教強調平等、反對剝削等教義，因而受到底層社會的民眾所歡迎，也加快伊斯蘭教傳播的速度 (D)伊斯蘭教對於不同宗教、民族的人並沒有採取平等的原則，則是因應不同宗教、民族而採取差別的待遇方式。

《答案》C

詳解：(A)伊斯蘭教為一神信仰。(B)《古蘭經》不得翻譯。(D)伊斯蘭教都採取平等原則對待不同民族與宗教的群眾。

36. () 十八世紀中期起印度的蒙兀兒帝國，面對英屬東印度公司的積極擴張無法抵擋，最終英國成為印度最大的外國勢力。下列關於英屬東印度公司對印度的影響，何者錯誤？ (A) 在印度生產棉花，並購買中國的茶葉與絲綢銷往歐洲 (B) 英屬東印度公司介入當地的政治紛爭，最終成為殖民印度的統治者 (C) 英國在印度栽種鴉片，並大量輸往中國，造成雙方在西元 1840 年爆發鴉片戰爭 (D) 十九世紀中葉起英屬東印度公司與蒙兀兒帝國聯合統治印度地區。

《答案》D

詳解：十九世紀中葉英國結束蒙兀兒帝國的統治。

37. () 廣播節目正在介紹世界各地區曾建立遼闊帝國的民族。主持人提到了蒙古帝國雖然疆域幅員廣大、族群眾多，但統治者卻能尊重各族的民情風俗。主持人更進一步說到另一個甲民族與蒙古統治方式類似，並與之作比較，呈現表格如下所示。

項目	甲民族	蒙古
興起地區	伊朗高原	蒙古高原
疆域	橫跨歐亞非三洲	橫跨歐亞兩洲
統治方式	重視各地文化	尊重不同風俗

關於甲民族的敘述，下列何者正確？ (A)醫學與幾何學成就最高 (B)強調以牙還牙以眼還眼 (C)生活中使用六十進位法 (D)相信善神最終戰勝惡神。

《答案》D

詳解：由表格內容可知甲民族為波斯人，(A)為埃及人。(B)為巴比倫人。(C)為蘇美人。

38. () 課堂上，同學們以「波斯」為主題進行報告，請問下列何者的說明有誤？ (A)曾建立一個橫跨歐亞非三洲的大帝國 (B)採行中央集權，積極推行波斯文化、消滅各地文化 (C)信奉祆教，強調善惡二元對立的宗教觀 (D)崛起於伊朗高原，曾經征服西亞和埃及等地。

《答案》B

詳解：波斯帝國雖採行中央集權，但其尊重地方文化，並無積極消滅各地文化的舉動，故選 B。

39. () 下列是一則古代文化的神話故事。

諸神們決定用大洪水來毀滅人類，只有一對夫婦靠著神給他們的祕密，登上方舟，因而倖免於難，而蘇美國王吉爾伽美什因為在世間經歷了各式各樣的戰爭與痛苦，決定去尋找這對夫婦詢問關於永生的祕密。

在他歷經千辛萬苦後，終於找到這對夫婦，但他並沒有得到永生的祕密，而是得知青春之樹的位置，於是他又踏上尋找青春之樹的旅途。

一路上他遇到許多危險，最後成功找到青春之樹，不過，就在他因為長途跋涉太累而小睡一覺之時，青春之樹也被蛇吃掉了。最後吉爾伽美什無功而返。

阿成在閱讀完神話後寫了以下紀錄，請根據神話判斷出正確的紀錄內容？ (A)這是波斯古文化中有關大洪水的神話故事 (B)故事裡的人很幸運，歷經千辛萬苦之後得到美滿的結局 (C)這則神話反映出當地人的生活是很嚴苛的，由此可知這個民族頗為樂觀 (D)這可能與當地河流不定時氾濫造成人民生活不穩定相關。

《答案》D

詳解：(A)是兩河流域古文化的神話。(B)故事裡的人歷經千辛萬苦，依然無功而返。(C)(D)兩河流域因河流不定時氾濫，難以與農業生產配合，時有旱災與水災，人民生活不穩定與無常，因此較悲觀。

40. () 歷史老師要同學對於兩河流域與埃及古文化做出比較，以下哪一位同學說法符合史實？
(A)浩浩：兩河流域主要是農業類型缺少商業行為的大河文化，埃及則是工商業類型的大河文化 (B)姍姍：兩河流域民族較單純，埃及民族較複雜 (C)婷婷：兩河流域創造象形文字，埃及創造楔形文字 (D)宏宏：兩者皆在曆法上有不錯的成就。

《答案》D

詳解：(A)兩河流域地區民族眾多，商業交易十分頻繁，埃及是農業類型的文化；(B)兩河流域民族較複雜，埃及民族較單純。(C)兩河流域創造楔形文字，埃及創造象形文字。

41. () 中國在元帝國的種族階級政策、印度的種姓制度均將人民分為四個階級，各層的權利、身分、地位各有不同，社會大眾彼此有高低之分。請問：下列敘述何者錯誤？ (A)兩者最低階的民眾在社會中備受歧視 (B)種姓制度是阿利安人為維持血統純正而創，以便於統治 (C)元帝國的種族階級政策將蒙古人的地位提升至最高 (D)元帝國因種族階級政策而加速國家滅亡，印度種姓制度則被民眾唾棄而今不再採用。

《答案》D

詳解：(D)種姓制度至今仍深刻影響著今日的印度社會。

42. () 澳門著名景點「大三巴牌坊」，實際上是十九世紀燒毀的「聖保祿教堂」殘壁。它原本是耶穌會傳教士在十六世紀創建的神學院，是耶穌會傳教士進入亞洲學習中文的前哨站。聖保祿教堂是中國第一座巴洛克式建築，但深究細節，可見中國傳統造型的石獅子、

漢字和象徵日本的菊花等東方元素，彰顯了東西文藝的交流，也反映出澳門在歷史上的獨特性。依據上文敘述，請問下列何者正確？ (A)「大三巴牌坊」明明是教堂遺跡卻稱其為「牌坊」，是因為在地華人認為教堂前壁形似中國的傳統牌坊，顯見地方文化的影響 (B)教堂上會有日本菊花的樣式，可見當時日本在澳門具有強大影響力 (C)聖保祿教堂是由西班牙人在十六世紀赴澳門創建的 (D)教堂焚毀，應是傳教士與在地民眾衝突導致。

《答案》A

詳解：(B)耶穌會在亞洲傳教，與日本長期合作屬正常，但無法判定日本在澳門有強大影響力。(C)應為葡萄牙人。(D)無法從題幹中判斷，此外當時傳教士在地方傳教，也提供醫療服務，通常關係並不太差。

43. () 清韻睡完午覺醒來，意外的發現她穿越時空，來到了歐洲某一時代。為了能生存下去，她四處觀察人們生活方式，並在她的日記中寫下紀錄：「修道院的修士遠離塵囂，以懺悔方式進行修行，祈禱與工作是他們的生活格言。他們也抄寫古書、努力耕種土地，不僅為了修道院生活的自給自足，也為了救助窮人。在動盪不安的時代，旅人可以在修道院過夜，得到安全照顧。修士們還指導附近的孩子們拉丁文，講解《聖經》。」請問：清韻的日記中，還有可能會記錄下列何事？ (A)以彩色玻璃做鑲嵌藝術的教堂 (B)眾人批判猶太教的專制腐敗 (C)皇帝同時掌管政治與宗教事務 (D)學校指定學生閱讀《天方夜譚》。

《答案》A

詳解：由敘述可知，清韻所處的時代是西歐中古時代。(B)並無此事。(C)中古西歐為政教分離。(D)《天方夜譚》為阿拉伯的作品。

44. () 兩河流域與波斯古文化皆為世界史上重要的古文化之一，但因為這兩個古文化的環境條件等因素都不同，因而孕育出不同樣貌的文化特色。下列關於兩河流域與波斯古文化的特色描述中，何者正確？ (A)兩河流域的蘇美人曾建立一個橫跨歐、亞、非三洲的大帝國 (B)波斯人根據月亮的運行制定陰曆，並使用六十進位法 (C)波斯人信奉祆教，崇拜象徵光明的火，並認為世上有著善與惡兩股對立的勢力，善神終將戰勝惡神 (D)蘇美人發明了象形文字，並作為兩河流域之間通行的文字系統。

《答案》C

詳解：(A)為波斯。(B)此敘述為蘇美。(D)蘇美人發明了楔形文字而非象形文字。

45. () 古埃及以製作木乃伊聞名，甚至我們只要提到古埃及文化，大多人第一時間就會想到木乃伊這個特色。請問何以古埃及人需要製作木乃伊？ (A)製作木乃伊來作為展現古埃及藝術 (B)古埃及人相信人死後靈魂通過審判，就能死而復生，因此需要將死者的肉體以木乃伊的形式加以保存 (C)因為古埃及人對於人的逝去感到不捨，因此透過製作木乃伊的形式來加以緬懷 (D)希望能祈求尼羅河定期氾濫。

《答案》B

46. () 阿拉伯人與鄂圖曼土耳其人均曾建立橫跨三洲的大帝國。以下為幾位同學提出看法，請問：有幾位同學說法正確？

關關：阿拉伯帝國興起於八世紀，鄂圖曼帝國興起於十一世紀。

小軒：阿拉伯人與鄂圖曼土耳其人皆信仰伊斯蘭教。

康康：兩者在擴張的過程中皆與拜占庭帝國爆發軍事衝突。

麻希：阿拉伯帝國所占領的歐洲部分是巴爾幹半島，鄂圖曼帝國則是占領伊比利半島。

(A)1 位 (B)2 位 (C)3 位 (D)4 位。

《答案》B

詳解：阿拉伯帝國於八世紀，鄂圖曼帝國於十六世紀建立起橫跨三洲的大帝國。阿拉伯帝國占領的歐洲部分是伊比利半島，而鄂圖曼帝國占領的則是巴爾幹半島。

47. () 相傳努米托爾為其弟流放，並將他的兩個外孫丟入臺伯河中，裝孩子的籃子漂到岸邊，一隻母狼將嬰兒叼走並用奶水餵養。孩子後來被牧羊人收養，哥哥取名為羅慕路斯、弟弟為雷慕斯。兄弟長大後合力幫助外公重回王位，並在河岸建立新城，以哥哥的名字為城市命名。請問：關於這則神話傳說的歷史背景，下列何者正確？ (A)這則傳說是描述拜占庭建城的緣由 (B)建城的兩兄弟應屬於希臘人 (C)兩兄弟建城後不久，進入了王政時期 (D)這個民族以浪漫感性為其性格。

《答案》C

詳解：(A)羅馬。(B)義大利人。(D)務實性格。

48. () 這是當代重要宗教的經文內容：

我「乙」憑公義召你，
必攙扶你的手，保守你，
使你做眾民的中保，做外
邦人的光，開瞎子的眼，
領被囚的出牢獄，領坐黑
暗的出監牢。我是「乙」，
這是我的名。我必不將我的
榮耀歸給假神，也不將
我的稱讚歸給雕刻的偶像。
看哪，先前的事已經
成就，現在我將新事說明，
這事未發以前，我就
說給你們聽。

該經文認為，目前有太多假神，因此信徒只須對神跪拜，其餘假神都不須膜拜。此舉觸怒政府當局，並且開始迫害教徒。請問短文中的「乙」，應填上誰？ (A)穆罕默德 (B)耶和華 (C)阿拉 (D)耶穌。

《答案》B

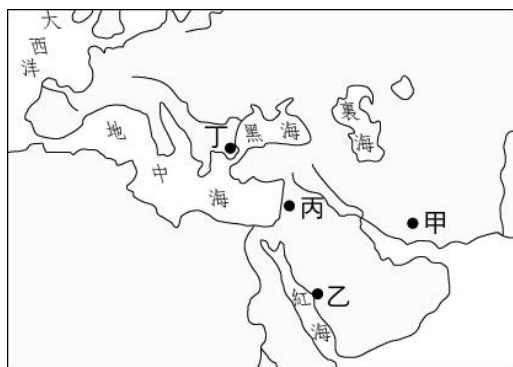
詳解：基督教強調一神教，且拒絕膜拜上帝，因此違背羅馬帝國的多神信仰和敬重皇帝，更遭受打壓。此外，耶穌並非「神」，而是先知、神子，故不選(D)。

49. ()附表是西元 2010 年基督教、佛教、印度教與伊斯蘭教的信仰者在世界各地分布的百分比。

請問：表中甲信仰的起源，應為附圖中的何處？

宗教信仰者地區	甲	乙	丙	丁
歐洲	25.7	2.7	0.1	0.3
北美洲	12.3	0.2	0.2	0.8
中南美洲	24.4	0.1	<0.1	0.1
撒哈拉以南非洲	23.8	15.5	0.2	<0.1
中東和北部非洲	0.6	19.8	0.2	0.1
亞洲及太平洋地區	13.2	61.7	99.3	98.7
合計	100	100	100	100

單位：％



(A)甲 (B)乙 (C)丙 (D)丁。

《答案》C

詳解：在歐洲甲信仰所占比例最重，可知應為基督教。基督教起源自丙，地中海東岸。

50. ()《伊斯坦堡——一座城市的記憶》為奧罕·帕慕克獲得西元 2005 年諾貝爾文學獎的名著，帕慕克以細膩的筆觸描寫這座曾經輝煌而今澹然，走過悠悠一千多年歲月的土耳其城市。請問：下列敘述何者正確？ (A)伊斯坦堡的歷史可追溯至希臘時代，當時名為尼尼微 (B)羅馬皇帝將之擴建，並改名為君士坦丁堡 (C)四世紀末羅馬帝國分裂，伊斯坦堡為西羅馬帝國首都 (D)伊斯坦堡位於義大利半島上，位置易守難攻。

《答案》B

詳解：(C)伊斯坦堡為拜占庭帝國首都。(D)伊斯坦堡位於歐亞交界處。

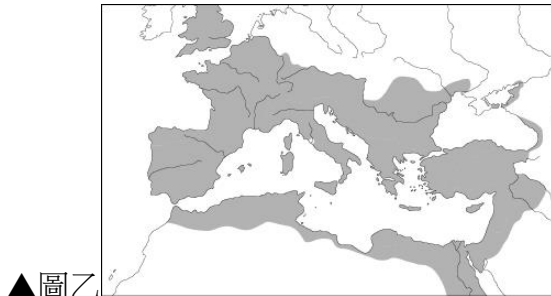
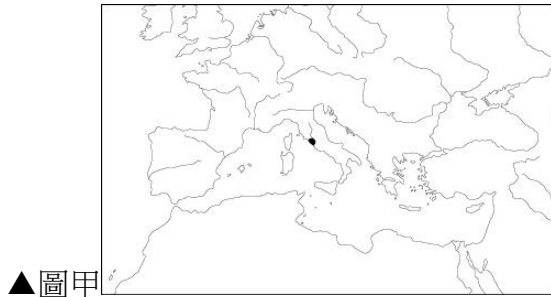
51. ()西元 2013 年美國發起了「黑人的命也是命(Black Lives Matter)」運動，起源於非裔美國人社群，抗議針對黑人的暴力和系統性歧視。請問從歷史的事件來看，下列哪個原因比較有可能是白人歧視黑人的原因？ (A)美洲是非洲罪犯的流放地 (B)黑人資本家剝削白人中產階級 (C)黑人帶來天花、霍亂等疾病 (D)歐洲引進大批黑人奴隸至美洲。

《答案》D

詳解：歐洲人從非洲捕捉大批黑人運到美洲從事奴工。將黑人視為奴隸的後代，是一種階級歧視。

二、題組

1. 請參考下面三張古文化勢力分布地圖及圖片，回答下列題目。

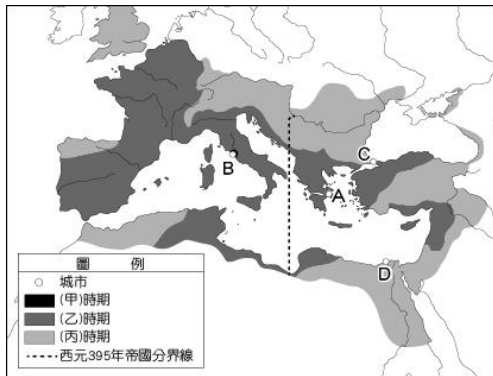


- () (1) 前三張圖片為不同時期的羅馬勢力範圍圖，請問下列何者的順序符合時序？ (A) 甲→乙→丙 (B) 乙→丙→甲 (C) 丙→甲→乙 (D) 甲→丙→乙。
- () (2) 「初期，由元老院進行決議後再交由執政官執行。但末期爆發政爭，有實力的軍事將領獨攬大權。」請問：這段敘述應是在哪一時期？ (A) 甲 (B) 乙 (C) 丙 (D) 以上皆非。
- () (3) 圖丁為羅馬帝國的重要遺跡，請問此遺跡所代表的精神與文化特色為何？ (A) 羅馬人天性浪漫，喜愛遊憩於河畔 (B) 羅馬人捨棄希臘化文化，獨樹一格 (C) 羅馬人喜侵略，故積極修築對外道路 (D) 羅馬人天性務實，會修建公共建築。

《答案》(1)D (2)C (3)D

詳解：(1) 甲為羅馬王政時期、乙為羅馬帝國時期、丙為羅馬共和時期。(2) 題幹所敘為羅馬共和後期的情況。(3) 丁為羅馬的實用工程，上方為引水道，下方為橋梁。

2. 附圖是□□國從建國到分裂的疆域擴張圖，請參閱並回答下列問題。



() (1) 根據傳說，□□國的初代國王是被母狼養大的雙胞胎，在○○市建城後，主導國家政策的就國王。請問這是地圖上哪個時期發生的事情？建城的地點又在哪裡？ (A) 甲時期、B 地點 (B) 乙時期、A 地點 (C) 丙時期、A 地點 (D) 分裂之後、B 地點。

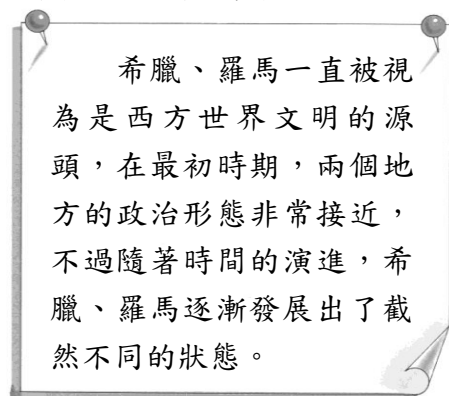
() (2) 如果到義大利的首都旅行，會看到很多設施上刻著「SPQR」，這四個字是一組拉丁文的縮寫，用中文翻譯是「元老院與□□公(人)民」，代表著國家主權掌握在元老院及民眾，請問 X 國在哪个時期是由元老院掌握大權？ (A) 甲時期 (B) 乙時期 (C) 丙時期 (D) 分裂之後。

() (3) 三世紀以後，□□國的政治腐敗，且受到日耳曼民族南下侵擾。四世紀時，某位皇帝在某地另立新都，加強對東方各省的控制，請問是哪位皇帝在地圖上的何處另立新都？ (A) 亞歷山大、D 地點 (B) 屋大維、B 地點 (C) 凱撒、A 地點 (D) 君士坦丁、C 地點。

《答案》(1)A (2)B (3)D

詳解：甲時期為王政時期、乙時期為共和時期、丙時期為帝國時期；A 地點為雅典、B 地點為羅馬、C 地點為拜占庭、D 地點為亞歷山卓。(1)由疆域擴張圖及 X 國的傳說，可知 X 國為羅馬，因此答案為 A：王政時期、羅馬。(2)羅馬在共和時期是由元老院議決國家大事，答案為 B。(3)西元四世紀，君士坦丁為加強對東方各省的控制，在拜占庭另立新都，答案為 D。

3. 請閱讀《西洋古代史》的引文，回答下列問題：



羅馬作為一個國家，
長久以來，歷經不同政治
型態的轉變，其中被譽為
是最棒的政治狀態，不僅
是維持了國家的強大力量，
並且避免單一勢力或
集團永久獨霸國家政治與
資源，元老院為捍衛這樣
的體制，甚至聯合暗殺了
當時的獨裁者。

不過，在西元前一世紀，
這個制度遭到毀壞，
雖然國家仍舊強盛了二百
多年，但最終面臨內亂與
外患的攻擊，造成分裂。

() (1)上文內容中提到希臘、羅馬「在最初時期，兩個地方的政治形態非常接近」，指的應該為何？ (A)都是高度的君主專制 (B)都是民主共和體制 (C)都曾採行城邦政治 (D)都是以貴族世襲方式統治國家。

() (2)上文內容中提到「被譽為是最棒的政治狀態」，指的應該是什麼？ (A)王政 (B)共和 (C)城邦 (D)帝國。

() (3)關於文末提到的「內亂與外患」，其中最為致命，最後導致整個國家滅亡的，是下列哪個問題？ (A)受到亞歷山大帝國的侵略 (B)日耳曼人入侵 (C)軍隊不願征戰 (D)設立東都。

《答案》(1)C (2)B (3)B

詳解：(1)希臘早期各城邦的政治形態並不固定，羅馬城邦則採取國王統治。(2)羅馬共和時期被譽為是羅馬最好的政治階段，除保有民主制度，國家同樣得到長足的發展。(3)羅馬帝國後期因為國內經濟問題、貧富差距擴大，統治者也經常出現既為紛爭，加上日耳曼人的入侵，最終導致帝國出現分裂。