

一、單一選擇題

1. ()某人於劉銘傳擔任臺灣巡撫時來到臺北發展，以下是他在臺北的生活情景，其中何者符合史實？(A)乘坐火車至高雄遊歷 (B)在基隆參觀億載金城炮臺 (C)聽到日本出兵攻打牡丹社的消息 (D)到郵政總局寄家書回家。

答案：(D)

解析：(A)鐵路未到高雄；(B)億載金城設於安平；(C)同治年間。

2. ()阿嬌是一位清帝國晚期住在淡水的年輕女性，從你所學歷史知識來看，她的生活應該不會出現下列哪一遭遇？(A)遇到來淡水經商的外國人 (B)服用西方傳教士開的西藥 (C)因幫忙家計成為採茶女工 (D)看到大批的糖由淡水港進口到臺灣。

答案：(D)

3. ()劉銘傳在臺灣推動近代化的自強新政，是受下列哪一件史事的刺激？(A)英法聯軍之役後開港通商 (B)牡丹社事件，日軍侵犯臺灣 (C)清法戰爭，法軍攻占基隆 (D)光緒初年，日本吞併琉球。

答案：(C)

解析：清法戰爭時，清廷派遣劉銘傳來臺防守，戰爭結束，政府下令臺灣建省，並派劉銘傳當任首任巡撫，展開許多現代化建設。

4. ()在《全臺詩》中收入了一首詩：「開闢荆榛逐荷夷，十年始克復先基。田橫尚有三千客，茹苦間關不忍離。」由內容推斷，寫下此首詩的歷史人物是何人？(A)鄭芝龍 (B)鄭成功 (C)鄭經 (D)施琅。

答案：(B)

解析：由詩中的「逐荷夷」可知為攻打荷蘭人、迫使其退出臺灣的鄭成功。

5. ()生活在清帝國早期的軒輊欲來臺發展，他可能會在臺灣看見以下哪些情景？(甲)政府核準攜家帶眷坐船來臺；(乙)持有渡臺證照的男士隻身來臺；(丙)山區劃界封山設番界；(丁)不懼黑水溝偷渡者甚多 (A)甲乙丙 (B)甲丙丁 (C)乙丙丁 (D)甲乙丁。

答案：(C)

6. ()電影「艋舺」在臺灣掀起一股懷舊風潮，也讓臺灣民眾重新認識艋舺剝皮寮的往日風華。請問：艋舺的崛起是在下列哪一個時期？(A)大航海時代 (B)鄭氏時期 (C)清帝國時期 (D)日治時期。

答案：(C)

7. ()清道光年間的一張契約文件上面，寫著「十個人共同承租一塊土地耕種」。請問：這份契約反映怎樣的歷史意義？(A)代表此時可自由來臺開墾，不必申請 (B)意味著開墾辛苦，有時採合資經營的方式 (C)當時為凝聚血緣，宗族皆採合資開墾 (D)官方不准個人承租，只能合作經營。

答案：(B)

解析：由於開墾需要大筆資金，故常合資開墾。

8. ()17世紀中期，哪一個國家幾乎控有全臺，成為當時唯一在臺的西方勢力？(A)英國 (B)西班牙 (C)荷蘭 (D)日本。

答案：(C)

解析：西元1642年，位於臺灣南部的荷蘭人出兵北上攻打位於臺灣北部的西班牙人，將其驅離，成為唯一統治臺灣的西方勢力。

9. ()1874年，日本藉口出兵臺灣。事後，中日雙方在北京議和，清廷須付賠償費，且承認日本出兵為「保民義舉」。

」。以下有關此事件的敘述何者正確？(A)使臺灣成為日本藩屬 (B)間接承認琉球為日本領土 (C)讓其他藩屬國對清政府感到失望 (D)讓臺灣原住民產生仇日情緒。

答案：(B)

解析：日本藉口保護琉球人民出兵臺灣，清廷承認此為保民義舉，等於認可日本出兵理由。

10. ()鄭成功率軍渡臺後，為解決軍隊之糧食供應問題，採用了「屯田駐兵」政策，此可由南臺灣各地所留存之地名得到印證。下列何者即屬之？(A)新營 (B)新港 (C)打狗 (D)安平。

答案：(A)

解析：今日臺南與高雄一帶地名中以「營」與「鎮」為名者，多為鄭氏時期所實施的軍屯所在地。

11. ()關於荷蘭占領臺灣的始末，下列論述何者正確？(A)曾企圖占領澎湖，但因明軍驅逐，轉而占領臺灣 (B)因對日貿易計畫受挫，而減少在臺駐軍 (C)荷蘭占領臺灣期間，經常與葡萄牙商人發生糾紛 (D)領臺期間共 16 年，比西班牙治臺時期短。

答案：(A)

解析：(B)是西班牙(C)日本商人(D)共 38 年，比西班牙統治時期長。

12. ()附圖代表臺灣北部三個分布區域相同的考古遺址，依據圖片上的說明及排列順序，最上層的應該是哪一考古遺址？



- (A)卑南文化 (B)長濱文化 (C)圓山文化 (D)十三行文化。

答案：(D)

解析：最上層為金屬器時代。

13. ()清帝國時期某一縣志提及：「客頭串同習水積匪，用溼漏小船，收載數百人擠入艙中，將艙蓋封釘，不使上下，乘黑夜出洋。……比到岸，恐人知覺，遇有沙汕，輒騙趕離船，名曰『放生』。」文中所言是在敘述閩粵居民橫渡黑水溝的艱辛與危險。他們橫渡黑水溝是欲前往何地？(A)臺灣 (B)菲律賓 (C)南洋 (D)琉球。

答案：(A)

解析：文出自《重修臺灣縣志》，描述渡臺先民往往受到客頭的詐騙，甚至被害身亡。

14. ()英商布萊恩於 1880 年到臺灣來購買樟腦，他直接從樟腦的主要出口港上岸，與臺灣人接洽貿易事宜。請問：他應該從何處上岸？(A)打狗 (B)雞籠 (C)淡水 (D)安平。

答案：(C)

解析：樟腦出產於中、北部，多由淡水出口。

15. ()清帝國時期，朱一貴、林爽文和戴潮春所引發的事件，有何共同特點？(A)皆導因於原住民與漢人的衝突 (B)皆以反清復明為主要的訴求 (C)皆是受到外國勢力的壓迫而引起叛變 (D)皆為反抗清廷的民變。

答案：(D)

16. ()佳葦在一次出遊中，無意間發現路旁有一座廟宇，如附圖。請問：這座廟宇主要是為了祭拜下列何者而設立的？




- (A)未出嫁而死亡的女性 (B)鄭氏渡臺時戰死的士兵 (C)勇敢抗清的義軍 (D)無主的

孤魂。

答案：(D)

解析：「有應公廟」為祭祀無主的孤魂而設立。

17. () 歷史老師畫了一張「史前人類生活」示意圖(如附圖)，希望可以幫助學生記憶。根據圖中內容判斷，老師正在教授哪一個範圍的課程？



- (A) 舊石器時代 (B) 新石器時代 (C) 青銅器時代 (D) 鐵器時代。

答案：(B)

解析：耕種、飼養家畜、製陶、磨製石器屬於新石器時代的文化特色。

18. () 某位清代官員認為：「臺地自去年倭人啟釁，外假復仇，內圖占地，狡謀已露，逆燄方張，不得已而有撫番開路之舉。」請問：這段文字可能是何人主張開山撫番的觀點？ (A) 沈有容 (B) 沈葆楨 (C) 劉銘傳 (D) 鄭成功。

答案：(B)

解析：從題幹中「臺地自去年倭人啟釁」可知是 1874 年的日軍侵臺事件，故此人應是沈葆楨。

19. () 清帝國的渡臺禁令中，不准攜眷的規定造成哪些現象？(甲)臺灣人口結構異常，男女比例懸殊；(乙)單身來臺，異地謀生急需互助，結拜風氣盛行；(丙)羅漢腳易滋生社會問題；(丁)漢番通婚，漢人與原住民血統混合；(戊)禁令實行嚴格，成功抑制漢人來臺 (A) 甲乙丙戊 (B) 乙丙丁戊

(C) 甲丙丁戊 (D) 甲乙丙丁。

答案：(D)

解析：(戊)禁令時嚴時鬆，民間偷渡風氣盛行。

20. () 文傑在探索臺灣地名之由來時發現，今天臺南市左鎮、高雄市左營等地名的由來應該與下列何者相關？ (A) 荷蘭軍隊駐紮地 (B) 原住民的部落 (C) 鄭氏時期的軍屯所在地 (D) 西班牙人的屯墾地。

答案：(C)

解析：今日臺南與高雄一帶地名中以「營」與「鎮」為名者，多為鄭氏時期所實施的軍屯所在之地。

21. () 附圖是南島語族分布圖，根據圖中的分布範圍來看，南島語族分布的最北端應在下列何處？



- (A) 日本 (B) 臺灣 (C) 菲律賓 (D) 中國東南沿海。

答案：(B)

22. () 喜勤在臺中市的土牛國小中看到「土牛禁墾碑」，若依所學的歷史知識判斷，下列有關此碑的內容敘述何者正確？ (A) 立碑時間為鄭經時期 (B) 立碑是受到當時實施海禁政策的影響 (C) 碑文註明挖一深溝為界，漢人不得越界侵墾 (D) 立碑的目的是為了隔離海商的侵擾。

答案：(C)

23. () 清代文人筆記中記載了一段臺灣平埔族人的觀感：「紅毛強，犯之無噍類，鄭氏來，紅毛畏之逃去，今鄭氏又為皇帝剿滅，盡為臣虜，皇帝真天威矣。」原住民口中的皇帝和代天行威的人物分別為何者？ (A) 順治皇帝

、鄭成功 (B)康熙皇帝、施琅 (C)康熙皇帝、吳三桂 (D)萬曆皇帝、沈有容。

答案：(B)

解析：康熙皇帝派施琅擊敗鄭氏政權。

24. ()清同治末年，中日簽訂專約，條約中記載：「茲以臺灣生番曾將日本國屬民等妄為加害，日本國本意唯番是問，遂遣兵往彼，向該生番等詰責。」請問：此約間接承認何地的人民為日本臣民？ (A)臺灣 (B)琉球 (C)釣魚臺 (D)澎湖。

答案：(B)

解析：清同治年間與日本有關的臺灣糾紛便是牡丹社事件，牡丹社事件後，日本併吞琉球。

25. ()附表為慧文對臺灣某一史前文化的概略整理。從表中內容判斷，此一史前文化應為下列何者？〔100.第一次基測〕

年代	距今 4500 ~ 6500 年
考古遺址	大多分布於西部河口與海岸
文化特徵	出土粗繩紋陶片、石斧等器物。推測居民以狩獵、漁撈、採集維生，可能種植根莖類作物。
重要意義	臺灣新石器時代早期文化的代表，在中國東南沿海也發現類型相似的文化

- (A)長濱文化 (B)卑南文化 (C)大坌坑文化 (D)十三行文化。

答案：(C)

解析：由表中內容可知為新石器時代，(B)(C)皆是，但(B)分布於東部，故選(C)。

26. ()幾年前，儲放在蘭嶼的核廢料曾引起當地原住民的不滿，並要求政府盡速撤離。請問：居住在蘭嶼的原住民屬於下列哪一族？ (A)泰雅族 (B)阿美族 (C)達悟族 (D)魯凱族。

答案：(C)

27. ()億昂利用暑假到臺南府城觀光，發現許多米郊、糖郊之類的木區。請問：區別米郊、糖郊的標準為何？ (A)不同的祖籍 (B)貿易的地點 (C)不同的貿易商 (D)貿易的商品。

答案：(D)

28. ()位於臺北的二二八和平公園中，陳列有臺灣最早的火車頭「騰雲號」，它令我們緬懷清末對臺灣近代化貢獻最大的哪一位巡撫？ (A)鄭經 (B)沈葆楨 (C)施琅 (D)劉銘傳。

答案：(D)

解析：劉銘傳當任臺灣巡撫期間，修建從基隆到臺北的鐵路，為臺灣最早的鐵路。

29. ()清帝國時期，臺灣糖的主要產地在臺灣南部，大多由何地出口？ (A)淡水 (B)鹿港 (C)打狗 (D)雞籠。

答案：(C)

30. ()從舊石器時代演進到新石器時代，人類文化生活的發展為何？ (A)從生食到用火熟食 (B)從使用石器到製作鐵器 (C)從磨製石器到燒製陶器 (D)從採集、漁獵到初步的農耕。

答案：(D)

31. ()小明來到了臺南某間醫院就診，此醫院前身是西方傳教士在臺南所建立的臺灣第一間西醫醫館。請問：此醫院應該是下列何者？ (A)新光醫院 (B)門諾醫院 (C)新樓醫院 (D)馬偕醫院。

答案：(C)

32. ()清廷因施琅的據理力爭而將臺灣納入版圖。請問：施琅能得以「力爭」是因為下列何事造成？ (A)平定民變 (B)擊退荷蘭人 (C)擊敗鄭氏政權 (D)掃蕩海盜倭寇。

答案：(C)


解析：施琅對清廷最大的貢獻為擊敗鄭氏政權

，收臺灣為清帝國版圖。

33. ()清乾隆時代，郭錫瑠溯新店溪開圳引水，完成的水圳嘉惠大臺北地區，為了感念郭錫瑠開鑿的功勞，此水圳被稱為什麼？ (A)曹公圳 (B)瑠公圳 (C)八堡圳 (D)貓霧揀圳。

答案：(B)

34. ()娜眉週末時和父母出去玩，發現某個博物館的館徽圖案如附圖。請問：娜眉最可能去下列哪一縣市遊玩？



- (A)新北市 (B)臺東縣 (C)臺南市 (D)宜蘭縣。

答案：(B)

解析：人獸形玉質耳飾為卑南文化的出土文物，卑南文化遺址位於臺東縣。

35. ()17世紀前期，臺灣是海商顏思齊、鄭芝龍的大本營。請問：其勢力範圍在今天何處？ (A)臺南、高雄一帶 (B)雲林、嘉義一帶 (C)新竹、苗栗一帶 (D)花蓮、臺東一帶。

答案：(B)

解析：顏思齊、鄭芝龍曾招募漢人開墾今日雲林、嘉義一帶作為據點。

36. ()周慶與同學在歷史課堂上進行討論，由附圖中討論的內容可推論其主題為何？

當時民間信仰影響大，居民以打獵為生，居無定所，傳教工作難以持續。

各社設立小學，番人多學習羅馬字，而且還能書寫紅毛字。



- (A)荷蘭人在臺灣傳教的情況 (B)西班牙人在臺灣的統治 (C)日本海盜在臺灣的活動 (D)漢人在臺灣開墾的情形。

答案：(A)

解析：由「羅馬字、紅毛字」可知，討論的是荷蘭人教西拉雅族用羅馬字母拼寫自己的語言。

37. ()有位學者指出：「茶、糖、樟腦的出口總值占全部出口總值之94%，是造成此時期臺灣出超的主要因素。其中，茶和樟腦由於主要產於山區，不但促進臺灣邊際土地的利用，也加速了邊區的拓展。但拓展結果多少都侵犯了原住民原有的生活領域。」這段話最可能是討論下列何者？〔100.第一次基測修訂〕 (A)鄭氏的拓墾與海外貿易 (B)康熙將臺灣納入版圖的影響 (C)臺灣開港後的經濟、社會發展 (D)清廷實施渡臺禁令的影響。

答案：(C)

38. ()十七世紀時，有封信函中提到：「今年有兩艘船前往我們統治的雞籠，除了補給外，也負責購買中國商品運回我國的根據地馬尼拉，但船隻卻遲遲未回；且原先每年從中國與澳門前來馬尼拉貿易的船隻也還沒進港。我擔心若進口貨物不足，我們會蒙受許多的損失。」根據上文判斷，此封信函最可能是下列何者之間的通信？〔109.會考補考〕 (A)葡萄牙使節給明朝皇帝 (B)鄭經給英國東印度公司 (C)臺灣長官給巴達維亞總督 (D)菲律賓總督給西班牙國王。

答案：(D)

解析：17世紀，西班牙以菲律賓馬尼拉為根據地，與周遭東亞區域發展貿易，並曾統治基隆、淡水。

39. ()多元化的社會與國際化的地位，使臺灣自古以來即呈現多樣不同的文化色彩。請問：17世紀時，曾有哪些西方勢力在臺灣分別據有南、北部做為國際貿易中心和傳教的地區？ (A)日本、荷蘭 (B)荷蘭、西班牙 (C)

英國、荷蘭 (D)日本、西班牙。

答案：(B)

解析：17 世紀，荷蘭人從大員（今臺南安平）登陸，開始統治臺灣南部；西班牙人為了與荷蘭人競爭，陸續占領雞籠、淡水等地，統治臺灣北部。

40. ()有本臺灣史分析某國占領臺灣的目的，如附表所示。根據表中內容判斷，「某國」最可能是下列何者？〔101.基測〕

政治軍事	對抗當時占領南臺灣的歐洲國家，並確保馬尼拉的安全。
經濟	希望維持與中、日兩國貿易的順暢，並吸引漢人和日本人至北臺灣貿易。
宗教	推展海外傳教事業。

(A)荷蘭 (B)英國 (C)法國 (D)西班牙。

答案：(D)

41. ()(甲)土地公；(乙)王爺；(丙)媽祖；(丁)清水祖師，上述哪些是早期來臺移民所共同供奉的神明？ (A)甲乙丙 (B)甲乙丁 (C)甲丙丁 (D)乙丙丁。

答案：(A)

解析：(丁)泉州人。

42. ()一群有血緣關係的同姓者，以來臺第一代祖先作為祭祀對象，這種祭祀對象應是指下列何者？ (A)開臺祖 (B)唐山祖 (C)媽祖 (D)土地公。

答案：(A)

43. ()為了重現鄭成功當時所使用的中式帆船，從 2011 年規畫，歷經船桅斷裂終於又在 2019 年 2 月 28 日重新啟用開放參觀，這是國內第一艘等比例打造的鄭成功仿古船，目前放置在 1661 臺灣船園區中供民眾參觀。請問：下列何者是鄭成功的事蹟？ (A)成為東亞海域霸主 (B)驅逐臺灣的外國

人勢力 (C)以澳門為反清根據地 (D)被清廷封為「延平王」。

答案：(B)

解析：(A)為鄭芝龍；(C)澳門當時為葡萄牙所占；(D)被南明王室所封。

44. ()下列何人接受明朝招安後，勢力迅速擴大，成為東亞海域霸主，壟斷中國對外貿易？ (A)鄭芝龍 (B)鄭成功 (C)鄭經 (D)鄭克塽。

答案：(A)

解析：鄭芝龍接受明朝招安後，壟斷中國對外貿易。

45. ()有關「十三行文化」的敘述，下列何者錯誤？ (A)發現地點在臺東縣長濱鄉 (B)經濟活動以農業為主 (C)出土煉鐵作坊說明當時已經進入鐵器時代 (D)與其他地區貿易往來密切。

答案：(A)

解析：(A)新北市八里區。

46. ()嘉慶年間，海盜侵擾蛤仔難，平定後，清廷在此地設立哪一行政區加強治理？ (A)淡水廳 (B)宜蘭縣 (C)噶瑪蘭廳 (D)諸羅縣。

答案：(C)

47. ()「仙拚仙，拚死猴齊天」用來形容清帝國時期臺灣械鬥的社會現象。械鬥的原因有很多(甲)因為當時渡臺禁令的影響，羅漢腳眾多，(乙)又因語言、祖籍不同產生隔閡，(丙)當移民為爭奪水源、土地、利益時，就容易發生衝突。(丁)為防禦械鬥，而設計寺廟。配合臺灣歷史的發展來看上述敘述，其中哪一項與史實不符而需要修改？ (A)甲 (B)乙 (C)丙 (D)丁。

答案：(D)

解析：設計隘門作為械鬥時防禦的重要設施。

48. ()清廷將臺灣納入版圖後，初期採消極態度統治，直到下列哪一事件發生後

，才轉而積極建設，增強防務？〔92.第二次基測修訂〕（A）開港通商（B）日軍犯臺（C）清法戰爭（D）臺灣建省。

答案：（B）

49. （ ）附表為 17 世紀臺灣新港社語言中的外來字彙表。請問：17 世紀新港社語言，主要為當時哪一原住民族的語文？

編號	新港語	中文翻譯
1	Agoualilif	鑰匙
2	Deus	上帝
3	Kakato	剪刀
4	Lalto	毛瑟槍
5	Sackig	鐘

（A）西拉雅族（B）噶瑪蘭族（C）太魯閣族（D）凱達格蘭族。

答案：（A）

解析：荷蘭人為了方便傳教用羅馬字母拼寫西拉雅族語，因為新港社留下最多這種文獻，故又稱為「新港文書」。

50. （ ）清帝國統治時代後期，沈葆楨在臺灣積極修建炮臺，其最主要的目的為何？〔97.第二次基測修訂〕（A）防止群眾叛亂（B）抵禦外來侵略（C）展示雄厚國力（D）對外爭奪資源。

答案：（B）

51. （ ）日軍侵臺時，清廷派沈葆楨來臺善後，沈葆楨建議清廷派某省的巡撫冬、春駐臺，依當時的行政區劃，應由何省的巡撫負責駐臺？（A）浙江省（B）廣東省（C）廣西省（D）福建省。

答案：（D）

解析：（D）當時臺灣隸屬福建省。

52. （ ）小柏研究 1640～1653 年「荷人在臺財務收支表」後發現，荷蘭聯合東印度公司在臺灣賺取了極大的利潤。請問：他們主要是將臺灣哪些商品外銷

以賺取利潤？（A）茶葉、樟腦、蔗糖（B）黃金、香蕉、蔗糖（C）鹿皮、稻米、蔗糖（D）豌豆、番茄、釋迦。

答案：（C）

解析：大航海時代下的臺灣，稻米、蔗糖、鹿皮是對外貿易的重要商品。

53. （ ）在臺灣目前發現的眾多史前文化中，新北市八里區與臺東市皆設有史前文化博物館，展示哪些文物供人參觀研究？（A）十三行文化、卑南文化（B）卑南文化、圓山文化（C）長濱文化、圓山文化（D）十三行文化、圓山文化。

答案：（A）

54. （ ）臺灣的茶葉在國際市場上享有非常高的評價，通常是銷往哪些國家？（A）美國、東南亞（B）中國大陸、日本（C）英國、印度（D）澳洲、法國。

答案：（A）

55. （ ）附圖是佳維去圖書館作有關臺灣行政區劃報告時所找到的地圖。請問：他的報告內容可能是臺灣歷史發展中的哪一時期？



（A）鄭氏時期（B）雍正時期（C）嘉慶時期（D）康熙時期。

答案：（C）

解析：嘉慶年間設一府四縣三廳。

二、題組

1. 億載金城屬於稜堡式的方形炮臺，共占地 3 公頃，乃由法國工程師設計，建築材料

除購自廈門、泉州等地外，還挪用了當時已傾頹的熱蘭遮城牆磚。請問：

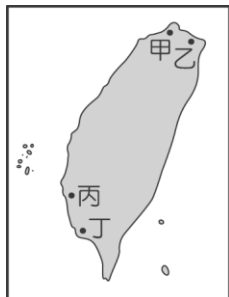
- () (1) 此建築創建者是清末哪一官吏？
(A) 沈葆楨 (B) 劉銘傳 (C) 沈有容 (D) 施琅。
- () (2) 這一防禦建築是在以下哪一事件之後而籌設？ (A) 清法戰爭 (B) 英法聯軍之役 (C) 牡丹社事件 (D) 戴潮春事件。

答案：(1)(A)；(2)(C)

解析：牡丹社事件之後，沈葆楨奉命來臺建設，於臺南修築億載金城以做防禦。

2. 「用了這筆錢，我們在當地建立了這所學堂，並取名為『牛津學堂』。在回憶此事時，我仍對家鄉朋友的慷慨捐助，感到感謝與欣悅。」這是出自某位傳教士回憶錄的內文，請根據上文敘述，回答下列問題：

- () (1) 上文中的「我」是指下列何人？
(A) 馬雅各 (B) 巴克禮 (C) 馬偕 (D) 甘為霖。
- () (2) 清帝國時期，傳教士可到臺灣設立學堂，主要是因為下列哪一事件的發生？ (A) 朱一貴事件 (B) 英法聯軍之役 (C) 渡臺禁令的頒布 (D) 戴潮春事件。
- () (3) 若是想要參觀文中所述的「牛津學堂」，應該到附圖中的哪一地方？



- (A) 甲 (B) 乙 (C) 丙 (D) 丁。

答案：(1)(C)；(2)(B)；(3)(A)