

111-1 國一地理題庫

1. ( C ) 關於大、小比例尺的比較，以下何者正確？

	(A) 涵蓋範圍	(B) 內容清晰度	(C) 比例尺	(D) 適合繪製種類
大比例尺	較大	較簡略	1：10,000	世界全圖
小比例尺	較小	較詳細	1：100,000	臺中市街道圖

2. ( A ) 教室公布欄中，有四張圖幅相同大小的地圖。請問：哪張地圖使用的比例尺最小？

- (A)世界地圖
- (B)亞洲全圖
- (C)臺灣地圖
- (D)新北市地圖

3. ( D ) 我國漁業船隻航行於南海進行作業時，經常和周圍國家發生糾紛，其主要爭議最可能為下列何者？

- (A)領海主權爭端
- (B)領土畫分不清
- (C)領空航行限制
- (D)經濟海域重疊

4. ( D ) 米奇從臺灣搭乘飛機出國時，當飛機穿越哪條經線，米奇必須調整手錶上的日期？

- (A) 60°
- (B) 23.5°
- (C) 90°
- (D) 180°

5. ( B ) 從外太空觀測時，地球是一個美麗的藍色星球。請問：這種現象代表了地球的何種特性？

- (A)地勢高聳
- (B)海域廣大
- (C)植被豐富
- (D)陽光強烈

6. ( C ) 黑面琵鷺每年都會成群飛到臺灣沿海潟湖覓食過冬，如果要觀賞其美姿，應到何處海岸才能達成願望？

- (A)西北部
- (B)東北部
- (C)西南部
- (D)東南部

1. ( D ) 根據附圖資料判斷，此種海岸類型具有下列哪項特色？

- (A)多泥沙分布
- (B)海岸線平直
- (C)沿岸海水淺
- (D)波浪侵蝕盛

2. ( A ) 臺灣地區昔日東、西部之間的交通，往來不便，其主要原因為何？

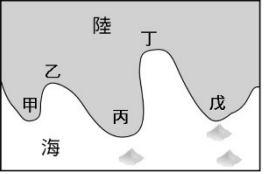
- (A)山地的阻隔
- (B)河川東西橫流
- (C)地質條件不佳
- (D)森林密布難以通行

3. ( A ) 綠島、龜山島周圍海域皆出現滾燙的海底溫泉，由此可判斷這兩個島嶼的成因應屬於下列何者？

- (A)火山島
- (B)大陸島
- (C)沙洲島
- (D)珊瑚礁島

4. ( B ) 上地理課時，老師要同學介紹正確的？

- (B)阿金：此海岸為岬灣海岸
- (D)阿禎：此種海岸適合發展養



附圖的海岸地形。請問：哪位同學的說法是

- (A)阿韋：乙、丙是屬於海灣
- (C)阿瑜：高雄港是屬於此種海岸地形
- 殖漁業
- 者正確？

5. ( B ) 下列有關等高線圖的描述，何

- (A)由開放的曲線所組成
- (B)可觀察出地形的起伏與高度
- (C)地形起伏愈陡峭，分布愈稀疏
- (D)地形起伏愈平緩，分布愈密集

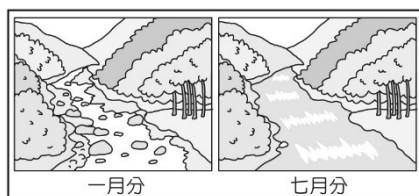
6. ( C ) 有一隻頑皮的美人魚，因為貪玩迷路了，她來到一個不知名的海岸附近，驚見有人類在潛水，為了不讓這些人類發現，躲躲藏藏地還撞到大塊的礁石，痛得她差點暈了過去，還好海裡面七彩繽紛的生物轉移了她的注意力。請問：美人魚可能是到了臺灣哪個部分的海岸？

- (A)東部
- (B)西部
- (C)南部
- (D)北部

1. ( C ) 臺灣冬季具有山地氣溫較低，平地較溫暖的特性，此種特性主要受到下列哪個因素的影響？

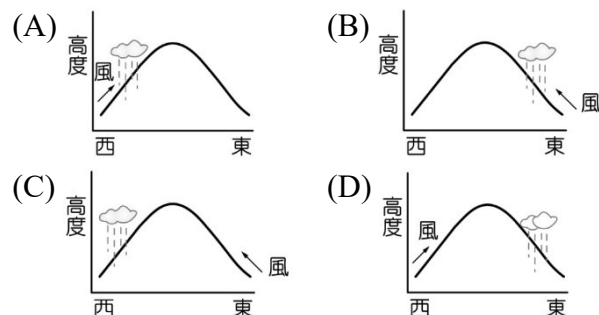
- (A)季風
- (B)緯度
- (C)地形
- (D)風向

2. ( D ) 附圖為阿華在不同  
現出臺灣河川的某  
能為何？  
(B)夏季時多颱風  
(C)造成河口地層  
(D)須建水庫調節供水



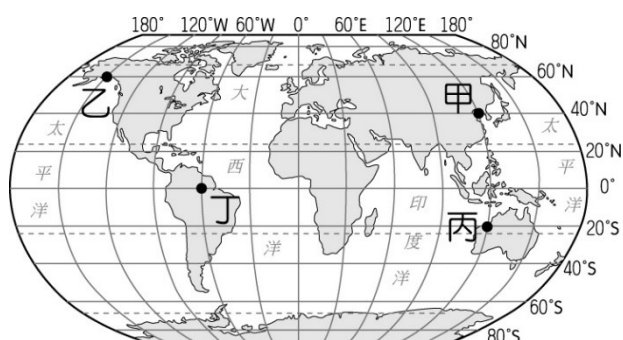
月分於住家附近河川所看到的景觀，該圖呈  
種特性。請問：該特性對於臺灣的影響較可  
(A)地下水位持續降低  
侵襲  
下陷

3. ( A ) 每年夏季時，臺灣西南地區的降水量相當豐沛，相對於背風坡地區，則降水明顯較少。請問：以上描述的降水型態是指下列何者？



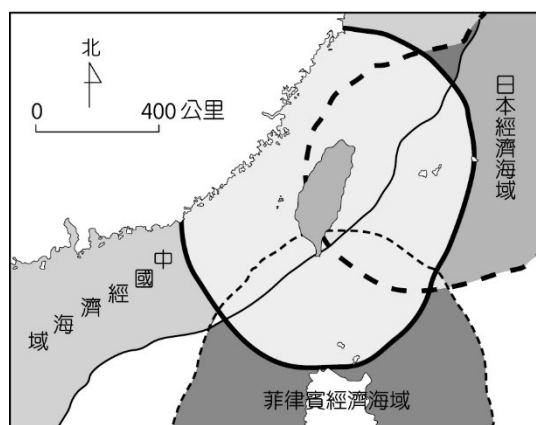
4. ( A ) 空氣流動產生風，其最直接的原因為何？  
(A)氣壓不同 (B)降水量不同  
(C)溼度不同 (D)氣溫不同
5. ( B ) 若石門水庫的水位下降，必須限水或停水，下列哪個地區的居民生活將受影響？  
(A)宜蘭縣 (B)桃園市  
(C)臺中市 (D)彰化縣
6. ( D ) 水資源以各種不同的方式存在。臺灣地區水資源最主要來源是下列何者？  
(A)河水 (B)湖水  
(C)海水 (D)降水

■ 附圖為世界經緯網圖，請回答下列問題：



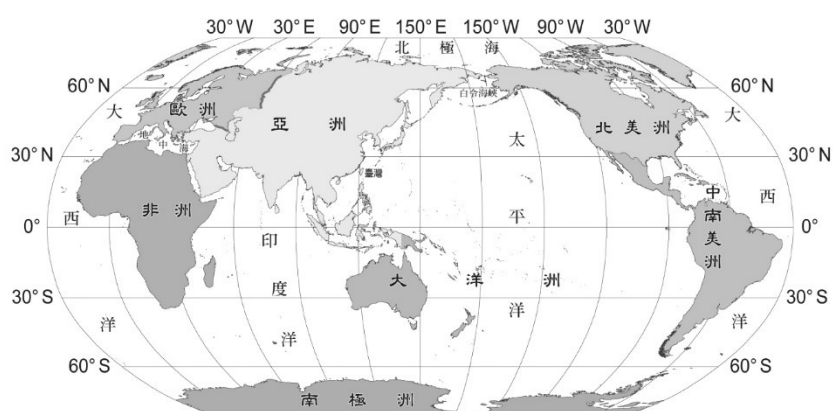
1. ( A ) 赤道是最長的緯線，下列對於「赤道」的描述，何者正確？  
(A)緯度0度 (B)緯度90度  
(C)又稱子午線 (D)與回歸線等長
2. ( B ) 連接南北兩極的縱向直線如何稱呼？  
(A)緯線 (B)經線  
(C)赤道 (D)回歸線
3. ( A ) 圖中甲、乙、丙、丁四個都市和臺灣同位於相同半球的是哪個都市？  
(A)甲 (B)乙  
(C)丙 (D)丁
4. ( D ) 有四架飛機分別從甲、乙、丙、丁四個都市，以相同的速度自西向東出發繞行地球一圈。請問：從哪個都市出發的飛機所花的時間最長，最慢完成環球一周的活動？  
(A)甲 (B)乙  
(C)丙 (D)丁
5. ( B ) 導演李安在冬至前後想拍攝冰天雪地的寒冬景象，前往哪個都市取景會有最好的效果？  
(A)甲 (B)乙  
(C)丙 (D)丁

■ 釣魚臺列嶼、東沙群島一直以來因與各國的經濟海域重疊，造成主權紛爭不斷。請依據附圖，回答下列問題：



6. (A) 臺灣島的位置位於釣魚臺列嶼的哪個方向？  
 (A)西南方 (B)西北方  
 (C)東北方 (D)東南方
7. (B) 由領海基線向外推至 200 哩的海域範圍，稱為「經濟海域」，海域內擁有漁、礦等資源的開發與管理權力，根據此定義，哪個國家對於釣魚臺列嶼沒有經濟開發的相關權力呢？  
 (A)日本 (B)菲律賓  
 (C)中國 (D)臺灣
8. (C) 多年來，東沙群島為南海主權爭議的區域。請問：在此爭議之中，哪個國家無權對東沙群島的經濟開採權問題提出異議？  
 (A)菲律賓 (B)臺灣  
 (C)日本 (D)中國

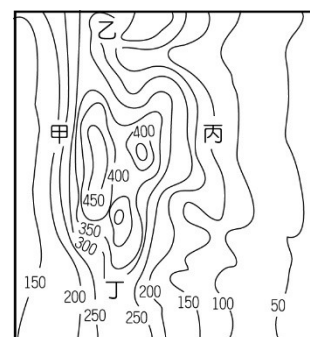
■ 附圖為全球海陸分布圖，請回答下列問題：



9. (B) 世界七大洲中，面積最大的是哪一洲？  
 (A)歐洲 (B)亞洲  
 (C)美洲 (D)非洲
10. (B) 觀察地圖中的緯線分布後，請推測北回歸線可能經過哪些洲？  
 (A)亞洲、非洲、大洋洲  
 (B)中南美洲、非洲、亞洲  
 (C)北美洲、歐洲、亞洲  
 (D)北美洲、非洲、亞洲

■ 附圖為翰林國中地理老師請同學繪製的家鄉地形圖。請問：

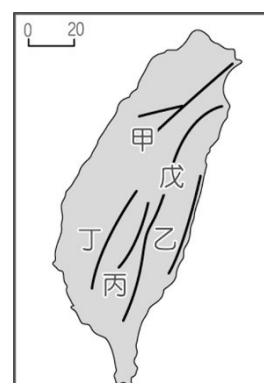
1. ( B ) 圖中圓滑封閉的曲線稱為什麼？  
 (A)等深線  
 (B)等高線  
 (C)等溫線  
 (D)等壓線
2. ( A ) 圖中坡面最陡、最適合攀岩訓練的是下列何者？  
 (A)甲  
 (B)乙  
 (C)丙  
 (D)丁
3. ( D ) 圖中哪個地點高度最高？  
 (A)甲  
 (B)乙  
 (C)丙  
 (D)丁



■ 附圖為臺灣的五大山脈簡圖。

請問：

4. ( A ) 宜蘭平原介於圖中哪兩座山脈之間？  
 (A)甲、戊  
 (B)乙、戊  
 (C)丙、丁  
 (D)甲、丁
5. ( A ) 圖中哪座山脈呈東北—西南走向，且是新北、桃園、新竹、宜蘭等地河川的源頭？  
 (A)甲  
 (B)乙  
 (C)丁  
 (D)戊



■ 附圖為臺灣某處海岸地形的航空照片圖。

請問：

6. ( D ) 此區為淺水的海灣，常被開闢成魚塭或是候鳥的棲息地，它是哪種海岸地形？  
 (A)沙洲  
 (B)沙嘴  
 (C)岬角  
 (D)潟湖
7. ( A ) 下列哪個港口是利用此種地形開闢而成的？  
 (A)高雄港  
 (B)蘇澳港  
 (C)基隆港  
 (D)臺中港
8. ( A ) 如果想對此類型地形的土地利用情形進行調查研究，應前往下列哪個行政區？  
 (A)臺南市  
 (B)花蓮縣  
 (C)南投縣  
 (D)新北市



■ 清初郁永河曾來臺採礦，而在《裨海紀遊》中寫下當時在臺灣見到的風土民情，書中曾描述臺灣的情形如下：  
 「臺灣西向俯汪洋，東望層巒千里長；一片平沙皆沃土，誰為長慮教耕桑？」

請問：

9. ( D ) 上文中「臺灣西向俯汪洋」，其中的「汪洋」指的是哪個海域？  
 (A)東海  
 (B)太平洋  
 (C)巴士海峽  
 (D)臺灣海峽

10. ( A ) 由詩中「一片平沙皆沃土」判斷，該地區的海岸景觀應具有下列哪項特色？
- (A)沙洲與潟湖
  - (B)珊瑚礁遍布
  - (C)高聳的懸崖
  - (D)曲折的港灣

■ 請根據題目的敘述，辨別是屬於水循環中的哪個過程。

(A)蒸發 (B)凝結 (C)降水

- 1. ( B ) 大氣中的水氣冷卻。
- 2. ( C ) 大氣中的水氣變成雲之後，便會形成降水。
- 3. ( A ) 地表及海洋中的水，受熱成為水氣進入大氣中。

■ 下表為四個都市最暖月與最冷月溫度變化的情形。

	甲都市	乙都市	丙都市	丁都市
一月均溫	-2℃	16℃	-10℃	20℃
七月均溫	18℃	28℃	28℃	22℃

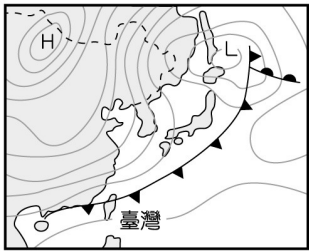
請問：

- 4. ( C ) 以下都市中，以何者年溫差最大？  
(A)甲都市 (B)乙都市  
(C)丙都市 (D)丁都市
- 5. ( B ) 從一月均溫及七月均溫的溫度變化情形判斷，宜蘭最接近表格中的哪座都市？  
(A)甲都市 (B)乙都市  
(C)丙都市 (D)丁都市

■ 附圖為「臺灣地區某日之地面天氣圖」。

請問：

- 6. ( D ) 附圖中圓滑的封閉曲線稱為什麼？  
(A)等高線  
(B)等溫線  
(C)等深線  
(D)等壓線
- 7. ( C ) 圖中「H」代表的是下列何者？  
(A)颱風 (B)低氣壓  
(C)高氣壓 (D)熱帶風暴
- 8. ( B ) 此時通過臺灣上空的圖示，代表下列何者？  
(A)暖鋒 (B)冷鋒  
(C)颱風 (D)滯留鋒



■ 附圖為「臺灣河川分布圖」，甲、乙、丙、丁代表河川。

請問：

- 9. ( D ) 附圖中哪條河川流域面積最廣大？  
(A)甲 (B)乙  
(C)丙 (D)丁
- 10. ( C ) 日月潭水庫水質較為純淨，因此提供下游居民良好的水源灌溉，種出著名的西螺米。請問：日月潭水庫的水源主要來自於下列哪條河川？  
(A)甲 (B)乙  
(C)丙 (D)丁

