

一、單題

1. () 某博物館舉辦「全球美食大發現」特展，介紹馬鈴薯、玉米、可可豆等來自□□的作物，以及其如何改變世界飲食文化。導覽員說道：「若沒有哥倫布當年橫渡大西洋到此地，這些食物或許不會這麼快傳入歐洲，甚至改變歷史。」空格內最適合填入下列何者？ (A)亞洲 (B)美洲 (C)非洲 (D)大洋洲。

答案：(B)

2. () 腓尼基人是古代地中海的航海強權，精通造船與航海技術，掌握海流與風向。他們在地中海建立廣泛的貿易網絡，販售染料、玻璃與金屬，為當時重要的海上貿易民族。該民族的重要事蹟最可能包括下列何者？ (A)將象形文字改良後傳播至歐洲 (B)制定陰曆，將一年分為十二個月 (C)制定太陽曆並建造金字塔 (D)創立一神信仰，以耶和華為唯一真神。

答案：(A)

3. () 15世紀末，歐洲探險隊抵達美洲，開始接觸到許多當地特有的作物，包括被當作貨幣與飲品使用的可可。起初他們無法接受可可的苦味，隨著可可被加上糖等配料調製後，逐漸受到歐洲人喜愛，在歐洲流行起來。下列何者是將可可帶回歐洲的探險家？ (A)狄亞士 (B)哥倫布 (C)達伽馬 (D)麥哲倫。

答案：(B)

4. () 阿需正在做作業，老師請他收集有關主題的資料，阿需找到的資料如下。請問：阿需課堂中進行的應該是哪個主題？(A)希臘城邦與政治 (B)波希戰爭 (C)馬其頓王國崛起 (D)蘇美文明。

答案：(A)

- | |
|---|
| <p>1. 希臘地區多山，地形崎嶇</p> <p>2. 斯巴達以勇武著稱</p> <p>3. 雅典民主政治</p> <p>4. 城鎮規模不大</p> <p>5. 有結盟、也有敵對關係</p> |
|---|

5. () 附圖為 1764 年左右發明的珍妮紡紗機，發明者是英國人哈格里夫斯，他因為妻子的紡紗機無意間被撞倒而獲得手搖式多錠紡紗的靈感。請問：這臺紡織機見證了下列何種時代來臨？(A)文藝復興 (B)科學革命 (C)啟蒙運動 (D)工業革命。

答案：(D)



6. () 2021 年 2 月緬甸政變，主因為緬甸軍方認為 2021 年 2 月的選舉存在舞弊與不公，因此發動政變，軟禁民主鬥士翁山蘇姬與總統溫敏。軍方也切斷網路，阻絕人民取得資訊的可能，某些外國企業選擇暫時歇業，保護自身廠房。緬甸人民示威遊行遭到鎮壓，統計到 2021 年 3 月底為止，已有三百餘人喪生。請問：緬甸軍方的措施，違反啟蒙運動時期的哪一思潮？ (A)自由市場 (B)理性主義 (C)三權分立 (D)天賦人權。

答案：(D)

7. () 阿奇研究歐洲男性平均身高時發現，歐洲男性身高從羅馬帝國時期到□□□□時期前持續增加至 173 公分，到了□□□□時期卻變矮成 167 公分，之後又慢慢增加到現在平均為 177 公分。阿奇認為是因為都市化、居住環境壅擠髒亂、疾病叢生，導致在□□□□時期，男性攝取營養不足，從而造成身高變矮。上文缺空處應填入下列何者？ (A)科學革命 (B)共產主義 (C)工業革命 (D)啟蒙運動。

答案：(C)

8. () 小說《倚天屠龍記》裡，多次提到明教，他們崇拜火，喜歡穿白衣，最後男主角的婢女為了頂替母親的罪，選擇回到波斯代替母親擔任該教的聖女。請問：根據上文所述，明教很有可能是下列哪一個宗教的分支？ (A)佛教 (B)祆教 (C)猶太教 (D)伊斯蘭教。

答案：(B)

9. () 伽利略過世時，托斯卡納大公希望把他葬在佛羅倫斯聖十字教堂裡，卻遭受教會的反對，最後只能葬在禮拜堂附近的小屋內。請問：教會反對的理由為何？ (A)提倡演繹法 (B)提出三大運動定律 (C)掀起哥白尼革命 (D)發明望遠鏡。

答案：(C)

10. () 16 世紀末，原本的海上霸權逐漸沒落，荷蘭、英國崛起，取代其地位。請問：原本的海上霸權位於附圖中何地？



(A)甲 (B)乙 (C)丙 (D)丁。

答案：(A)

11. () 下列是曉晨在書上看到的一段內容，文中東方帝國首都指的是哪一個城市？

1053 年，東方教會牧首將首都的拉丁禮教堂全數關閉，因其拒絕使用希臘禮拜儀式。並致函教宗所在地，指責教宗篡改《聖經》內容以及教義，質問西方教會聖餐用無酵餅是源自猶太教異端、安息日守大齋、准許食未出血的肉、四旬大齋期不唱《阿肋路亞》等。隔年，教宗指派代表到東方帝國首都與希臘教會協商，但使節團並未達成任務。最後，教宗和東方首都牧首互相將對方破門，象徵著東、西方教會的決裂。
(註：牧首：相當於西方教會的主教。破門：將神職人員逐出教會。)

(A)君士坦丁堡 (B)羅馬 (C)迦太基 (D)雅典。

答案：(A)

12. () 大赦指的是天主教徒在領受聖事後，雖然罪過已獲得赦免，但仍然會受制於罪過遺留下的思想或行為，被稱為「暫罰」，這時候必須透過教會頒布大赦，給信徒分施基督及歷代聖人的功勞寶藏，使自身的暫罰得以在神前獲得免除。各時代對於如何抵銷暫罰各有不同的詮釋，中世紀後期，教會為籌措資金，開始販售大赦證明書（由羊皮紙製成的「紀念證書」），至此大赦淪為教會的斂財工具。上述事件造成下列何者的發生？

(A)教宗要求十字軍出征 (B)開始進行宗教改革 (C)教徒可直接閱讀《聖經》
(D)基督教分裂為天主教與東正教。

答案：(B)

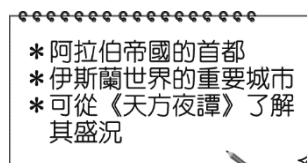
13. () 傑儒正在看一部冒險電影，背景設定在西元 8 世紀間繁榮的某帝國首都，街道上遍布商人從各國帶來的貨品，可知其工商業發達。此帝國剛打敗了東方強國，而主角即將被派去中亞的城市學習造紙的技術。請問：這部電影的背景最可能是設定在下列哪一座城市？ (A)長安 (B)羅馬 (C)威尼斯 (D)巴格達。

答案：(D)

14. () 小明研讀《中國通史》，發現唐玄宗時曾有大將高仙芝率軍與大食軍隊在中亞交戰。「大食」是指下列何國？ (A)羅馬帝國 (B)阿拉伯帝國 (C)鄂圖曼帝國 (D)波斯帝國。

答案：(B)

15. () 附圖是老師介紹中世紀某城市的特色。請問：這應該是哪個城市？



(A)雅典 (B)巴格達 (C)耶路撒冷 (D)伊斯坦堡。

答案：(B)

16. () 亞歷山大稱霸希臘半島後，率兵征服波斯、埃及等地，建立起橫跨歐、亞、非三洲的大帝國，並致力促進各地文化融合，締造出歷史上著名的「希臘化時代」。這個時代的代表精神為何？〔93.第二次基測〕 (A)世界一家 (B)民主思想 (C)城邦意識 (D)種族歧視。

答案：(A)

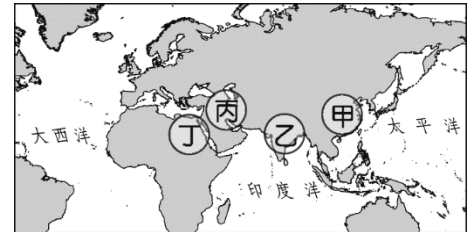
17. () 16 世紀時，蒙古後裔入侵印度，建立蒙兀兒帝國。請問：關於上述帝國的敘述，下列何者錯誤？ (A) 統治者信奉伊斯蘭教 (B) 19 世紀帝國衰亡成為西班牙殖民地 (C) 以中央集權方式統治 (D) 在 17 世紀時國勢達到極盛。

答案：(B)

18. () 惠雯觀看紀錄片時，正好看到英國喬治王子受洗的畫面。據說，受邀觀禮的英國王室成員，其實都是信仰這個由英王創立的宗教。請問：關於這個宗教，下列敘述何者正確？ (A) 為政教合一的體制 (B) 因反對贖罪券而與羅馬公教決裂 (C) 此教派隨著馬偕傳入臺灣 (D) 典禮上會看到羅馬教宗主持儀式。

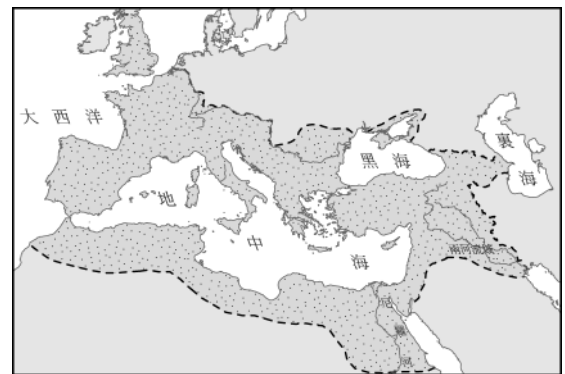
答案：(A)

19. () 考古學家發現摩亨佐達羅古城，其歷史悠久、規畫整齊，為人類古文明發源地之一。請問：其位於附圖中何處？(A) 甲 (B) 乙 (C) 丙 (D) 丁。



答案：(B)

20. () 上課時，老師展示某時期的地圖，如附圖所示，圖中疆域的範圍，曾是哪一大帝國的領土？(A) 蒙古帝國 (B) 波斯帝國 (C) 亞歷山大帝國 (D) 羅馬帝國。



答案：(D)

21. () 一本介紹古歷史的書籍上寫道：「上古時代的西亞，有一個民族在夜晚以星星辨識方向而不會迷途，他們的商船往來於地中海各地；他們也取用兩河流域的楔形文字與埃及的表音符號書寫自己的文字，因貿易之便傳往歐洲，是傳播文明的重要媒介。」請問：這是下列哪個民族？ (A) 波斯人 (B) 腓尼基人 (C) 蘇美人 (D) 猶太人。

答案：(B)

22. () 印度古文明曾在西元前 2300 年左右出現，但之後因來自西北方的民族入侵而滅亡。請問：西元前 2300 年左右，印度古文明在哪一個地區曾發展出城市文明？ (A) 尼羅河流域 (B) 印度河流域 (C) 恆河流域 (D) 兩河流域。

答案：(B)


23. () 佛教自從在印度創立後逐漸向外傳播，如今在世界上有超過 5 億的佛教徒。有關於佛教的發展，下列何者正確？甲、阿利安人信仰佛教；乙、約於漢代傳入中國；丙、佛教由釋迦摩尼所創立；丁、阿育王派遣高僧向外弘法 (A) 甲乙丙 (B) 甲乙丁 (C) 甲丙丁 (D) 乙丙丁。

答案：(D)

24. () 考古學家王博士欲前往古西亞文明的發源地，下列哪一地區不是其目的地之一？ (A) 地中海東岸 (B) 兩河流域 (C) 尼羅河流域 (D) 小亞細亞。

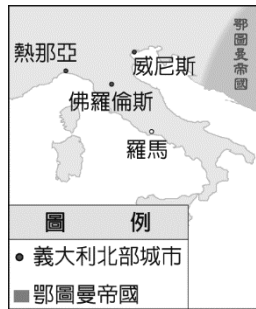
答案：(C)

25. () 圖為 13 世紀阿拉伯學者在圖書館的圖像，圖中的學者可能從事哪些活動？甲、研究天文學；乙、研究解剖學；丙、計算圓周率；丁、誦讀新約聖經；戊、翻譯古希臘典籍 (A) 甲乙丙丁 (B) 甲乙丙戊 (C) 甲丙丁戊 (D) 乙丙丁戊。



答案：(B)

26. () 附圖中的城市為 15 世紀文藝復興重鎮。請問：這些城市的興起和下列何者最有關係？

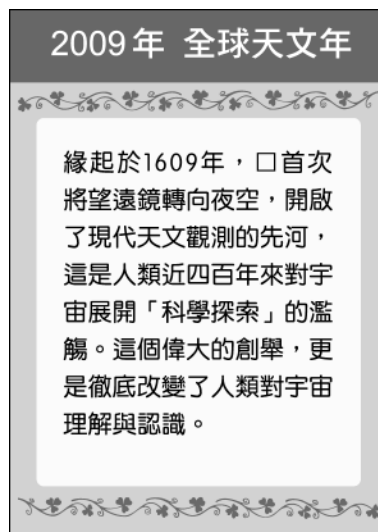


(A) 周遭大量考古遺址挖掘帶動城市興起 (B) 大量藝術家聚集於此 (C) 位於東西貿易要道 (D) 為印刷品製造中心帶動經濟成長。

答案：(C)

27. () 附圖是林老師在整理資料時發現的舊海報，根據海報內容判斷，□應填入下列何人？

(A) 哥白尼 (B) 伽利略 (C) 笛卡兒 (D) 牛頓。



答案：(B)

28. () 附表呈現歷史上某變革的內容，□中最適合填入下列何者？(A) 古典學術研究的恢復 (B) 羅馬公教教會的腐敗 (C) 科學革命思想的萌芽 (D) 社會主義學說的興起。

變革的內容	
起源地	英國
早期傳播地區	英國 ↙ 美國 ↘ 歐陸
影響	新興城市的林立 工廠制度的出現
	?

答案：(D)

29. () 威廉斯生長於 17 世紀的西歐地區，這裡制定宗教寬容的法律。平常威廉斯能夠自行閱讀《聖經》，在家中自行祈禱，不用透過教士的協助。他透過勤奮的工作來榮耀上帝，認為自己是上帝的選民，受到上帝的喜愛。請問：威廉斯信仰的宗教是何人所創？
 (A)馬丁路德 (B)羅耀拉 (C)喀爾文 (D)亨利八世。

答案：(C)

30. () 小雲研讀《世界史》時，將阿拉伯帝國與鄂圖曼帝國做比較，下列哪一項資料正確？
 (A)興起的時間相同 (B)疆域範圍相同 (C)同是伊斯蘭教勢力 (D)均曾阻撓基督教徒朝聖。

答案：(C)

31. () 嘉琪至某城市旅遊，發現此城市自西元前 4 世紀至西元 7 世紀官方使用的文字因外來統治者不同，先後出現希臘文、拉丁文、阿拉伯文。請問：嘉琪最可能至下列哪一城市旅遊？
 (A)埃及開羅 (B)希臘雅典 (C)義大利羅馬 (D)土耳其伊斯坦堡。

答案：(A)

32. () 秧秧至某城市旅遊，發現此城市曾歷經亞歷山大帝國、羅馬帝國、阿拉伯帝國、鄂圖曼帝國的統治。秧秧最可能至下列哪一城市旅遊？〔104.會考修訂〕
 (A)埃及開羅 (B)希臘雅典 (C)義大利羅馬 (D)沙烏地阿拉伯麥加。

答案：(A)

33. () 小雯出國參觀某地建築，發現其內部設計別具特色（如圖）。請問：這座建築建造的時因地點，最可能為下列何者？



- (A)西元前 5 世紀，印度 (B)西元前 1 世紀，羅馬 (C)8 世紀，巴格達 (D)12 世紀，英國。

答案：(D)

34. () 下列是老師規畫「伊斯蘭文明的巡禮」造訪的三個城市，依照該城市含括於伊斯蘭世界的時間先後順序排列，何者正確？
 (A)甲丙乙 (B)甲乙丙 (C)乙丙甲 (D)丙甲乙

甲：沙烏地阿拉伯的麥加
 乙：土耳其的伊斯坦堡
 丙：西班牙的哥多華

答案：(A)

35. () 林布蘭是 16 世紀的歐洲商人，同時也是位虔誠的基督徒，他所屬的教會讓他堅信唯有辛勤工作榮耀上帝，才能證明自己是上帝的選民。請問：林布蘭最有可能是附圖中何地的人民？
 (A)甲 (B)乙 (C)丙 (D)丁。



答案：(C)

36. () 現今義大利烏菲茲美術館的收藏品大多由麥第奇家族捐贈，該家族從 14 世紀開始掌管佛

羅倫斯最早從銀行業崛起，透過外交與龐大金錢當作後盾獲得政治實力。麥第奇家族總共出了四位教宗及兩位法國皇后。請問：該家族的崛起背景和下列何者最有關係？

(A)佛羅倫斯為文藝復興重鎮 (B)佛羅倫斯位居東西貿易要道 (C)佛羅倫斯為人文主義發源地 (D)佛羅倫斯為東方學者避禍的首選地。

答案：(B)

37. () 馨兒在《舊約聖經》〈出埃及記〉中看到一段經文：「……人若彼此爭鬥，傷害有孕的婦人，甚至墜胎，隨後卻無別害，那傷害他的，總要按婦人的丈夫所要的，照審判官所斷的受罰。若有別害，就要以命償命，以眼還眼，以牙還牙，以手還手，以腳還腳，以烙還烙，以傷還傷，以打還打……。」請問：上述經文中提到的「以眼還眼，以牙還牙」的判決方式，最早可從何處發現？ (A)中國的法家思想 (B)巴比倫人的《漢摩拉比法典》 (C)波斯人的祆教信仰 (D)中國的《四書集注》。

答案：B

38. () 阿貴生於西元前 1700 多年，他身處的社會是個商業交易頻繁的地區，他的國家非常重視契約，甚至國王還制定買賣交易的法律條文，規定：「當你帶著穀物、羊毛、油等貨物交給商販出售時，你必須跟商販立約並說明貨物價值，商販則支付和貨物價值相當的貨幣或實物與收據給你。」根據上述短文，下列敘述何者正確？ (A)阿貴最有可能是巴比倫人 (B)阿貴拿到的收據是以象形文字書寫 (C)阿貴最有可能是信仰祆教的波斯人 (D)阿貴認為自己是上帝的選民。

答案：A

39. () 「希臘化文化」的含義，指的是此時期的文化發展不只是以希臘文化為主體，還融合了西亞、埃及等文化，成為一種新型態的文化模式，這套文化也有利在不同地區傳播。下列關於「希臘化文化」的敘述，何者正確？ (A)希臘化文化持續的時間從古希臘城邦時期延續到亞歷山大帝國 (B)在希臘化文化時期，歐幾里德發現了槓桿、浮力等原理，奠定物理學的重要基礎 (C)在語文政策方面，希臘化文化時期仍以希臘文為主要推廣的語言 (D)在希臘化文化時期，雖然鼓勵文化交流，但不同民族仍無法通婚。

答案：C

40. () 就讀法律系的政偉作了一份關於「法律」的歷史報告，但報告裡有些不正確，請幫他指出何者錯誤？ (A)《漢摩拉比法典》為羅馬人所著 (B)羅馬法是後世歐洲各國法律的基礎 (C)《漢摩拉比法典》強調報復原則 (D)羅馬共和時期即出現保障公民基本權利的法律。

答案：A

41. () 西元前 287 年以前，古羅馬的貴族和平民鬥爭非常激烈，貴族僅占人口的十分之一，卻把持一切權力，使平民無法接受，而且平民的人數與財富也越來越多，貴族不再能長久保持優勢。平民階層以另建新城邦為威脅，要求成立可代表他們利益的部落大會，選舉保民官，保民官有權否決行政官員不合法的命令。另一方面，平民也要求權利和義務關係的法制化和透民化，結果羅馬政府將法律明文刻在板子上，豎立在廣場上使人民都能了解。根據上文對豎立在廣場的法律條文的說明，下列敘述何者正確？ (A)此法律應是《漢摩拉比法典》 (B)此法律設置是為了保障貴族的權益 (C)此法律設置是為了限制平民的擴張 (D)此法律制定後，可避免貴族濫權。

答案：D

42. () 中古時期的西歐戰亂紛擾，阿拉伯人在亞洲迅速崛起，團結一致並積極向外經營，締造輝煌的帝國盛世。關於阿拉伯人的敘述，下列何者錯誤？ (A)阿拉伯帝國的勢力未曾及於歐洲地區 (B)可從《天方夜譚》一書了解阿拉伯人生活的概況 (C)在商業、文化發展等方面頗有貢獻 (D)以信仰伊斯蘭教為主。

答案：A

43. () 巴爾幹半島地理位置重要，自古以來即為兵家必爭之地，近代由於種族與宗教問題複雜，戰火四起、烽煙瀰漫。請問：史上首度占領巴爾幹半島的亞洲民族為何？ (A)塞爾柱土耳其人 (B)阿拉伯人 (C)鄂圖曼土耳其人 (D)蒙古人。

答案：C

44. () 某時期的歐洲詩人曾說：「我是凡人，所以我只追求凡人的幸福。」；這時期的學者認

為：「不滿以神為中心的思想，不認為來世是人生唯一尊崇與追求的目標。」下列何人解讀最正確？ (A)怡君：此為羅馬帝國後期，貴族享有一切資源 (B)夢露：此時是中古歐洲，教會至上而人們只能過簡樸的生活 (C)美英：此時是鄂圖曼帝國統治，因伊斯蘭世界重視學術與教育不重視宗教 (D)可欣：這應是文藝復興時期，肯定人性的價值與尊嚴。

答案：D

45. ()西元 2003 年，德國電視臺舉辦「最偉大德國人」的票選，其中的第二名，他除了以推動宗教改革聞名外，同時也積極翻譯德文《聖經》，對德語的發展有極大的助益。請問：這位第二偉大的德國人是下列何者？ (A)馬丁路德 (B)喀爾文 (C)莎士比亞 (D)羅耀拉。

答案：A

46. ()澳門有道知名料理，首先在咖哩中加入大量椰汁，之後加入雞肉、馬鈴薯，胡蘿蔔、洋蔥悶煮。這道料理完全是澳門人自創，但為了吸引觀光客注意，特別把曾經殖民過澳門的西方國家國名加入料理名稱。請問：依照澳門的歷史背景，這道菜的名稱最可能為下列何者？ (A)西國雞 (B)荷國雞 (C)英國雞 (D)葡國雞。

答案：D

47. ()十七世紀起，某一西方商業組織，獲得蒙兀兒帝國授權，於東、西沿海設立商館，在印度半島擴張勢力。請問：有關近代印度與世界貿易的敘述，下列何者正確？ (A)此商業組織為荷屬東印度公司，曾經占領臺灣 (B)此商業組織之後與蒙兀兒帝國發生戰爭，從貿易公司變成殖民統治者 (C)該商館以阿薩姆茶葉作交換，獲得中國生產的棉花 (D)設立商館是為了在該地生產絲綢，提高產量並壟斷價格。

答案：B

48. ()十七、十八世紀以來，歐洲學者推廣科學革命的精神，主張以理性啟發人的心智，希望帶動社會的改變，以促成人類的進步。請問：下列哪一敘述，和上述的年代背景最為相關？ (A)運用新的技法從事雕塑或繪畫，表現個人的性格與情感 (B)質疑中古時期以神為中心的思想，重新肯定人性的價值，關注現世幸福 (C)君主希望擺脫教會控制，支持新教改革 (D)如果政府侵犯人民不可剝奪的權利，人民有權發動革命推翻政府。

答案：D

49. ()科學革命後，部分歐洲人開始對科學抱持友善態度，除了在啟蒙運動中試圖利用科學原理來解析人類社會外，在日常生活物質的部分，亦開始利用機器取代人力。下列對於工業革命發展的敘述何者正確？ (A)德國政治相對穩定，故起源於此 (B)最初是因應棉紡織品的需求而生 (C)新興市鎮逐漸興起，且治安良好 (D)影響僅限於歐洲，並未影響海外。

答案：B

50. ()蒸汽機是能夠將水蒸汽中的動能轉換為功的熱機，為其他機械提供動力，在工業革命中扮演非常重要的角色。請問：下列哪些產業在工業革命時使用了蒸汽機？ 甲、紡織 乙、海運 丙、陸運 丁、金融 (A)甲乙 (B)甲乙丙 (C)甲丙丁 (D)甲乙丙丁。

答案：B

51. ()荷馬史詩是古希臘重要的文化遺產，其中有一篇內容如下：從這篇故事中，可知希臘眾神具有何種特色？(A)與凡人沒有差別，嚮往舉行盛大的婚禮(B)都住在奧林帕斯山，和諧與快樂的相處(C)都聽從厄里斯所言，爭奪金蘋果的榮耀(D)具有突出的個性，擁有喜怒哀樂的情感

答案：D

52. ()一部經典中提到：「奉至仁至慈的真主阿拉之名，一切讚頌全歸真主，眾世界的主，至仁至慈的主，報應日的主，我們只崇拜你，只求你襄助，求你引領我們正路，你所襄助者的路，不是受譴怒者的路，也不

居住在奧林帕斯山的希臘眾神，將要舉辦海洋女神賽蒂斯下嫁凡人英雄佩柳斯的婚禮。婚宴那天，希臘眾神都接到了喜帖，卻只有搗亂女神厄里斯沒有被邀請。憤怒的厄里斯，在眾神酒酣耳熱之際，將一顆寫著「獻給最美麗的女神」的金蘋果，丟進婚禮現場，立刻引來了眾女神的紛搶爭奪、互不相讓……。

是迷誤者的路。」上述應該是何種宗教的經典？(A)佛教(B)基督教(C)猶太教(D)伊斯蘭教

答案：D

53. () 達伽馬是葡萄牙著名的航海家，西元 1498 年他率領船隊沿著西非洲海岸，而後深入南大西洋並繞過好望角，最後抵達印度，成為第一位從歐洲遠航到印度的人，對日後葡萄牙的殖民擴張具有關鍵的影響。達伽馬展開探險之旅的主要目的為何？ (A)直接取得亞洲的香料、絲綢等商品 (B)探索不為人知的古文明與少數族群 (C)受到鄭和影響，希望前往中國參觀 (D)尋找新農耕地，解決人口眾多問題

答案：A

54. () 中南美洲的阿茲提克帝國、印加帝國，曾經是獨具特色的古文明，這些古文明呈現的文化風貌與生活型態與歐亞地區全然不同。然而現在我們只能從留存下來的文物、遺跡，概略認識這些古文明，主要是因為許多珍貴的美洲文化曾因「外力」入侵遭到破壞。上述的「外力」最有可能是指下列哪一群？ (A)英國人 (B)荷蘭人 (C)西班牙人 (D)墨西哥人

答案：C

55. () 歷史老師要同學對於兩河流域與埃及古文明做出比較，以下哪一位同學說法符合史實？ (A)浩浩：兩河流域主要以農業活動為主，是缺少商業行為的大河文明；埃及則是工商業類型的大河文明 (B)姍姍：兩河流域民族較單純，埃及民族較複雜 (C)婷婷：兩河流域創造象形文字，埃及創造楔形文字 (D)宏宏：兩者皆在曆法上有不錯的成就。

答案：D

56. () 某地區的秤心儀式如下：

死者穿著潔白的亞麻布衣服，來到奧塞利斯面前進行審判。奧塞利斯有一具天平，天平兩端，一邊放著死者的心臟，一邊放著代表正義公理的羽毛。阿努比斯正在調撥著天平，檢查是否平衡，如果天平平衡，表示死者生前善良公正，將可通過正義之神瑪特的審判，取得奧塞利斯的信任。如果心臟一端沉重，不能平衡，代表死者貪婪多欲，作惡多端，他的心臟將被取出，丟給在一旁等候的怪獸阿敏吃掉。

請問：這段敘述呈現該地區的何種宗教觀？ (A)自己是上帝的選民 (B)靈魂通過審判，就能死而復活 (C)邪不勝正，善神終會戰勝惡神 (D)因果報應，靈魂轉世。

答案：B

57. () 古代這個地區形成許多城邦，城邦各自為政，彼此之間戰爭不斷。戰爭需要士兵，體育活動是培養強壯士兵的重要關鍵。之後，準備兵源的軍事訓練和體育競技，與宗教慶典結合，逐漸變為象徵和平與友誼的運動會。請問：上文中的「這個地區」位於附圖中的何處？ (A)甲 (B)乙 (C)丙 (D)丁。



答案：C

58. () 這個王國在亞歷山大即位後，展開了政治、軍事、經濟等改革，終於成就一個大帝國。關於亞歷山大帝國的敘述，下列何者錯誤？ (A)起源於馬其頓王國 (B)亞歷山大帝國的疆域未曾包括埃及 (C)東征時最遠到達印度邊境 (D)曾征服波斯。

答案：B

59. () 希臘的文學代表是戲劇，反映出希臘文化精神的主軸——人文主義。希臘戲劇是西方戲劇文學的始祖，正如希臘人文主義為西方人文主義傳統的源頭。人文主義並不是要強調人如何偉大，而是要展現人如何可以偉大，或是在了解人無論如何無法偉大時，如何可以高貴。希臘戲劇的偉大則是掌握並表現這個精神，因此悲劇的創造先於喜劇，成就也高於喜劇。悲劇是人直探生命本質與困境的自白，喜劇則是藉嘲諷現實社會所作的人生觀暗示。請問：有關上述短文，下列說明何者正確？ (A)喜劇注定無法超越悲劇 (B)人文主義著重於人定勝天的觀念 (C)悲劇的藝術表現猶如中國人的「知其不可為而為之」 (D)希臘悲劇奠定了當今文學的一切基礎。

答案：C

60. () 《伊斯坦堡——一座城市的記憶》為土耳其作家奧罕·帕慕克獲得西元 2006 年諾貝爾文學獎的名著，帕慕克以細膩的筆觸描寫這座曾經輝煌而今澹然，走過悠悠一千多年歲月的土耳其城市。請問：下列敘述何者正確？ (A)伊斯坦堡的歷史可追溯至希臘時代，當時名為尼尼微 (B)羅馬皇帝將之擴建，並改名為君士坦丁堡 (C)四世紀末羅馬帝國分裂，伊斯坦堡為西羅馬帝國首都 (D)伊斯坦堡位於義大利半島上，位置易守難攻。

答案：B

61. () 相傳努米托爾為其弟流放，並將他的兩個外孫丟入臺伯河中，裝孩子的籃子漂到岸邊，一隻母狼將嬰兒叼走並用奶水餵養。孩子後來被牧羊人收養，哥哥取名為羅慕路斯、弟弟為雷慕斯。兄弟長大後合力幫助外公重回王位，並在河岸建立新城，以哥哥的名字為城市命名。請問：關於這則神話傳說的歷史背景，下列何者正確？ (A)這則傳說是描述拜占庭建城的緣由 (B)建城的兩兄弟應屬於希臘人 (C)兩兄弟建城後不久，進入了王政時期 (D)這個民族以浪漫感性為其性格。

答案：C

62. () 西元 2007 年曾發生猶太教教士聯合抗議以色列航空公司在安息日飛航的事件。依猶太教經典規定，「律法的安息日，嚴禁一切工作，干犯者必被治死」，而「謹守安息日的，必蒙真神賜福」。請問：這場抗議事件與下列哪一個歷史背景有關？ (A)此一抗議事件應發生於巴基斯坦 (B)「蒙真神賜福」的「真神」是指耶穌 (C)與安息日有關的規定，最早應記載於《吠陀經》中 (D)此制度最早應出現於地中海東岸。

答案：D

63. () 附圖為十八世紀時歐洲興起的城市，這些城市的興起與下列何事的關係最為密切？ (A)宗教改革 (B)海外的拓展 (C)伊斯蘭教的傳播 (D)文藝復興。



答案：B

64. () 十五世紀進入大航海時代後，全球經濟正式串聯起來，各地的物產相互交流。以下有關「十五世紀後全球經濟交流」的敘述，何者有誤？ (A)英人將印度棉花與中國的絲綢賣至歐洲 (B)美洲的玉米、馬鈴薯傳入歐洲，緩解了人口壓力 (C)中南美洲的甘蔗、咖啡成為東南亞的經濟作物 (D)歐洲人從東南亞購入許多香料。

答案：C

65. () 民初學者胡適曾提出「大膽假設，小心求證」的名言，西方科學革命時期某一學者的思想亦和胡適所言的治學方法相當接近。請問：下列何者為關於此學者及其理論的正確敘述？ (A) 強調實驗歸納以建立現象發生的通則 (B) 此為培根提出的「歸納法」 (C) 先設立原理原則再進行嚴謹的邏輯推論 (D) 此為伽利略提出的「演繹法」。

答案：C

66. () 西元前五世紀，希臘城邦之一的雅典為了抵抗這個帝國的擴張，在馬拉松戰役時派遣擅長跑步的菲迪皮德斯傳遞戰勝的軍情。為紀念此事，馬拉松長跑成為現代奧林匹克運動會的比賽項目之一。這個攻打希臘城邦的帝國，在多方征戰下成為第一個跨歐亞非三洲的政權。請問：有關這個帝國的描述，下列何者正確？ (A) 創立影響後世的猶太教 (B) 創六十進位與陰曆紀元 (C) 主要崇拜象徵光明的火 (D) 統治者象徵太陽神之子。

答案：C

67. () 「浪費時間是所有罪中第一大罪和最重罪。」過去教會認為，人們不應該將時間浪費在追求財富，認為這是邪惡的行為。後來，喀爾文提出財富是勞動的果實、是神的祝福，受到社會的歡迎。請問：喀爾文的思想與當時社會的何種趨勢最為相關？ (A) 共產主義在社會廣受歡迎 (B) 為了培養人才，教會開辦投資理財課 (C) 越來越多貧窮的人仰賴教會救濟 (D) 商業行為越來越發達。

答案：D

68. () 十六世紀宗教改革後的新教，有何共同點？

(A) 尊崇教會與教宗的權威 (B) 將聖經視為信仰的依歸 (C) 主張以國君為宗教領袖 (D) 以捐獻多寡來決定救贖

答案：B

二、題組 (每格 2 分，共 28 分)

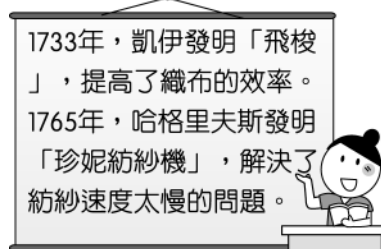
(一) 這群人對自身事物的關心遠大於對神學的好奇；這群人喜愛美的事物，也不吝於資助藝術創作與公共建設；這群人對古希臘、羅馬文化展現高度興趣；他們精通拉丁文，但也使用各地方言進行創作。請問：

69. () 這群人活躍的時間應該是何時？ (A) 古羅馬時期 (B) 希臘化時期 (C) 西羅馬帝國時期 (D) 文藝復興時期。

70. () 當時的代表作品，其特色不包括下列何者？ (A) 以神為中心的思想 (B) 以當地方言進行書寫 (C) 從古希臘、羅馬故事中取材 (D) 肯定人們追求現世幸福。

答案：(1)(D)；(2)(A)

(二) 附圖是老師上課時提到的內容。請問：



71. () 根據圖中內容可知，老師上課的主題應是下列何者？ (A) 工業革命 (B) 科學革命 (C) 啟蒙運動 (D) 海外探險。

72. () 上述的兩位發明者，最有可能來自哪個國家？ (A) 法國 (B) 英國 (C) 德國 (D) 美國。

答案：(1)(A)；(2)(B)


(三) 下列是曉晨在書上看到的一段內容。請問：

1053 年，東方教會牧首將首都的拉丁禮教堂全數關閉，因其拒絕使用希臘禮拜儀式。並致函羅馬，指責教宗篡改《聖經》內容以及教義，質問西方教會聖餐用無酵餅是源自猶太教異端、安息日守大齋、准許食未出血的肉、四旬大齋期不唱《阿肋路亞》等。隔年，教宗指派代表到東方帝國首都與希臘教會協商，但使節團並未達成任務。最後，教宗和君士坦丁堡牧首互相將對方破門，象徵著東、西方教會的決裂。(註：牧首：相當於西方教會的主教。破門：將神職人員逐出教會。)

73. () 由文中判斷，下列何者不是東西方教會決裂的原因之一？ (A)教義解釋分歧 (B)儀式執行差異 (C)互相爭權 (D)《聖經》為重要經典。
74. () 關於文中東方教會的敘述，下列何者正確？ (A)最高宗教領袖為教宗 (B)實施教教合一政策 (C)努力傳教使日耳曼人改信基督教 (D)以羅馬為主要宗教中心。

答案：(1)(D)；(2)(B)

(四) 附圖為古代西亞某民族對自我的介紹，請問：



75. () 該民族是下列何者？ (A)腓尼基人 (B)希伯來人 (C)巴比倫人 (D)蘇美人。
76. () 下列何者是該民族的相關成就？ (A)一神信仰 (B)制定《漢摩拉比法典》 (C)制定六十進位法 (D)改良埃及文字。

答案：(1)(A)；(2)(D)

(五) 2020年開始受到新冠肺炎影響，全球經濟衰退。美國為因應此種狀況，2021年3月政府開始大量印鈔。有些經濟學者批評美國政府的做法無法挽救新冠肺炎造成的傷害，反而會讓經濟陷入更大危機，應該放任經濟自由發展，不該過度干預。請問：

77. () 文中提到的經濟學者較支持何人經濟學說？ (A)洛克 (B)亞當斯密 (C)孟德斯鳩 (D)狄德羅。
78. () 畫線部分最早出現在何時？ (A)中世紀時期 (B)文藝復興 (C)科學革命 (D)啟蒙運動。

答案：(1)(B)；(2)(D)

(六) 有一段演說的內容是：「從耶路撒冷和君士坦丁堡傳來惡劣消息，一個可惡的民族已經嚴重的侵入基督徒居住的地方，以搶掠燒殺來殺害基督徒，以酷刑來殘殺基督徒，以他們汙穢的手來沾汙聖壇，然後來毀滅聖壇。法蘭克民族是上帝挑選出而又是上帝最喜愛的民族，祖先的光榮應鼓勵你們振奮起來，將不潔民族掌握著的聖地奪回來。」請問：

79. () 上文這段演說所述的時間應該是下列哪一時期？ (A)西元4世紀 (B)西元8世紀 (C)西元11世紀 (D)西元15世紀。
80. () 上文中的「一個可惡的民族」是指哪一個民族？ (A)阿拉伯人 (B)羅馬人 (C)鄂圖曼土耳其人 (D)塞爾柱土耳其人。

答案：(1)(C)；(2)(D)

(七) 電影《達文西密碼》提到聖殿騎士團是一群為了保護耶穌後裔而存在的一個組織，但其實歷史上的聖殿騎士團出現在11世紀，成立最初是為了保護前來耶路撒冷朝聖的教徒不被異族侵擾，而由信仰虔誠的法國騎士所組成，12世紀時得到教宗的支持，在西亞地區進行軍事活動。請問：

81. () 由上文可推測，聖殿騎士團的成員主要信奉哪一宗教？ (A)羅馬公教 (B)伊斯蘭教 (C)婆羅門教 (D)希臘正教。
82. () 上文中提及的「異族」，應為下列哪一民族？ (A)拜占庭人 (B)阿拉伯人 (C)塞爾柱土耳其人 (D)鄂圖曼土耳其人。

答案：(1)(A)；(2)(C)

(八) 古希臘文化燦爛豐富，發展出多元的城邦文化，對於後來歐洲文化發展有深遠影響。請回答下列問題：

83. () (1)有一史學家強調「眼見為憑」，親自踏查戰場遺址，並詢問相關人士，進而編寫出名著《歷史》，記錄波希戰爭的過程。這位學者是何人？ (A)希羅多德 (B)阿基米德 (C)君士坦丁 (D)屋大維。
84. () (2)「當宙斯看到美女歐羅巴時就立刻愛上她，並變成一頭白牛去勾引她。後來宙斯將歐

羅巴誘拐到某塊大陸上，兩人就成親了。這塊大陸就是現在的歐洲。」有關上述希臘神話傳說的特色，下列何者說明正確？ (A)受到善惡二元論的重大影響 (B)強調唯一真神的概念 (C)神與人有一樣的情欲 (D)神明的性情與能力超脫人類之上。

答案：(1)A (2)C

(九) 閱讀短文，回答下列問題：

伊比利半島上的兩個國家——葡萄牙、西班牙，相互依存又競爭，葡萄牙的航海家積極尋找向東的新航線，鄰近的西班牙卻與之相反，嘗試向西探險。哥倫布出生、成長於義大利附近，年輕時便已展現對於航海的熱忱，遍覽群書，他深信向西航行也可以到達東方。

西元 1492 年，得到西班牙女王的資助後，開始向西航行，在艱苦的航行了三個月之後，終於抵達「印度」。哥倫布發現通往「印度的新航線」的消息很快傳遍了西歐，愈來愈多的航海家透過這條路徑來到「印度」。

西元 1502 年，另一位探險家亞美利哥帶領船隊行經巴西時，發現此「印度」與書中所記載的不甚相同，是一個「新大陸」，為了紀念此一發現，新大陸於是根據亞美利哥之名來命名。

85. () 根據上文所說，由哥倫布無意間發現，以亞美利哥之名命名的應該是以下哪一個地方？ (A)非洲 (B)大洋洲 (C)亞洲 (D)美洲
86. () 葡萄牙和西班牙是最早開始探險的兩個國家，在大航海時代前期，取得了多個殖民地，獲取多項資源。有關這兩個國家的分析，下列何者有誤？ (A)西、葡兩國位於大西洋沿岸，地理位置優越，適合海外探險 (B)從西、葡掌握各項資源這點，可以看出歐洲的重心已由地中海轉至大西洋 (C)西班牙是最早發現新大陸的國家，葡萄牙則是最早發現新航線 (D)西班牙與葡萄牙為對抗壟斷陸路貿易的義大利，選擇互相合作，一起進行海外探險。
87. () 大航海時代前期，可說是葡萄牙、西班牙兩國獨領風騷，由於掌握海外資源，這兩國迅速在歐洲崛起。以下有關航海家及其事蹟的配對，何者有誤？ (A)狄亞士——發現非洲的最南端 (B)達伽馬——發現新航線 (C)麥哲倫——發現大洋洲 (D)哥倫布——發現新大陸。

答案：(1)D (2)D (3)C

(十) 請閱讀下列資料並回答問題。

第一條

紐西蘭聯合部落邦聯的領袖和其他還未參加邦聯的分離和獨立的領袖，必須絕對而毫無保留地把他們所有的權利和主權權力讓與國王陛下，就是所謂邦聯或獨立土著領袖所行使或據有的統治主權。

第二條

國王陛下確認與保證各紐西蘭土著領袖和部落，以及他們相關家庭和個人，其完全專屬而無干擾的繼續擁有他們的土地和地產、漁場、森林和其他財產，不管是集體或個別擁有，因為這是他們的希望和期望繼續保留的財產。但是聯合部落的領袖和獨立的領袖必須把他們土地的專屬優先購買權讓與女王陛下，可以用同意的價錢轉讓與相關業主或陛下所委任的人。

第三條

國王陛下其所有臣民的權利和特權和王家保護得延伸到所有紐西蘭土著，所以我們，紐西蘭聯合部落長官的聯邦們，聚集在懷唐伊的代表大會，和我們獨立部落的首領在紐西蘭各個領土地區，已經完全明白前述條約的條款，接受與進入這條約的精神和意義。謹見證，我們已在指定的地點和日期附上了我們的簽名或記號。

主曆 1840 年 2 月 6 日，成於懷唐伊。

88. ()這是一份外國勢力與紐西蘭簽訂的文件，根據歷史背景，這份文件應該會用哪一國語言紀錄？ (A)法文 (B)英文 (C)西班牙文 (D)葡萄牙文。
89. ()根據文件內容，應該是表達下列哪一種含義？ (A)外來者與原住民平等互惠 (B)外來者剝奪原住民的財產 (C)原住民的權益被外來者尊重 (D)原住民與外來者透過談判相互認識。
90. ()類似的處境，也發生在下列哪一個西方勢力與地區下？ (A)英國與亞洲的澳門 (B)荷蘭與大洋洲的澳洲 (C)葡萄牙與北美洲的紐約 (D)西班牙與中南美洲的墨西哥。

答案：(1)B (2)B (3)D

(十一) 附圖為某部歷史文獻的摘錄，請閱讀後回答下列問題：

- 1.若一個人控告另一個人謀殺，但無法提出證據，提出控訴者應該被處死。
- 2.若一個人竊盜神廟或宮殿中的財務該被處死，購買贓物者一併處死。
- 3.若一個人典當東西，處理手續完成前，他必須訂立一份有見證人簽名的契約。
- 4.若一個平民打瞎另一個平民的眼睛，前者的眼睛應該被打瞎。若一個平民打瞎一個奴隸的眼睛或打斷他的頭骨，平民應該賠償此奴隸他的身價的一半。

91. ()此部歷史文獻應為下列何者？ (A)《漢摩拉比法典》 (B)《死者之書》 (C)祕教經典 (D)猶太教經典。
92. ()關於此文獻的敘述，下列何者錯誤？ (A)從該文獻的敘述來看，此民族應有重視階級制度的特色 (B)由文獻的第三點來看，此民族應該商業交易頻繁，注重法律觀念 (C)此民族應強調「以牙還牙、以眼還眼」的報復原則 (D)此民族的公平正義原則是建立在不同階級的基礎上，與現代的「法律之前人人平等」的精神相同。

答案：(1)A (2)D

(十二) 身懷六甲的馬利亞與丈夫約瑟前往家族的出生地——伯利恆，無奈城裡的旅店都客滿，兩人只得棲身於馬廄。不久後一個可愛的嬰兒降臨世間，頓時破舊的馬廄竟如宮殿般亮麗。三位牧羊人感受到星光的柔和，天使現身告訴他們在大衛城(伯利恆)裡救世主已然誕生。循著伯利恆之星的光芒，三人來到馬利亞所在的馬廄，親眼證實天使所言。請回答下列問題：

93. ()上文描述的內容應記載於何書之中？ (A)「十二表法」 (B)《舊約聖經》 (C)《吠陀經》 (D)《新約聖經》。
94. ()資料中的嬰兒長大後曾前往耶路撒冷傳教，當地的主要信仰與他所創的宗教最大不同之處為何？ (A)上帝為唯一真神 (B)信奉耶和華 (C)信徒應謙卑、互助 (D)希伯來人為神的唯一選民。
95. ()他在耶路撒冷傳教的結果為何？ (A)獲當地祭司認同，建立許多教堂 (B)受羅馬政府的讚賞，將之立為國教 (C)不獲官方認可，他最後被釘死在十字架上 (D)羅馬皇帝特頒詔書，表揚信徒的虔誠。

答案：(1)D (2)D (3)C

(十三) 閱讀短文，回答下列問題：

96. ()有關上文所描述的「帝國」何者正確？ (A)此帝國現今留有古蹟是秘魯安地斯山脈上的馬丘比丘 (B)帝國境內的波托西(今玻利維亞)有大量的銀礦 (C)此帝國留下來的有名遺址多位於今墨西哥的首都墨西哥市 (D)此帝國所面臨的敵人，為十六世紀時首先抵達美洲的英國人。
97. ()關於文中提到的敵人，下列的敘述何者錯誤？ (A)敵人為來自歐洲的國家，到中南美洲後展開殖民統治 (B)敵人以哥倫布為首，開始大量往中南美洲移民、墾殖和傳教 (C)敵人所占領的地區主要位於巴西一帶 (D)敵人主要信仰的宗教為羅馬公教。

中美洲流傳著一個古老的羽蛇神傳說：「在帝國出現以前，發生了戰神和羽蛇神的鬥爭，戰敗的羽蛇神被趕走時留下一句預言：『我會在蘆葦之年回來，到時我將掌握實權，那年必成災禍之年。』」

因此當數百年後敵人出現時，帝國的首領及人民無不驚慌，因為那年的10月，特諾奇提特蘭開始爆發天花，接二連三的病死者造成戰力大減，周邊的部落也紛紛加入敵人軍隊，打算推翻帝國……。」

98. () (3) 有關敵人在中南美洲活動的影響，下列何者錯誤？ (A) 引進拉丁文字和羅馬公教，使原住民喪失傳統的文化和語言 (B) 原住民在敵人的逼迫下在牧場、農場、礦場做苦工 (C) 原住民無法抵抗敵人帶來的傳染病而大量喪生 (D) 敵人為了開發中南美洲，引進大量的澳洲人到礦場做奴工。

答案：(1)C (2)C (3)D