

一、單題

1. () 法國人法比歐在他的回憶錄裡寫著：「在白天，部隊的走動會遭到狙擊手的迎頭痛擊，所以壕溝往往很安靜。夜晚才是壕溝內最忙碌的時候，部隊和補給的調動，鐵絲網與壕溝的維護，以及對敵軍防線的偵察都可以借夜色掩護完成。」上述所描述的是哪一場戰爭？

(A)德法戰爭 (B)第一次世界大戰 (C)第二次世界大戰 (D)韓戰。

答案：(B)

2. () 附圖是指第二次世界大戰後，某國家因曾發動侵略，即將被分為東、西兩邊。此國家應是下列何者？



(A)奧匈帝國 (B)土耳其 (C)保加利亞 (D)德國。

答案：(D)

3. () 小恩在歐洲某一城市旅遊，途經著名景點「拉丁橋」。導遊介紹道：「這座橋看似平凡，但橋的北端卻是著名歷史事件的發生現場。當時，斐迪南大公夫婦在此遭到刺殺，引發歐洲政局動盪，並衍生為第一次世界大戰。」根據上述判斷，小恩遊歷的城市最可能為下列何者？

(A)柏林 (B)巴黎 (C)佛羅倫斯 (D)塞拉耶佛。

答案：(D)

4. () 法國大革命時，歐洲各國害怕革命風潮席捲歐洲各國，遂組成反法聯軍進攻法國，卻造成另一個強人崛起。上述「強人」是下列何者？

(A)拿破崙 (B)華盛頓 (C)路易十六 (D)孟德斯鳩。

答案：(A)

5. () 革命運動的發起和國家的統一，必須經過眾人的努力。請問：義大利的統一，與下列何者應該沒有關係？

(A)威廉一世 (B)加里波底 (C)加富爾 (D)馬志尼。

答案：(A)

6. () 20世紀初，經濟大恐慌造成各國國內失業率提高，經濟衰退，民眾生活陷入困境。各國為了解決這種狀況紛紛提出不同的對應政策。當時美國為了解決國內問題，選擇下列何種策略？

(A)全力推行計畫經濟 (B)推動大型公共建設 (C)提倡成立關稅同盟 (D)掌握拉丁美洲經濟。

答案：(B)

7. () 第二次世界大戰結束後，蘇聯因地近之利，在東歐及中亞地區積極扶植共產勢力。然而約半個世紀後卻因何種原因，使東歐的共產政權紛紛瓦解，拋棄了共產主義？
- (A)蘇聯民主派發動政變，強迫共產黨放棄政權 (B)蘇聯推行改革，不再干預東歐各國 (C)美國在西德興建飛彈基地，直接威脅莫斯科安全 (D)德國民眾推倒柏林圍牆，要求東、西德統一。


答案：(B)

8. () 19世紀時，帝國主義紛紛崛起，當時的帝國主義國家有下列哪一個特色？


(A)以工業革命為後盾 (B)以航海探險為目標 (C)以宣揚宗教為手段 (D)以民族自決為號召。

答案：(A)

9. () 19 世紀中期以來，歐洲列強挾著強大優勢，為爭取更大利益，積極向外擴張，全面掌控亞、非等地區的內政及外交。請問：這些帝國主義國家的最大特色是什麼？
 (A) 以共產思想為手段 (B) 以工業基礎為力量 (C) 以民族自決為號召 (D) 以世界和平為目標。
 答案：(B)
10. () 蘇聯共產政權建立後，積極推行計畫經濟，全力發展國防工業的統治者是下列何人？
 (A) 列寧 (B) 史達林 (C) 尼古拉二世 (D) 羅斯福。
 答案：(B)
11. () 下列有哪些是維也納會議的原則？(甲)恢復各國王室統治權(乙)謀求歐洲的安定與和平(丙)維持各國勢力均衡(丁)傳播自由、平等、博愛的觀念
 (A) 甲丙丁 (B) 甲乙丙 (C) 甲乙丁 (D) 乙丙丁。
 答案：(B)
12. () 下列哪一歷史事件，使歐洲的民族主義轉變為更富侵略性的帝國主義？
 (A) 發現新航路 (B) 法國大革命 (C) 美國獨立革命 (D) 工業革命。
 答案：(D)
13. () 第二次世界大戰結束後，受到戰爭波及的各國百廢待舉，此時，在歐洲地區以蘇聯為首的共產勢力悄悄蔓延。為抵制蘇聯壯大勢力，美國提出下列何者，以透過與友邦形成盟約，制衡蘇聯的影響？
 (A) 民族自決方針 (B) 門羅宣言 (C) 以消費刺激經濟政策 (D) 圍堵政策。
 答案：(D)
14. () 圖(一)和圖(二)是描述法國史上同一重大政治事件的圖畫。圖(一)的高大建築是監獄，圖(二)是當時一張文宣海報，上面寫著「自由、平等、博愛或死亡」。下列有關這次重大政治事件的說明，哪些是正確的？(甲)圖(一)的監獄，象徵法國的專制(乙)圖(二)傳達了《人權宣言》的政治理念(丙)革命爆發後，國王路易十四被處死(丁)革命以前，法國貴族和教士享有特權

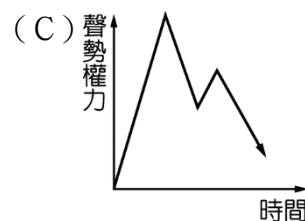
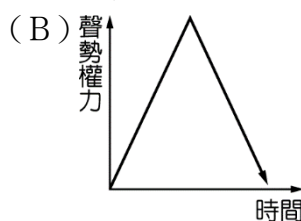
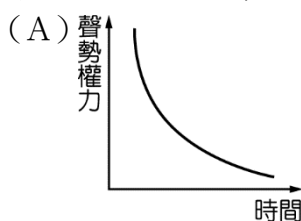


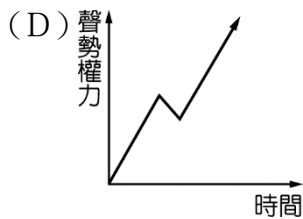
圖(一)



圖(二)

- (A) 甲丙丁 (B) 甲乙丙 (C) 甲乙丁 (D) 乙丙丁。
 答案：(C)
15. () (甲)法國(乙)奧國(丙)英國(丁)美國；上述哪兩個國家均為普魯士和薩丁尼亞在統一過程中所遭遇的阻礙？
 (A) 乙丙 (B) 甲丙 (C) 乙丁 (D) 甲乙。
 答案：(D)
16. () 拿破崙是一位非常偉大的軍事家，其聲勢與他在戰場上的表現相關，下列哪一曲線最適合用來表示拿破崙一生的聲勢權力？





答案：(C)

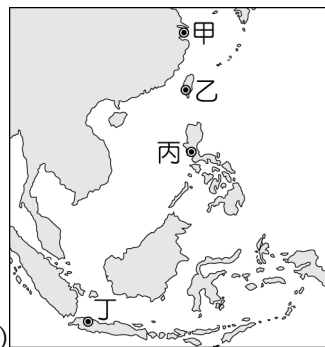
17. () 冷戰結束後，世界形成多元文明並立的局面，可是各地不時有恐怖分子攻擊事件發生，其原因為何？
 (A) 宗教、政治對立 (B) 世界經濟大恐慌 (C) 共產勢力的擴張 (D) 蘇聯的解體。

答案：(A)

18. () 16 世紀時，這個國家積極向外征服，在其殖民地修築了許多城堡，如圖(一)所示。當時這個國家也曾在圖(二)中甲、乙、丙、丁何處建立城堡？〔107.會考〕



▲圖(一)



▲圖(二)

(A) 甲 (B) 乙 (C) 丙 (D) 丁。

答案：(C)

19. () 對於美國國力擴張得以晉升為世界強國，最具關鍵影響的是哪一場戰爭？
 (A) 美國獨立戰爭 (B) 德法戰爭 (C) 第一次世界大戰 (D) 第二次世界大戰。

答案：(C)

20. () 在各種國際組織的投票過程中，有一大洲因為曾經飽受列強殖民侵略導致獨立後國家眾多，常成為各方勢力拉攏的對象。請問：上述的大洲位於附圖中何處？



(A) 甲 (B) 乙 (C) 丙 (D) 丁。

答案：(C)

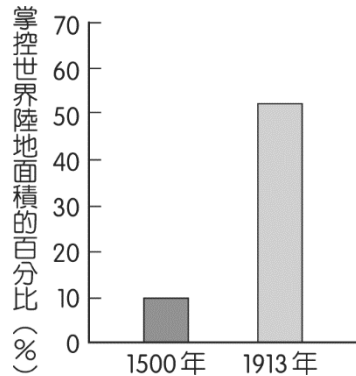
21. () 幾位同學發表有關第一次世界大戰的史事，下列何者說法有誤？
 (A) 嘉文：「義大利在戰爭初期即倒向同盟國。」 (B) 定軒：「德國採用『無限制潛艇政策』攻擊進入英國水域的船隻。」 (C) 家豪：「德國因有意煽動墨西哥攻打美國，造成美國的參戰。」 (D) 柏欣：「俄國因國內發生兩次革命而退出戰場。」

答案：(A)

22. () 他說：「我必須完全遵守憲法，保持信譽。倘然奧國要強迫我取消憲法，我情願作殊死戰。」他這種忠於憲法的態度，博得義大利各地愛國志士的無限景仰，尊稱他為「最誠實的國王」。以上所述為下列何人所說的話？
 (A) 拿破崙 (B) 威廉一世 (C) 明治天皇 (D) 伊曼紐二世。

答案：(D)

23. () 附圖呈現在 1500 年與 1913 年，某一洲的國家因政治、軍事、經濟力量的轉變，所掌控的世界陸地面積比例的變化。此一洲最可能是下列何者？〔104.會考〕



(A)非洲 (B)美洲 (C)亞洲 (D)歐洲。

答案：(D)

24. () 「時勢造英雄，英雄造時勢」，在 19 世紀的歐洲，下列何組人物為國家統一的功臣？
(A)拿破崙、馬志尼 (B)俾斯麥、瓦特 (C)拿破崙、華盛頓 (D)加富爾、俾斯麥。

答案：(D)

25. () 歷史課時，老師請同學說出 19 世紀德國與義大利統一的過程，下列何人的敘述錯誤？
(A)湘婷：「兩者統一皆受民族主義的影響。」 (B)儒雅：「兩者皆透過戰爭而完成統一。」 (C)惠玲：「兩者皆成立關稅同盟號召統一。」 (D)易軒：「法國為兩者共同的統一障礙。」

答案：(C)

26. () 關於美國獨立與法國大革命，下列敘述何者正確？
(A)美國獨立曾發表《人權宣言》；法國大革命則是發表《獨立宣言》 (B)美國獨立後採君主立憲；法國大革命造就拿破崙的崛起 (C)兩者都受到啟蒙運動思潮的影響 (D)兩者在過程中都曾處死國王。

答案：(C)

27. () 「人人生而平等，天賦人權不容剝奪。為了保障這些權利，人們組成政府。當政府不能達成原先組成的目標時，人民就有權推翻政府。」請問：上面這段文字是出自哪一份文件？
(A)《美國憲法》 (B)法國《人權宣言》 (C)英國《權利法案》 (D)美國《獨立宣言》。

答案：(D)

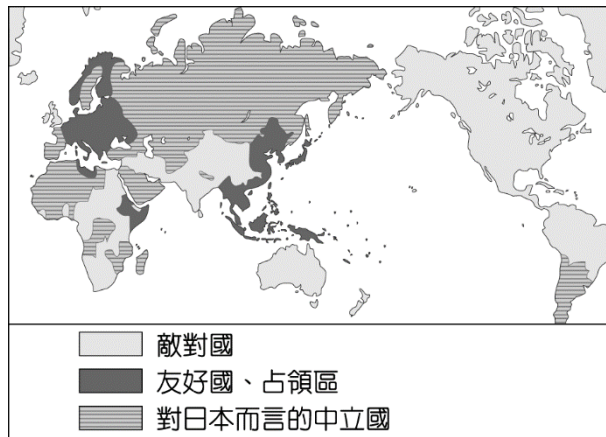
28. () 小威在比較 16 世紀和 19 世紀歐洲國家向外擴張，整理資料如附表。請問：小威哪一項寫錯了？

	16 世紀	19 世紀
背景	發現新航路	工業革命
目的	傳教、獲得亞洲商品	獲得原料和市場
對象	拉丁美洲	拉丁美洲、亞洲、非洲
舉例	印度成為英國殖民地	越南成為法國殖民地

(A)背景 (B)目的 (C)對象 (D)舉例。

答案：(D)

29. () 附圖是日本繪製的第二次世界大戰形勢圖，三種圖例代表與日本三種不同關係。從圖中標示的圖例，可得知這是 1941 年底太平洋戰爭爆發後的世界形勢，最主要的判斷依據應為下列何者？〔111.會考〕



- (A)英國和德國使用不同圖例 (B)英國和美國使用相同圖例 (C)朝鮮和日本使用相同圖例 (D)德國和日本使用相同圖例。

答案：(B)

30.

- () 附圖為 20 世紀的漫畫，圖中的人民正在破壞代表俄國皇室的雙頭鷹圖徽，用以宣洩對政府不滿的情緒。請問：當時這個國家面臨下列哪一問題？



- (A)法西斯主義瀰漫 (B)共產黨執政 (C)經濟大恐慌 (D)政治腐敗。

答案：(D)

31. () 歷經某一事件後，有人對當時的美國評論如附圖。請問：此一事件為下列何者？



- (A)美國發表獨立宣言 (B)美國發表門羅宣言 (C)第一次世界大戰結束 (D)羅斯福推動「新政」。

答案：(C)

32. () 有一本 1926 年出版的書籍，對於臺北名勝介紹如下：「圓山公園位在距離臺北車站 1.8 哩之處，隔基隆河與臺灣神社相望，樹木繁盛，滿山翠綠。園內有市立動物園，動物園飼養了來自世界各地的珍禽異獸，遊覽者眾，此動物園被公認是國內的五大動物園之一。」上述內容中「國內的五大動物園」最可能還包括下列何地的動物園？〔110.會考〕

- (A)上海 (B)馬尼拉 (C)京城(首爾) (D)巴達維亞(雅加達)。

答案：(C)

33. () 第一次世界大戰結束後，許多歐洲國家仍充斥著民族統一主義和復仇主義的民族情節，德國在納粹黨取得政權後更是重整軍備、積極對外侵略，而在第二次大戰前夕併吞了下列哪兩個國家？

(A)捷克、匈牙利 (B)奧地利、波蘭 (C)捷克、波蘭 (D)奧地利、捷克。

答案：(D)

34. () 1930 年代美國紐約股票狂跌，公司、銀行、工廠紛紛倒閉，失業者劇增；金融災害甚至蔓延全球，形成世界性的「經濟大恐慌」。請問：「經濟大恐慌」形成的順序為何？(甲)銀行擠兌風潮(乙)美國提高關稅(丙)歐洲經濟復甦(丁)自由市場停止流動

(A)甲丁乙丙 (B)乙丁丙甲 (C)丙乙甲丁 (D)丙乙丁甲。

答案：(D)

35. () 下列哪一史事發生後，蘇聯正式宣告解體？

(A)東、西德統一 (B)獨立國家國協組成 (C)以色列建國 (D)東歐共產政權瓦解。

答案：(B)

36. () 俄羅斯是世界上領土面積最大的國家，曾經是兩大強權之一，其國力足以與美國相抗衡。關於俄羅斯在政治上的發展，下列敘述何者正確？

(A)1914 年因戰爭消耗國力而爆發二月革命 (B)1917 年十月革命推翻專制君主建立共和政府 (C)1985 年戈巴契夫推動各項改革以解決經濟問題 (D)1991 年因柏林圍牆傾倒，終結了蘇聯的共產統治。

答案：(C)

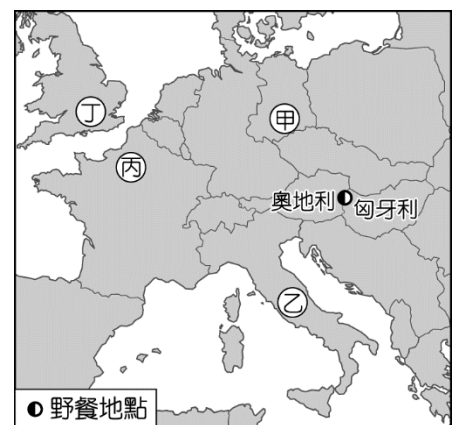
37. () 下列為《拉丁美洲史》一書的部分內容，當時美國發起軍事行動的背景為何？

1898 年美西戰爭後，西班牙將古巴、波多黎各的管轄權交給美國。隨後，美國在古巴、巴拿馬、宏都拉斯、尼加拉瓜、墨西哥、海地、多明尼加等國發起軍事行動，高舉著《門羅宣言》，取得對美洲的控制。

(A)為了尋找原料來源、礦產資源和廣大市場 (B)宣揚民族意識、鼓吹拉丁美洲的獨立 (C)拉攏歐洲列強，共同瓜分拉丁美洲 (D)徵收新稅以解決國家財政困難。

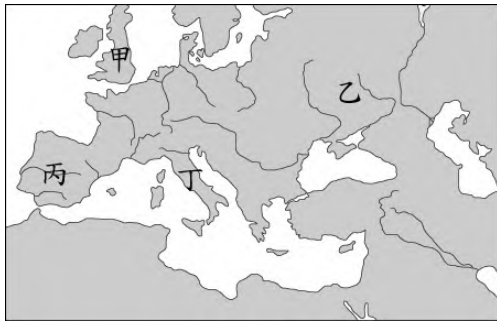
答案：(A)

38. () 「1989 年 8 月 19 日，奧地利及匈牙利曾在邊界上相鄰的兩個小鎮間，舉辦一場野餐交流活動。活動中，兩鎮之間的木製國界圍籬會被打開三小時，象徵支持沒有隔閡的歐洲。然而，這場野餐會卻成為政治性的脫逃活動。當圍籬一打開，從其他國家特別前來此地的數百男女就迅速衝過邊界，逃離受到共產集團控制、實施計畫經濟的家鄉，抵達了『自由的歐洲』。」上述利用野餐脫逃的民眾，最可能來自附圖中甲、乙、丙、丁何地？【114 年會考】(A)甲 (B)乙 (C)丙 (D)丁。



答案：(A)

39. () 十七世紀時，某個歐洲國家移民到北美東岸，並建立了十三個殖民地。請問：這個歐洲國家應位於附圖中的何處？(A)甲(B)乙(C)丙(D)丁



答案：(A)

40. () 「十八世紀中葉，隨著在北美洲殖民地的戰爭結束，大英帝國的版圖前所未有的廣大，總負債也達到前所未有的高點。為了應付龐大的債務，英國政府不得不增加稅收的種類，並且也將徵稅對象擴及到北美洲殖民地，英國就此成為歐洲課稅最重的國家。」請問：英國此舉的後續發展為何？(A)發起東征以取得東方財富(B)殖民地爆發獨立戰爭(C)推翻國王以改行共和(D)擊敗拿破崙以接收其帝國

答案：(B)

41. () 「我的字典裡沒有難字。」這是拿破崙的名言，他的戰功顯赫令全歐震驚，曾在短時間內連破義大利、奧地利等國。請問：下列何者不是拿破崙的事蹟？(A)於西元1804年稱帝，建立法蘭西帝國(B)處死路易十六，結束專制王權(C)在共和時期崛起，成為法國的民族英雄(D)擊敗反法聯軍，傳播法國大革命精神

答案：(B)

42. () 西元1823年，美國門羅總統曾發表《門羅宣言》，下列何者是這個宣言的主張？(A)鼓吹拉丁美洲國家維持殖民統治(B)強調美洲的事務由美洲國家自行解決(C)禁止他國干預義大利的建國獨立運動(D)抨擊天主教會的腐敗與迷信

答案：(B)

43. () 帝國主義是指一個國家為了自身利益或文化優越感，以政治、軍事力量壓迫其他國家，對外建立殖民地。下列哪一個敘述不屬於帝國主義的行為？(A)美國在中南美洲占領土地並壟斷產業，當地農民反抗卻遭鎮壓(B)英國政府直接統治印度後大量生產棉、茶，卻造成饑荒(C)歐洲各國競相殖民非洲，非洲只能生產工業原料，不能發展自身產業(D)日本面臨列強勢力進逼，採取改革措施，得以保有國家主權

答案：(D)

44. () 「十九世紀帝國主義對外擴張的過程中，短短不到一年內就占據了這塊大陸。這塊大陸的面積有非洲的兩倍大，除了少數國家外，大多數的地區都被歐洲瓜分了。」請問：文中所提到的「這塊大陸」指的應該是下列何地？(A)亞洲(B)北美洲(C)澳洲(D)拉丁美洲

答案：(A)

45. () 「許多美國士兵的殘骸從法國的公墓運回美國本土重新下葬，隨其屍身挾帶而來的法國泥土也因此被容納進美國的土地當中，顯示這場戰爭以非刻意、卻最悲劇的方式強化了舊世界與新世界之間的聯繫。」請問：「這場戰爭」最有可能為下列何者？(A)美國獨立戰爭(B)反法戰爭(C)第一次世界大戰(D)越戰

答案：(C)

46. () 「國際聯盟」是一個國際組織，此組織具有下列敘述中的哪一個特點？(A)成功的維持了第一次世界大戰後的國際秩序(B)協助各國解決經濟大恐慌的問題(C)成立的目的是為維持世界和平(D)協助種族平等政策的發展

答案：(C)

47. () 第一次世界大戰前後，「民族自決」的議題受到普遍關注，也影響到許多國家的發展。請問：關於民族自決的說明，下列何者正確？(A)民族自決產生於二十世紀中前期(B)民族自決的影響僅發生在歐洲(C)民族自決理念在一次大戰後澈底落實(D)民族自決是由美國總統華盛頓所提出

答案：(A)

48. () 附表為某一國家在西元 1928~1932 年工業總產值的資料。請問：這個國家最可能是下列何者？(A)蘇聯(B)美國(C)英國(D)德國

答案：(A)

49. () 因為受到經濟大恐慌的影響，有一段時期美國的經濟十分不景氣，街頭四處可見失業者。請問：這應該是何時的事？(A)一九一〇年代初期(B)一九二〇年代初期(C)一九三〇年代初期(D)一九四〇年代初期

答案：(C)

產品種類	1928年	1932年	1928至1932增長率(%)
鋼鐵 (百萬噸)	4.3	5.9	137
黑色金屬 (百萬噸)	3.4	4.4	129
煤炭 (百萬噸)	35.5	64.4	181
石油 (百萬噸)	11.6	21.4	184
電力 (十億千瓦時)	5.0	13.5	270

50. () 「希特勒在某次國際會議上宣稱，占領該地區

是德國最後一次的領土擴張；英國首相張伯倫信以為真。沒多久希特勒便食言了，英、法兩國這時才知道受騙。」這應是在描述哪一個國際協定簽約的經過？

(A)《德蘇互不侵犯條約》(B)《聯合國憲章》(C)《慕尼黑協定》(D)《凡爾賽條約》

答案：(C)

51. () 「冷戰」意味著相較於戰爭的「熱戰」而言，並沒有實際的戰爭行為，不過冷戰的雙方仍在許多層面上有所較勁，因此在冷戰期間的國際局勢亦是十分險峻，兩方陣營皆怕一個不小心就會擦槍走火，走向「熱戰」的形式。關於冷戰的敘述，下列何者錯誤？(A)美國為首的國家建立「華沙公約組織」，對抗以蘇聯為首的「北大西洋公約組織」(B)冷戰兩方可視為資本主義世界與共產世界兩股勢力的相互對抗(C)會造成冷戰的局面，原因在於雙方陣營皆握有核子武器，並且深怕再次引發世界大戰(D)冷戰之下的兩方陣營仍有零星的區域衝突

答案：(A)

52. () 阿佑最近迷上了一部歷史影集，附表是該戲劇分集的標題。根據表中內容推測，第一集的名稱最有可能是下列何者？(A)領導者改革(B)希特勒掌權(C)珍珠港事變(D)法西斯盛行

第一集	序幕：？
第二集	進化：衝破鐵幕封鎖
第三集	頹勢：柏林圍牆倒塌
第四集	終結：赤色帝國末日

答案：(A)

53. () 一位德國學者說道：「西元 1961 年開始建造這堵高牆，高牆取代了原來的鐵絲網，不但隔絕了人民對於自由以及民主的希望，也成為冷戰時期的重要標誌性建築物。」請問：這堵高牆何時才被拆除？(A)以色列建國後(B)越戰結束後(C)蘇聯解體時(D)古巴危機發生後

答案：(C)

54. () 有人說德國的統一是早晚的事，但就是缺少了一個時機點。一九八〇年代是政治動

盪的時代，蘇聯對共產世界的控制逐漸弱化，也促使東歐各國出現民主化運動。請問：下列事件何者與蘇聯的政治改革較無關聯？(A)東、西德的統一(B)美蘇冷戰的終結(C)獨立國家國協的成立(D)中華民國臺灣地區解嚴

答案：(D)

55. ()羅馬帝國在鼎盛時期的版圖橫跨歐、亞、非三大洲，即使後來分裂為東、西兩部分，西羅馬帝國早在西元 476 年滅亡，但其影響力至今仍可見，而「恢復古羅馬光榮」的口號，更是曾經多次重現於歐洲歷史。請問：下列哪一位歷史人物即以「恢復古羅馬光榮」為號召，試圖喚起民眾的民族意識，以建立統一的民族國家？(A)拿破崙(B)加里波底(C)馬志尼(D)查士丁尼

答案：(C)

56. ()某歷史書籍評論：「第一次世界大戰使過往人們熟悉的歐洲成為廢墟，許多延續數世紀之久的王朝，被新領袖、新制度、新意識形態取代。西元 1918 年的歐洲不同於西元 1914 年的歐洲，就像西元 1815 年的歐洲不同於西元 1789 年的歐洲。」關於這段話的敘述，下列何者正確？(A)從西元 1789~1815 年間，導致歐洲巨大變動的主因為神聖羅馬帝國瓦解(B)在一次大戰中瓦解的王朝，包括法國的波旁王朝(C)一次大戰後各國以「十四點和平原則」為參考，重建國際秩序(D)一次大戰後美國積極參與國際事務，主導歐洲各國政治

答案：(C)

57. ()對於柏林圍牆的存在，美國總統甘迺迪曾發表意見：「這不是個很好的解決方案，但一堵牆，比戰爭要好得多。」關於這段話的解釋，下列何者較正確？(A)柏林圍牆為冷戰時期的重要象徵(B)這段話顯示甘迺迪支持興建柏林圍牆(C)柏林圍牆倒塌，代表美蘇和解(D)柏林圍牆位於東西德之間，區隔了歐洲的兩種意識形態

答案：(A)

58. ()小光假日參訪「重建歷史真相」的特展。首先，他來到了「俄羅斯館」參觀。館方在門口放置了該國歷史大事紀，如附表所示，並安排一名導覽員替民眾講解。下列何者是小光可能會聽到的解說？(A)日耳曼人在甲時期入侵並建立政權，歷史進入中古時期(B)在丙時期的共和國被建立後，新政府決定退出二次大戰(C)列寧是丁時期領導者之一，他推動共產國際的建立(D)歷史進入戊時期是因史達林掌權後實施了改革

甲時期(882 年)	基輔羅斯
乙時期(1547 年)	俄羅斯帝國
丙時期(1917 年)	俄羅斯共和國
丁時期(1917 年)	俄羅斯蘇維埃聯邦 社會主義共和國
戊時期(1991 年)	俄羅斯聯邦

答案：(C)

59. ()西元 1787 年美國所制定的某法案中，有部分如下的內容：「……立法權全屬合眾國的國會，國會由一個參議院和一個眾議院組成。……行政權力賦予美利堅合眾國總統，總統任期四年。……合眾國的司法權屬於一個最高法院，以及由國會隨時下令設立的低級法院。……各州對其他各州的公共法案、紀錄、和司法程序，應給予完全的信賴和尊重」。請問：從文中不能判定哪一點？(A)美國採取三權分立、相互制衡的制度(B)美國屬於君主立憲的內閣制(C)美國實施各州擁有相當程度自主權的聯邦制(D)美國國會有兩院的設置

答案：(B)

60. ()下列有關義大利建國三傑的敘述，何者正確？(A)加富爾曾組織青年義大利黨，鼓吹統一(B)馬志尼以外交與軍事手段排除奧國的勢力(C)加富爾擔任教皇國的首相，是義大利建國的重要推手(D)加里波底將土地獻給薩丁尼亞國王

答案：(D)

61. () (甲)薩丁尼亞王國為建國運動的領頭羊 (乙)薩丁尼亞王國首相加富爾採取軍事與外

交策略，排除奧國在義大利的勢力 (丙)馬志尼率領紅衫軍征戰義大利南部 (丁)義大利的土地多半為英國與奧國所控制 (戊)馬志尼等人組織「青年義大利黨」，主張取回奧地利占領地。上面的敘述何者正確？(A)甲乙丙(B)甲乙丁(C)甲乙戊(D)乙丙丁
答案：(C)

62. ()美國總統門羅在國情諮文報告中提到：「……表明美國政府認為歐洲列強在未來不應再進一步殖民美洲，或涉足美國與墨西哥等美洲國家之主權相關事務。對於歐洲各國之間的爭端，或各國與其美洲殖民地之間的爭端，美國基本上保持中立。但若相關戰事發生於美洲，美國將視為具敵意之行為……。」請問：針對上述文字，下列說明何者正確？(A)基於人道考量，絕不允許歐洲國家再載運黑人到美洲 (B)基於政治考量，嚴禁歐洲各國對於美洲國家進行軍事行動 (C)基於經濟考量，美國希望結合英、法勢力鞏固美洲的發展 (D)基於外交考量，美國與墨西哥交好可避免政治難民越過邊界
答案：(B)

63. ()夜叉代表國家出席一年一度的國際經濟討論會議。在會議中，各國學者將報告自己國家的經濟問題，再由大家共同討論解決方案。夜叉打算以附表呈現他的報告。請問：夜叉國家的經濟問題，是在下列何項歷史背景下形成？(A)因生產棉花需求政府推動蓄奴制度(B)獨立運動浪潮使西方需要海外資源(C)社會主義使西方加速拓展各國市場(D)西方因帝國主義擴張加速海外殖民

- | |
|---|
| <ol style="list-style-type: none">1.增加單一經濟作物種植，造成糧食不足。2.第一級產業出口導向，受國際市場影響。3.依賴歐洲資金，社會貧富差距大。 |
|---|

答案：(D)

64. ()新冠肺炎(Covid-19)肆虐多年，造成全球大恐慌。事實上，被稱為「大流行之母」的西班牙流感，亦曾在西元 1918~1920 年間流行，不但間接造成當時戰爭的結束，死亡人數更超過 4000 萬人。請問：下列哪一項是關於該場戰爭的敘述？(A)戰爭起因於德法戰爭後，法國擴張勢力(B)俄國在戰爭期間發生革命，於是協議退出戰場(C)戰後各國召開維也納會議，重建歐洲秩序(D)美國在中期宣布對日作戰，扭轉戰爭局勢
答案：(B)

65. ()西元 1920 年，某國際組織成立，總部設在瑞士日內瓦，其盟約開宗明義的表示：「藉由各國彼此約束而非訴諸戰爭，以促進國際合作、達成國際和平與安全……。」下列有關此組織的敘述，何者正確？(A)成立的背景是美國總統羅斯福於「十四點原則」中提及永久性國際組織的設立(B)此組織依據西元 1919 年巴黎和會的決議而成立(C)此組織經常能夠有效處理國際紛爭及制裁侵略行為(D)為現今最重要的國際組織，參與國多達 192 個
答案：(B)

66. ()一位政治人物為掌握政權，曾許諾「給農民以土地，給國家以和平，給飢民以麵包！」他號召民眾推翻舊政府，試圖建立一個新的政府。當革命成功，土地重新分配了，一年後，他卻要求農民把農產品交給新政府，命令「紅軍士兵們挨村尋找那些最差的、最懶的、最奸猾的農民，給他們權力，讓這些精心挑選的人去沒收他們鄰居的『餘糧』。」根據上述選出正確的說明？(A)政治人物是指史達林(B)文中的革命指十月革命(C)「和平」指退出第二次世界大戰(D)文中的新政府指臨時政府
答案：(B)

67. ()義大利和德國都在第一次世界大戰後展開極權統治，除此之外，當時兩國還有下列

哪個共同點？(A)都是一次大戰的戰勝國(B)都以反共為主張(C)兩國領袖都是以發動政變，取得政權(D)皆推行計畫經濟來促進國防發展

答案：(B)

68. ()珍珠港位於夏威夷群島的政治、經濟、文化中心——歐胡島的中南部，是一個美麗的天然良港，而讓這個港口聲名大噪的是因為珍珠港事變。下列有關此事件的說明，何者有誤？(A)發生在第二次世界大戰期間(B)此事件發生後，蘇聯決定退出戰場(C)造成歐亞戰場合流(D)美國受此刺激，決定對軸心國宣戰

答案：(B)

69. ()第二次世界大戰結束後，在幾個國家的推動下，聯合國正式成立。請問：聯合國總部位於附圖中的何處？(A)甲(B)乙(C)丙(D)丁



答案：(A)

70. ()下列哪一項因素是美、蘇兩大集團持續維持長期冷戰，但不至於發生全面性衝突的主因？(A)軍備競賽耗費巨大(B)人民渴望和平(C)核子武器的毀滅性(D)彼此的通融

答案：(C)

71. ()「水晶之夜」是希特勒所屬「國家社會主義德國工人黨」策畫的破壞行動，這場事件中，一共有 1,500 座以上的猶太教堂遭到破壞，7,000 間猶太商店被砸毀或是縱火，91 名猶太人當晚死亡，後續有 3 萬人被關入集中營，是德國政府對猶太人暴力壓迫的開端。請問：上述的事件最應該放在哪一個標題之下？(A)集權政治(B)法西斯黨(C)社會主義(D)極權政治

答案：(D)

72. ()「曼哈頓計畫」是該項武器的研發計畫代號。第二次世界大戰期間，猶太裔的科學家愛因斯坦鑑於納粹德國已經在研發該武器，建議美國總統羅斯福，美國不能讓德國搶先成功，故美國投入大量資金人力執行「曼哈頓計畫」，此計畫也成為結束第二次世界大戰的關鍵因素。下列哪一個選項與「曼哈頓計畫」研發的武器「原料」關聯度最高？(A)美國對軸心國宣戰(B)臺灣討論核四問題(C)日本爭釣魚臺主權(D)中國對日本宣戰

答案：(B)

73. ()關於一九三〇年代歐洲地區的政治形勢，下列說明何者正確？(A)英、法兩國極力安撫德國(B)波蘭已經遭到德、蘇瓜分(C)德國開始集結軍隊進攻法國(D)美國放棄外交中立政策

答案：(A)

74. ()附圖為美國與蘇聯的「國內生產毛額成長率」比較圖。下列哪一個說明，最符合此圖的走向？(A)美蘇經濟實力趨近(B)美國經濟從未衰退(C)蘇聯經濟逐漸好轉(D)蘇聯面臨經濟衰退



答案：(D)

二、題組

(一) 「法西斯主義」是一種強調民族國家至上的政治學說，它強調個人應為國家無條件犧牲奉獻，並且反對民主和社會主義，主張種族主義，應採取黷武的軍事外交政策，對領袖高度效忠。請問：

75. () 第一次世界大戰後，「法西斯主義」高喊社會正義原則，承諾協助勞工大眾與中產階級改善其生活與社會地位，對於工商企業界則承諾恢復社會秩序，所以逐漸在下列哪些地區受到支持，而導致極權政權的興起？ (A)英國、法國 (B)德國、義大利 (C)俄國、奧國 (D)希臘、土耳其。

76. () 法西斯主義在歐洲興起，除了經濟因素之外，還受到何股勢力在破壞社會秩序所影響？ (A)共產黨 (B)工人黨 (C)綠黨 (D)保守黨。

答案：(1)(B)；(2)(A)

(二) 附圖為 1814 年的一場會議，當時幾乎所有歐洲國家都派代表來到維也納，當地聚集超過 200 個國家和王朝的代表，會議的所有討論都是在各個列強之間的非正式會晤中進行的，包括如何維持歐洲各國勢力的均衡，以達到長期和平。請問：



77. () 上文中這場會議召開的主要目的是由於下列哪一事件？ (A)法國大革命民主浪潮 (B)拿破崙稱霸歐洲失利 (C)拿破崙自行稱帝 (D)英國爆發工業革命。

78. () 上文中的會議是由何國主導？ (A)法國 (B)美國 (C)西班牙 (D)奧國。

答案：(1)(B)；(2)(D)

(三) 以下是 18 世紀某一文件的主旨：

A. 大不列顛現任國王的統治，是一連串的傷害和掠奪的紀錄，這些暴行的唯一目標，就是想建立一個專制的虐政，橫壓在我們各邦之上。

B. 任何人都生而平等，均由上帝賦予不可侵犯的圖生存、求自由與謀幸福的權利。

C. 所有政府的正當權力，均由被統治者的同意而來。

D. 任何政府若破壞上述天賦人權，人民即可將之推翻，另建新的政府。

請問：

79. () 由上述內容判斷，此文件應為下列何者？ (A)英國《權利法案》 (B)美國《聯邦憲法》 (C)美國《獨立宣言》 (D)法國《人權宣言》。

80. () 上述(二)中的內容，深受下列哪一啟蒙思想家的影響？ (A)盧梭 (B)洛克 (C)伏爾泰 (D)孟德斯鳩。

答案：(1)(C)；(2)(B)

(四) 某政權因推動改革而瓦解，而它的瓦解也代表著冷戰的結束。請問：

81. () 上文中的「某政權」，指的是下列何者？ (A)蘇聯 (B)美國 (C)英國 (D)法國。

82. () 上文提及的政權在其推動改革至瓦解期間，所控制的地區發生事件中不包括下列何者？ (A)古巴危機 (B)柏林圍牆倒塌 (C)東歐共產政權瓦解 (D)東、西德統一。

答案：(1)(A)；(2)(A)

(五) 請閱讀短文後，回答下列問題：(4-2)

蘇聯解體前，民生物資匱乏、貨幣超發嚴重，導致貨幣貶值，幾乎所有商品都出現短缺。

蘇聯解體後，歷經兩次經濟轉型的陣痛。2004年起，俄羅斯聯邦經濟開始起飛；2011年，GDP增長4.3%。擺脫了共產計畫經濟的俄羅斯人民，解放了生產力，並取得驚人的經濟發展成績。然而，近年出現不斷下滑的趨勢、多年出現負增長。故此後，經濟問題是俄羅斯政府在國內面臨的主要挑戰。

(資料來源：改寫自陸南泉，俄羅斯經濟轉型30年評析，2021年。)

83. () 本文最可能被下列哪本書籍引用？ (A)二次大戰與蘇聯 (B)冷戰後的俄羅斯 (C)俄國與共產革命 (D)計畫經濟的前景。
84. () 上文提到的俄羅斯聯邦，是蘇聯解體後成立的聯邦制國家，其目前參加的區域性政治組織應為下列何者？ (A)北大西洋公約組織 (B)華沙公約組織 (C)獨立國家國協 (D)國際聯盟。

答案：(1)(B)；(2)(C)

(六) 1930年代，德國積極對外侵略。請問：

85. () 當時英、法等國採取下列何者，避免戰爭再起？ (A)姑息政策 (B)孤立主義 (C)共產主義 (D)法西斯主義。
86. () 當時德國積極對外侵略，下列哪一事件發生最早？ (A)進占蘇臺德區 (B)吞併捷克 (C)併吞奧地利 (D)入侵波蘭。

答案：(1)(A)；(2)(C)

(七) 帝國主義熱潮的形成，與當時的時代背景有極密切的關係。請回答下列問題。

87. () 帝國主義國家秉持「優勝劣敗，適者生存」的觀念，競相爭奪殖民地或劃分勢力範圍，這和哪一種主義的盛行有關？ (A)社會達爾文主義 (B)社會主義 (C)民族主義 (D)人文主義
88. () 受狹隘的民族主義影響，使得這些以白種人為主的工業強國往往輕視黃種、黑種等有色人種。但在這些帝國主義國家中，有某一國家是屬於有色人種；這應該是哪一國？ (A)中國 (B)日本 (C)法國 (D)英國

答案：(1)(A) (2)(B)

(八) 第一次世界大戰後成立的國際聯盟，並沒有任何實質的力量制止國際上的糾紛，因而在第二次世界大戰結束前夕，重新設立新的國際組織的聲浪又再次響起，在主要幾個國家的鼓吹之下，聯合國於西元1945年成立，除了維護和平之外，也在經濟、社會、文化、衛生、教育等方面有相當大的貢獻。請回答下列問題。

89. () 聯合國的成立主要是由下列哪些國家的鼓吹，因而逐步成形？ (A)中、美、義、法 (B)中、美、英、蘇 (C)英、美、義、法 (D)中、英、德、蘇
90. () 聯合國在成立後，將總部設在下列哪一個城市？ (A)紐約 (B)巴黎 (C)倫敦 (D)東京
91. () 安全理事會雖然在維護和平與調解國際糾紛時，擁有組織多國部隊實施軍事制裁的權力，卻因為哪一個因素，使得安理會無法發揮其維護和平的作用？ (A)美國實行孤立主義 (B)戰後英、美對峙的影響 (C)常任理事國擁有否決權 (D)聯合國缺乏國防經費

答案：(1)(B) (2)(A) (3)(C)

(九) 請閱讀下列資料並回答問題。

資料一西元 1946 年 3 月 5 日，邱吉爾在美國演講時，使用了「鐵幕」這個詞：「從波羅的海到亞得里亞海，已經拉下了橫貫歐洲大陸的鐵幕，這張鐵幕後面坐落著所有中歐、東歐古老的首都：華沙、柏林、布拉格、維也納、布達佩斯……這些著名的都市和周圍的人口，全都位於蘇聯勢力範圍內，不僅受蘇聯的影響，而且愈來愈為莫斯科所控制。」

資料來源：改寫自尤義賓(2008)。世界通史。高雄：漢宇國際。

資料二西元 1947 年 7 月，美國的蘇聯問題專家肯楠在外交季刊上發表了一篇專文，主張美國對蘇聯的擴張，必須採取「長期而忍耐、但又堅定而警覺的圍堵政策……每當蘇聯對世界任一地區顯示侵略企圖時，美國必須以堅定不移的相對力量加以制止。」

資料來源：改寫自李邁先(2008)。西洋現代史。臺北：三民書局。

92. () 這兩則資料應是屬於哪一個時期的史料？ (A) 戰間期 (B) 冷戰時期 (C) 一次大戰期間 (D) 二次大戰期間
93. () 根據資料二，後來美國可能組成哪一個組織以為因應？ (A) 華沙公約組織 (B) 東南亞國家協會 (C) 亞太經濟合作會議 (D) 北大西洋公約組織

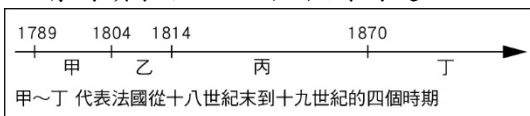
答案：1.(B) 2.(D)

(十) 《悲慘世界》(Les Misérables)是法國文豪雨果(Victor Marie Hugo，西元 1802~1885 年)的知名作品，背景涵蓋了十九世紀上半葉的法國政治、社會與經濟狀況。請依序回答下列問題。

94. () 在《悲慘世界》的原著小說中，時代的跨度非常大。其中有一幕是統治者被加冕為法蘭西帝國皇帝。下列何者最有可能是該位皇帝的作為？ (A) 透過頒布法典，在歐洲各國宣揚法國大革命的精神 (B) 將國王送上斷頭臺 (C) 召開三級會議 (D) 實行恐怖統治
95. () 法國若從三級會議召開到拿破崙征服歐洲大多數地區，依照順序最可能經歷下列哪些政體演變？ (A) 共和→王國→帝制 (B) 王國→共和→帝制 (C) 王國→帝制→共和 (D) 共和→帝制→王國

答案：(1)(A) (2)(B)

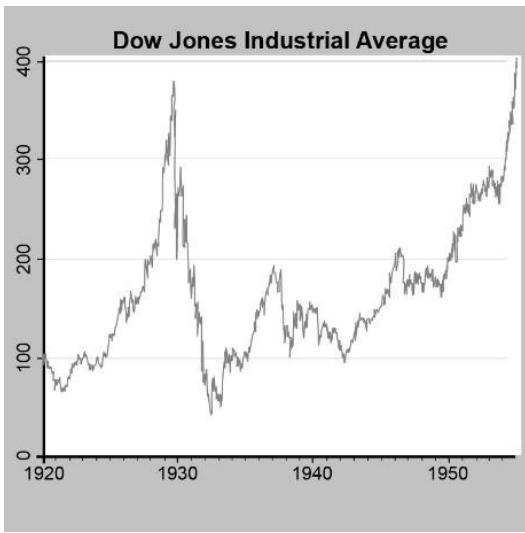
(十一) 請閱讀表格，回答下列問題。



96. () 法國某一時期：發表《人權宣言》，取消貴族、教會的特權，改行共和體制。這是哪一時期出現的改制行動？ (A) 甲 (B) 乙 (C) 丙 (D) 丁
97. () 表中的乙時期演變成丙時期，是哪一事件所致？ (A) 召開國民會議 (B) 民眾攻進巴士底監獄 (C) 羅伯斯比被送上斷頭臺 (D) 滑鐵盧之役

答案：(1)(A) (2)(D)

(十二) 下圖是美國道瓊工業指數自一九二〇年代至一九五〇年代的走勢，請依據此圖回答下列問題。



98. () 列有關一九二〇年代美國國際關係的敘述，何者正確？ (A)積極參與國際聯盟 (B)主導法西斯主義陣營 (C)對抗社會主義的國家 (D)受孤立主義氛圍籠罩
99. () 一九二〇年代末期，道瓊工業指數出現恐慌性賣壓，股價一瀉千里，全世界陷入普遍的不景氣。但唯獨一個國家因為實施計畫經濟，使其躲過經濟大恐慌，在當時還出現許多檢討聲浪，許多自由主義國家認為計畫經濟或許是人類的另一條出路。請問：帶領上述國家實施計畫經濟的領導人應為何者？ (A)列寧 (B)史達林 (C)羅斯福 (D)威爾遜
100. () 綜觀一九二〇年代的不景氣，由美國開始吹向全球，大多數的國家無法置身事外。甚至有些國家不能以自由市場的方式挽救經濟，促成極權政治的興起。下列有關各地極權政治領導人與其所屬政黨的配對，何者正確？ (A)希特勒——納粹黨 (B)蔣中正——共產黨 (C)墨索里尼——青年義大利黨 (D)史達林——中國國民黨

答案：(1)(D) (2)(B) (3)(A)