

一、單題

1. () 國民黨與共產黨之間的第一次合作，主要與下列哪一項政策有密切的關係？ (A)以華制華 (B)聯俄容共 (C)反共抗俄 (D)聯共抗日。

答案：(B)

2. () 中共領導者毛澤東為了「超英趕美」，因此發起哪一項運動？ (A)土地改革 (B)消滅私營 (C)改革開放 (D)大躍進運動。

答案：(D)

3. () 因來自某國的人士幫忙，創立了一所訓練宣傳的政治學校，教國民黨的政治人物如何博取群眾支持，於是國民黨按照他提供的範本，在民國 13 年發展出有著此國模式的政黨體制。上述提到的「某國」應為哪一國家？ (A)蘇聯 (B)德國 (C)美國 (D)日本。

答案：(A)

4. () 民國 26 年底，美國戰地記者強森拍攝到日本在中國某地屠殺無辜百姓，甚至舉行殺人比賽，造成極大的傷亡。強森拍攝的地點應是中國的哪個城市？ (A)北京 (B)南京 (C)重慶 (D)濟南。

答案：(B)

5. () 以下是一位旅行者在上海的見聞：「上海的工廠地帶可以看到轟炸的痕跡，有來到了戰場的感覺。但是如果來到租界區，興盛的商業中心立即映入眼中。在此，歐、美國家的主要銀行林立，國民政府的官方銀行—中央銀行，以及中國銀行、交通銀行等仍然繁忙地繼續營業，處理租界區內法幣的發行與交易。」此人最可能是在下列何時參訪上海？〔107.會考〕(A) 1830 年代 (B) 1890 年代 (C) 1930 年代 (D) 1990 年代

答案：(C)

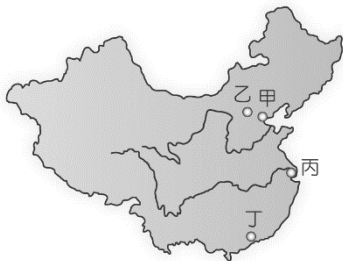
6. () 中共史上有一位人物「使中共能取得韓戰的不敗而能與美國對峙的局面，也順利完成了第一個 5 年計畫的目標。第一個 5 年計畫的成功，使他充滿樂觀主義，認為共黨憑藉群眾運動來使中國走入先進國家之列，進而推動大躍進，違背經濟發展模式，終導致中國的大災難……。」上文所描述的人物應是指下列何人？ (A)陳獨秀 (B)蔡元培 (C)張學良 (D)毛澤東。

答案：(D)

7. () 老師針對中共所實施的大躍進運動進行解說，其中不會出現下列何者？ (A)開始推動的年代為 1960 年代 (B)運動目標要在農、工業趕上英、美 (C)以集體管理的方式從事生產 (D)大量興建土高爐以求煉鋼成效。

答案：(A)


8. () 「西元 1989 年，成千上萬的學生在北京市中心的天安門廣場集會，表達對國家領導的不滿，並要求民主改革……。」文中的事件發生在附圖哪一個地區？〔95.第一次基測修訂〕



(A)甲 (B)乙 (C)丙 (D)丁。

答案：(B)

9. () 附圖是一幅宣傳海報，此宣傳海報最早可能在下列何時何地傳布？〔106.會考〕(A) 1919~1930 年的臺北 (B) 1949~1960 年的臺北 (C) 1916~1928 年的瀋陽 (D) 1932~1945 年的瀋陽。



答案：(D)

10. () 中國共產黨於何時成立？(A) 民國元年 (B) 民國 2 年 (C) 民國 8 年 (D) 民國 10 年。

答案：(D)

11. () 革命黨人於西元 1911 年推翻滿清，於隔年建立中華民國。中華民國的臨時政府建立於何地？(A) 北京 (B) 西安 (C) 廣州 (D) 南京。

答案：(D)

12. () 附表為某一時期官方所頒行機關學校放假日期的部分內容，根據內容判斷，此一日程最可能由下列何者所頒行？〔108.會考修訂〕(A) 1895 年的清廷 (B) 1929 年的南京國民政府 (C) 1945 年的臺灣總督府 (D) 1979 年的中華人民共和國。

放假日期	放假事由及天數
1/1	中華民國開國紀念日，放假一天
1/2~1/3	新年，放假二天
3/12	孫中山逝世紀念，放假一天
10/10	中華民國國慶紀念，放假一天
11/12	孫中山誕辰紀念，放假一天

答案：(B)

13. () 在某本以近現代中國為背景的小說中寫到：「最近，國家開始實施新政策，由政府指定中央、交通、中國這幾家銀行發行法幣。我想，此政策若真能好好實行，改善過去幣制混亂的情況，買賣交易就比較好做了。」這段話所呈現的最可能是中國處於下列何種局勢下的情況？【105 年會考】(A) 戊戌變法期間，朝廷推動經濟改革 (B) 八國聯軍結束，朝廷陸續推行新政 (C) 北伐統一完成，政府致力建設發展 (D) 八年抗戰後期，政府籌措資金抗日

答案：(C)

14. () 某人認為「中國文字，既難傳載新事新理，且為腐毒思想之巢窟，廢之誠不足惜。……當此過渡時期，唯有先廢漢字，且存漢語，而改用羅馬字母書之。」這段言論，最有可能出現於下列哪一時代的中國呢？(A) 1810 年代 (B) 1860 年代 (C) 1910 年代 (D) 1960 年代。

答案：(C)

15. () 以下是一位西方記者對時事的報導：「過去美歐人士在中國許多城市高高在上，不僅享有領事裁判權保護，更有本國軍隊在中國駐紮。但『戰爭』改變了一切，領事裁判權被取消，美歐人士必須接受中國司法管轄，他們逍遙於中國司法之外的好日子和地位，一去不復返了。」上述「戰爭」最可能是指下列何者？〔110.會考〕(A) 鴉片戰爭 (B) 國民革命軍北伐 (C) 第一次世界大戰 (D) 第二次世界大戰。

答案：(D)

16. () 直至 2016 年底，中國共產黨有約黨員 8,944 萬人，為全世界最大的政治團體。下列有關中國共產黨的敘述，何者正確？(A) 袁世凱執政時，中國共產黨成立 (B) 蔣中正曾提出聯俄容共的策略 (C) 抗日戰爭期間，共軍因全力抗日而式微 (D) 抗戰勝利後，獲得蘇聯大力支援。

總而言之，統而言之，不是東西！

民由是也，國由是也，何分南北？

答案：(D)

17. () 民國 6 ~ 17 年所謂的南北分裂時期，當時中國境內出現了兩個政府，當時民間有一副對聯（如附圖）來嘲諷當時南爭北鬥的政治亂象。南北分裂時期的南、北各是指哪一個政府？(A)軍政府、北京政府 (B)南京政府、北京政府 (C)武漢政府、南京政府 (D)滿洲國、中華民國政府。

答案：(A)

18. () 12 月 25 日為中華民國的行憲紀念日。國民大會通過憲法後，由蔣中正簽署同意實施。這件事發生在何時？(A)中日戰爭期間 (B)國共內戰期間 (C)中華民國政府遷臺後~解嚴前 (D)解嚴後。

答案：(B)

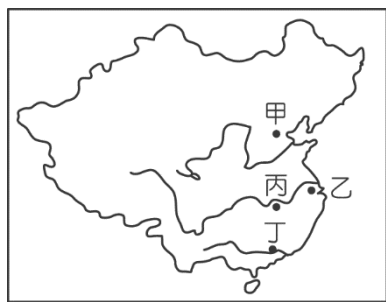
19. () 革命黨人歷經過許多失敗，終於在辛亥革命後推翻滿清，結束中國兩千年的帝制政體，建立了亞洲第一個民主共和國。辛亥革命成功的主要原因為何？(A)立憲運動的失敗 (B)清帝光緒年幼 (C)慈禧太后大力支持 (D)各省的積極響應。

答案：(D)

20. () 歷史事實與歷史解釋不同，歷史事實是呈現客觀的事實本身；而歷史解釋則是史學家對史實的詮釋。就民國初年的「新文化運動」而言，下列哪一項敘述屬於史學家對史實的詮釋？(A)大量西方學說被引進 (B)提倡民主與科學 (C)胡適、陳獨秀提倡白話文 (D)新文化運動後，帶來了學術思想的蓬勃發展。

答案：(D)

21. () 1911 年革命黨人發動起事，當時各省陸續響應，號稱「武昌起事」。武昌起事發生地點在附圖的哪一處？〔92.第一次基測修訂〕



(A)甲 (B)乙 (C)丙 (D)丁。

答案：(C)

22. () 下列出自某歷史人物傳記中的資料，由此可推測這應是何人的傳記？

資料一：他曾在文化大革命時遭到整肅，卻在晚年重掌中共領導大權。

資料二：在他擔任中共領導的時期，推動「改革開放」。

(A)鄧小平 (B)毛澤東 (C)蔣中正 (D)溥儀。

答案：(A)

23. () 附圖是一幅歷史照片與說明，圖說人物曾兩度被俘。依據說明，此人最可能先後被下列何者所俘？〔105.會考〕(A)日本、美國 (B)日本、中國國民黨 (C)中國共產黨、美國 (D)中國共產黨、北韓。



1947 年，有一位臺南人在臺灣被政府徵召，隨部隊赴中國華北參戰，戰敗被俘後編入敵軍；1950 年代，他參與韓戰，再度被俘；最後以「來歸義士」身分返臺，哭倒在母親懷中。

答案：(C)

24. () 美國曾因為黑奴問題引發「南北戰爭」的內戰，民國 6 年中國也因為何種問題而引發「南北分裂」？(A)參加第一次世界大戰 (B)孫中山號召護法 (C)山東主權喪失日本手中 (D)袁世凱逼迫國會選舉他為正式大總統。

答案：(B)

25. () 附圖為小佑在《漫畫知中國》一書中看到某事件的背景。根據圖中內容判斷，該事件發生的時間應為何？(A)民國元年 (B)民國 3 年 (C)民國 8 年 (D)民國 17 年。



1 日本對德宣戰，派兵入侵山東。



2 袁世凱被迫接受「二十一條要求」的部分條款。



3 巴黎和會允許日本繼承德國在山東的特權。



4 北京大學等校的學生遊行抗議。

答案：(C)

26. () 「身為國務總理的他為了達成擴張自身武力的目的，另立國會，並參加第一次世界大戰。」上文中的國務總理是何人？ (A)袁世凱 (B)段祺瑞 (C)孫中山 (D)張作霖。

答案：(B)

27. () 附圖為清末時，兩人討論時事時的對話。當時政府的態度為何？(A)虛心接受甲、乙的意見 (B)將甲通緝捕捉，虛心接受乙的意見 (C)將甲通緝捕捉，應付乙 (D)接受甲的意見，應付乙。



答案：(C)

28. () 附圖是武昌起事前後的形勢圖。圖中何地發生的保路風潮，形成武昌起事的有利條件？(A)甲 (B)乙 (C)丙 (D)丁。

答案：(D)

29. () 動員戡亂是指在戰爭或緊急狀況時，國家政府動用全部的資源，以支援國防軍事活動，平息叛亂。而抗戰結束後，國民政府是在何時宣布全國動員戡亂？(A)民國 35 年 (B)民國 36 年 (C)民國 37 年 (D)民國 38 年。

答案：(B)

30. () 中華民國歷史上曾經有一個時間點有三個政府，分別是北京、武漢、南京。造成南方有兩個政府的原因為何？(A)孫中山南下建立軍政府 (B)蔣中正發動清黨 (C)蔣中正率軍北伐 (D)張學良歸順國民黨。

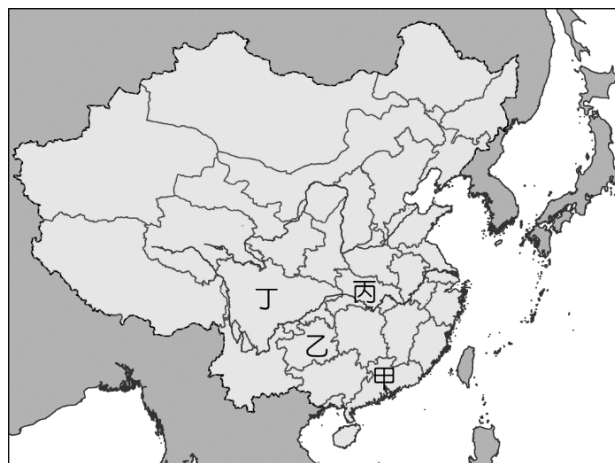
答案：(B)

31. () 民國 8 年受到五四運動影響，中國代表拒絕簽署第一次世界大戰後針對哪一國的和約？(A)日本 (B)法國 (C)義大利 (D)德國。

答案：(D)

32. () 有關中共政權成立以後的發展，下列敘述何者正確？(A)毛澤東時代以階級鬥爭為政治的主要手段 (B)文化大革命的推動主張保存傳統，是文化再造運動 (C)鄧小平時代主張政治開放改革 (D)六四天安門事件的發生，使中共體制瓦解。

答案：(A)



33. () (甲)辛亥革命(乙)袁世凱當選正式大總統(丙)中華民國臨時政府遷至北京(丁)二次革命(戊)袁世凱逼使宣統皇帝退位。上述歷史事件，按照時間先後順序排列，下列何者正確？
 (A)甲乙丙丁戊 (B)甲戊丙丁乙 (C)戊甲丙丁乙 (D)甲戊乙丙丁。

答案：(B)

34. () 袁世凱在 1915 年宣布稱帝前，逐步瓦解共和體制。附表是他在 1913 至 1915 年間的重要行動，若依發生時間先後順序排列，下列何者正確？(A)甲乙丙丁 (B)丁乙甲丙 (C)丙甲乙丁 (D)甲丁丙乙。

項目	內容
甲	脅迫國會選舉自己為正式大總統
乙	營造「請願推行君主立憲」運動
丙	簽署日本「二十一條要求」部分要求
丁	廢止《臨時約法》，並解散國會

答案：(D)

35. () 小翰暑假回基隆老家，跟爺爺聊天時，聽爺爺回憶往事：「那時候是民國 39 年（1950 年）夏天，韓戰突然爆發，國際局勢變得很緊張。美國很快派來第七艦隊在我們基隆港駐守，大家都知道大批美軍即將來到，市政府趕緊下令，像人力車、三輪車、食堂和酒館都要貼上英文價目表，好讓美軍朋友能看得懂。還有十四家餐廳必須在門口掛上木牌，方便他們認店。警察和憲兵還跟美軍組隊，在街頭巡邏，大家都怕出事，希望維持治安。隔年，美軍顧問團也正式來到我們這裡。」當時美軍在臺灣駐防的主要目的為何？
 (A)協助國民政府反攻大陸的行動 (B)預防越戰擴大，保護臺灣安全 (C)支援臺灣經濟建設與國家發展 (D)將臺灣納入亞太圍堵共產體系。

答案：(D)

36. () 冷戰期間，中華人民共和國成立後和蘇聯關係密切，但後續中蘇的外交關係開始出現裂痕，甚至對峙衝突，一度到達核戰爭邊緣。當時中蘇雙方關係生變的原因可能為下列何者？
 (A)蘇聯企圖入侵東北，將其納入國家領土 (B)兩國因為貿易進出口的問題發生衝突 (C)中共認為蘇聯干預內政，欲擺脫其控制 (D)中共外交刻意靠攏美國，引發蘇聯不滿。

答案：(C)

37. () 日本對中國提出的「二十一條」要求中，第四、五大項沒簽訂，第三項要求則被刪除一條，至於中國被迫答應的要求，袁世凱這麼說：「購地租地，我叫他一寸地都買不到手；雜居，我叫他一走出附屬地，就遇到生命危險；至於警察顧問用日本人，我用雖用他，每月給他幾個錢罷了，至於顧不顧、問不問，決定權卻在我身上。其他各條，我皆有破壞之法。」而且袁世凱還在「二十一條」要求簽訂後，深刻體會國力不足只能被霸凌的屈辱，於是下令：「將 5 月 9 日列為國恥紀念日！」根據文章內容，你認為我們應該如何重新看待袁世凱簽訂的「二十一條」要求？(A)袁世凱是賣國賊，為了一己之私而出賣中國利益(B)袁世凱已盡量將「二十一條」要求的傷害性降到了最低(C)日本在與袁世凱簽訂「二十一條」要求後便成為在中國廣東的最大既得利益者(D)5 月 9 日為國恥紀念日的訂定是反對袁世凱者對袁世凱的嘲諷

答案：B

38. () 袁世凱在清末民初之際，堪稱是中國政治舞臺上一顆最耀眼的新星。對於袁世凱的相關史實，下列何者正確？(A)擔任中華民國第一任臨時大總統(B)逼迫同治皇帝退位(C)曾極力鎮壓辛亥革命(D)將臨時政府遷至北京

答案：D

39. () 《青年雜誌》自西元 1915 年 9 月 15 日在上海創立，由群益書社發行，屬綜合性的文化月刊，後改名為《新青年》，自西元 1918 年 1 月第 4 卷第一號起實行改版，改為白話文使用新式標點，對現代文學影響深遠，也帶動其他刊物提倡白話文運動。根據上述可知《新青年》為民國初年推行白話文學的重要媒材，下列何人的作品較不可能會出現在此刊物中？(A)胡適(B)魯迅(C)陳獨秀(D)康有為

答案：D

40. ()北京清華大學教授何兆武出生於民國 10 年，他回憶幼時的求學經歷：「我上學的那一輩同學，除了極少數有家學淵源的以外，絕大多數人的古文根底都不行，因為從小就不讀那些東西了。《論語》、《孟子》都是到了大學才開始看……我們這一輩受到的教育承接的是西方的傳統，而不是中國傳統。」請問：有關於何兆武的求學經驗何者正確？(A)何兆武幼時求學時的課程內容應以《論語》、《孟子》為課本(B)何兆武求學時應有許多學生運動爆發(C)何兆武求學時時常聽到「反清復明」的標語(D)何兆武求學時由於政府下令禁止，故無法接觸到共產黨的思想

答案：B

41. ()在這個時期，中國的知識分子認為女性不應該被「賢妻良母」這種傳統社會觀念所束縛，女性不只是某人的女兒、老婆或母親，更擁有自己獨立的人格，不論結婚與否都是個人的自由，在這樣思考基礎上更進一步產生了女子不婚主義的討論。請問：下列哪一事件與此時期提倡的觀念最有關係？(A)辛亥革命(B)護法運動(C)新文化運動(D)白話文運動

答案：C

42. ()西元 1926 年，掌握廣西省軍政大權的李宗仁決定加入中國國民黨的北伐行動，國民黨為表達善意，曾提供一批外國製的武器作為裝備，李宗仁雖然嫌棄這批裝備頗為陳舊，但依舊為當時的廣西部隊提供火力上的加持。請問：按照中國國民黨建立軍隊的歷史背景，他們的武器裝備應該是來自哪一國提供？(A)美國(B)英國(C)法國(D)蘇聯

答案：D

43. ()孫中山在《建國大綱》提出，國家建設的歷程依序應該是軍政、訓政、憲政三階段。請問：下列哪一件史事反映了中國已開始進入訓政體制？(A)制定《臨時約法》(B)頒布《中華民國憲法》(C)制定《戒嚴令》(D)頒布《中華民國訓政時期約法》

答案：D

44. ()有學者認為：「這十年對中國來說相當的寶貴，在這段時間裡，中國完成了許多重要建設，如果沒有這『黃金十年』，絕對不可能有日後的八年對日作戰。」請問：上文所說的「黃金十年」是指以下哪一個階段？(A)北伐完成至中日戰爭開始(B)國民政府建立至頒布《中華民國憲法》(C)五四運動至國民政府成立(D)北伐開始至北伐完成

答案：A

45. ()中國共產黨成立於五四運動之後，在中日八年戰爭期間逐步壯大，最後終於建國，共產黨史亦可算作是半部中國近代史。請問：以下有關中國共產黨的敘述，何者錯誤？(A)剿共使得「聯俄容共」破局(B)西安事變後，政府承諾「停止剿共，一致抗日」(C)共產黨曾在江西建立政府和軍隊(D)對日作戰開啟了國共的第二次合作

答案：A

46. ()在杜魯門總統支持下，馬歇爾下令自西元 1946 年 7 月 29 日～西元 1947 年 5 月 26 日，美國政府對國民政府實行武器禁運。請問：武器禁運的主要原因為下列何者？(A)因國民政府貪汙腐敗而加以懲罰(B)美國在日本投下原子彈，要求等待日本投降(C)對頒布動員戡亂臨時條款，凍結憲政的抗議(D)為穩定中國局勢，阻止戰爭擴大

答案：D

47. ()國民政府在中日八年抗戰結束後，面臨共產勢力壯大的威脅，為了因應特殊戰爭局勢的出現，於是在民國 37 年頒布哪一法令，企圖挽回頹勢？(A)《中華民國臨時約法》(B)《動員戡亂時期臨時條款》(C)《中華民國憲法》(D)《戒嚴令》

答案：B

48. ()中共在國共內戰期間，其勢力的發展與土地的控制具有相對應的關係，關於中共勢力發展的方向，下列何者符合實際狀況？(A)由西至東(B)由北至南(C)由東至西(D)由南至北


答案：B

49. ()中共官員周恩來在某個大會報告：「中國人民熱愛和平，但是為了保衛和平，從不也永不害怕反抗侵略戰爭。中國人民決不能容忍外國的侵略，也不能聽任帝國主義者對自己的鄰人肆行侵略而置之不理。」過了一個月，周恩來又跟印度駐華大使提到：「美國軍隊正企圖越過 38 度線，擴大戰爭。美國軍隊果真如此做的話，我們不能坐視不顧，

我們要管。」請問：周恩來是針對哪一個歷史事件說出這兩段話？(A)第二次世界大戰 (B)國共內戰(C)越戰 (D)韓戰

答案：D

50. ()附圖為一九七〇年代美國在某地執行的「常風行動」，原因是盟國即將覆滅，美軍因此出動多輛直升機搶救仍處於盟國境內的僑民和相關有力人士。根據常風行動的目的來研判，這張照片發生的地點應該是在哪裡？(A)韓國(B)越南(C)臺灣(D)香港



答案：B

51. ()第二次世界大戰結束後不久，在美國的主導下，「東南亞公約組織」於西元 1954 年正式成立，亦稱為「東約組織」。請問：美國當年成立東約組織的目的為何？(A)促進東南亞的經濟合作(B)希望促成東南亞國家的統一(C)希望東南亞國家可以有文化上的交流 (D)希望聯合東南亞國家對抗共產勢力

答案：D

52. ()有個故事：「趙英男 20 歲時被下放到西北的萬羊公社去勞動改造，這時正值□時期，公社裡本來只有 650 隻羊，受到號召，以一個月內增加 6,500 隻羊作為增羊報國的目標。不料方法失當，羊群跑光光，一隻也沒有，逼得公社領導人造假……。」上述的□是發生在下列哪一個時期？(A)中日戰爭(B)國共內戰(C)大躍進運動(D)文化大革命

答案：C

53. ()下列是一篇有關中國權益問題的宣言，這篇宣言最有可能出現在什麼時候？(A)西元 1895 年(B)西元 1900 年(C)西元 1919 年(D)西元 1937 年

答案：C

54. ()東南亞國家協會於西元 1967 年在泰國曼谷成立。下列關於東協的敘述，何者正確？(A)中華民國目前為東協的會員國(B)我國以「臺澎金馬個別關稅領域」加入東協(C)組織的主要目標為政治獨立(D)截至西元 2025 年，共有 11 個會員國

答案：D

55. ()附圖是一篇民國初年的政府公文，關於這篇公文的背景，下列敘述何者正確？(A)發生在第一次世界大戰期間(B)段祺瑞為順利當上皇帝，拉攏日本勢力(C)中國最終全盤接受日本的要求(D)本次中日交涉直接影響到國民黨二次革命

本大總統前特派全權委員與日本全權委員，在北京議訂關於山東省之條約、及關於南滿洲及東部內蒙古之條約……。

答案：A

56. ()有一位歷史學家分析說，二次大戰結束後，中國很快又陷入內戰，起初國民黨占據優勢，但不久後中共的勢力範圍卻逐漸擴張，直至最後統治整個中國，造成此種情勢逆轉的原因可能為何？(A)官員貪汙腐敗，引發民怨(B)中共聯合日本，獲得軍援(C)美國軍援中共，改變戰況(D)美國出賣國民黨，出兵威脅

答案：A

57. ()「像無數激進的中國知識分子一樣，陳獨秀也是中國革命悲劇中的一個角色，而不是悲劇的導演。」關於陳獨秀對中國近代史的影響，下列敘述何者錯誤？(A)引領新文化

嗚呼國民！我最親最愛最敬佩最有血性之同胞！我等含冤受辱，忍痛被垢，於日本人之密約危險，以及朝夕祈禱之山東問題，青島歸還問題，今已有由五國公管，降而為中日直接交涉之提議矣。噩耗傳來，黯天無色。

運動的發展(B)鼓吹白話文學的傳播(C)發表第一篇白話文小說《狂人日記》(D)創辦《青年雜誌》(後改名《新青年》)

答案：C

58. ()安安對民國以後擔任總統的人物，以及其歷史定位感到興趣，整理出附表的表格。請問：她有哪一項寫錯了？(A)甲(B)乙(C)丙(D)丁

選項	職務	人名
甲	第一任正式大總統	孫中山
乙	第一任臨時大總統	孫中山
丙	行憲後第一個直接民選的總統	李登輝
丁	行憲後第一次政黨輪替的總統	陳水扁

答案：A

59. ()芊芊看到一首有關「五四運動」的詩歌，內容如下：

一九一九年的五月四日
在北京的青年學生為了
抗議帝國主義對我國的侵略
舉行了聲勢浩大的遊行示威
那青年學生站在天安門前高呼
誓死力爭還我青島
那青年學生站在天安門前吶喊
外爭國權內懲國賊
他們的激情牽動了全國人民的
熱心……

請問：關於上述詩歌內容，下列敘述何者正確？(A)詩歌描繪背景為第一次世界大戰結束後(B)主要訴求在爭取收回法國在山東的特權(C)北京政府在輿論壓力下，拒簽對日和約(D)受五四思潮影響，同盟會改組為國民黨

答案：A

60. ()國民政府於民國 17 年完成北伐後，象徵著中國從過往的軍政時期走向訓政的階段，也代表著告別過往軍閥亂政的現象，開啟建設國家的新局面。下列關於「訓政」時期的敘述，何者正確？(A)「訓政」為孫中山建國理念的最終階段時期(B)訓政時期以《中華民國訓政時期約法》作為法源依據(C)訓政階段初期，國民政府致力於與中國共產黨合作，一齊為國家所努力(D)訓政時期國民政府開放多元政黨參與國家統治的討論，共同規畫國家的未來

答案：B

61. ()民國 37 年制定的某法律部分內容為：「總統在動員戡亂時期，為避免國家或人民遭遇緊急危難，或應付財政經濟上重大變故，得經行政院會議之決議，為緊急處分……動員戡亂時期，總統副總統得連選連任……。」請問：此法律制定的背景為何？(A)宣誓北伐(B)國共內戰(C)國民政府遷臺(D)八年抗戰

答案：B

62. ()在八年抗戰期間，中共「七分發展，兩分應付，一分抗日」，使得戰後的共產黨蓄積了實力，擁有能與國民政府平起平坐的地位。美國為了能讓中國避免內戰，派遣馬歇爾

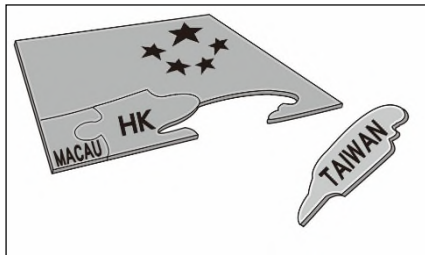
調停，雙方協調組成聯合政府，但下列何事的發生，卻說明了國共之間已無協調的可能？(A)頒布《動員戡亂時期臨時條款》(B)頒布《戒嚴令》(C)頒布《中華民國憲法》(D)頒布《中華民國訓政時期約法》

答案：A

63. () 中國的某位領導人曾提出以下主張：「一、中國五年後鋼產量達到 1,000 萬到 1,500 萬噸，十五年後趕上或者超過英國；二、七年趕上英國，再加八年或者十年趕上美國。」當時中國推動的應該是何項政策？(A)土地改革(B)大躍進運動(C)批鬥知識分子(D)民間企業收歸國有

答案：B

64. () 政治諷刺漫畫有著長久的歷史，以詼諧、通俗易懂的方式來傳達對時事的看法。附圖的漫畫是呈現什麼樣的政治局勢？(A)西元 1976 年文革結束，中國向臺灣發動八二三炮戰(B)中國收回香港、澳門主權後，北京政府對臺灣加大了統一壓力(C)西元 1989 年天安門事件爆發，引發臺灣社會人心惶惶(D)兩岸展開大、小三通後，臺灣加入中國的經濟體制



答案：B

65. () 韓戰是兩個由相同民族所組成的國家，所爆發的軍事衝突。請問：韓戰爆發最重要的歷史因素應該是下列何者？(A)日本入侵致使韓國南北分裂(B)聯合國刻意的分裂韓國政權(C)韓國政權長期以來就是呈現分裂的現象 (D)二次大戰結束造成韓國南北分裂

答案：D

66. () 附圖是美國與中華人民共和國破冰之旅的新聞。這是美國總統歷史上第一次訪問中華人民共和國，其後續有何發展？(A)中共加入聯合國(B)中共與美國建交(C)毛澤東決定實施改革開放(D)中共支援美國介入越戰

答案：B

67. () 西元 2008 年代表共和黨角逐美國總統的已故政治人物馬侃，他的一生相當曲折離奇，他曾在一九七〇年代參加戰爭，遭到敵對陣營俘虜長達五年半的時間。請問：若以時間序來推論，馬侃當時參加的是哪一場戰爭？(A)第二次世界大戰(B)中日戰爭(C)越戰(D)韓戰

答案：C

68. () 「冷戰」是相對應「熱戰」而來，意旨兩陣營互相對峙，但又避免爆發全面衝突的緣故。冷戰期間又以美蘇兩強對抗為主軸。但美蘇不直接對抗，仍然透過「代理人」打了不少「熱戰」，如韓戰和越戰。臺海之間也有「熱戰」爆發過，請問：應該為下列何場戰役？(A)八二三炮戰(B)古寧頭戰役(C)二次革命(D)文化大革命

答案：A

69. () 一九七〇年代，東南亞各國紛紛與中國建立外交關係。這件事突顯出怎麼樣的時代特色？(A)東南亞各國受到中國強大勢力的壓迫(B)東南亞各國不再標榜反共的立場(C)東南亞各國與美國之間存在愈來愈多的衝突(D)東南亞公約組織成功運作下的結果

答案：B

70. () 自民國 18 年美國發生金融風暴以來，經濟的恐慌瀰漫全世界，各國相繼修訂貨幣政策，企圖解決經濟困境。中華民國亦捲入這場國際經濟動盪的漩渦中，財政部於是積極思考改進的方法，一方面因應世界的趨勢，另一方面則配合國內的情況，規畫新貨幣政策，

西元 1972 年 2 月 21 日，美國總統尼克森一行人抵達北京。同日，毛澤東與尼克森談話，當時尼克森聲稱：「毛主席的著作感動了全國，改變了世界」時，毛澤東詼諧的說：「沒有改變世界，只改變了北京附近幾個地方。」

2 月 28 日《中美聯合公報》在上海發表。毛澤東說：「中美關係正常化是一把鑰匙。這個問題解決了，其他問題就迎刃而解了。」

並於民國 24 年 11 月 3 日公布實施。上述的政策應為何項？(A)推動專賣，增加政府財政收入(B)銀銅並用，因應國際匯率變化(C)發行新臺幣，停止與法幣兌換(D)發行法幣，解決幣制混亂情況

答案：D

71. () 民國二年（西元 1913 年）紫禁城辦理隆裕太后的葬禮。中華民國北洋政府將靈堂設置在太和殿內。內懸「女中堯舜」橫匾。同時告全國下半旗致哀三日，穿孝二十七天。臨時大總統袁世凱派高官與清廷官員一同守靈，副總統黎元洪輓聯稱讚隆裕太后「德至功高，女中堯舜」。下列何者最符合上段敘述？(A)表現皇室企圖復辟(B)引起列強干涉內政(C)優待遜清皇室朝廷(D)宣揚新舊政權共存

答案：C

72. () 西元 1947 年，國共內戰紛亂不可開交，為滿足軍事需要，蔣中正提出方案，中華民國進入動員戡亂時期。請問關於此方案的敘述，下列何者正確？(A)動員戡亂時期臨時條款使憲政得以落實(B)此條款不只適用於中國，也影響了臺灣(C)在此條款下，總統的權力仍受憲法約束(D)此條款一直持續到民國 80 年

答案：B

二、題組（每格 2 分，共 28 分）

- (一) 在大戰的年代，惡性通貨膨脹是東亞人民的共同夢魘。

中國的情況更為糟糕。這是因為國家在抗日艱辛獲勝後，又起內戰，民眾一直飽受貨幣急速貶值的折磨，既衝擊日常生計，也成為統治者失能的表徵。

由於連年戰爭，國民政府喪失許多統治區域，稅收銳減。加上軍費大幅增加，貿易和交通受阻，物資短缺，導致物價騰升，也迫使政府不斷增印鈔票，而讓惡性通膨現象如脫韁野馬般難以控制，投機行為叢生。

但據學者估算，在抗戰勝利前後，重慶的平均物價已經超出戰前水準的兩千五百倍之多。接下來三年，又更快的上漲了兩千五百倍。惡性通膨讓升斗小民不僅深感挫折無助，更對國家的信心與信任侵蝕殆盡。請問：

73. () 文章中出現物價飛漲的現象，主要出現在哪一場戰事結束之時？ (A)北伐 (B)盧溝橋事變 (C)珍珠港事件 (D)八年抗戰。
74. () 若生活在文章中所描述的中國，可能會遇到哪些事情？ (A)成為效忠天皇的國民 (B)跟隨政府遷移至重慶 (C)看到國共兩黨一家親 (D)目睹戰火摧殘的家園。

答案：(1)(D)；(2)(D)

- (二) 西元 1937 年 11 月，國民政府宣布遷都□□，以西南各省做為抗戰大後方，並利用中國廣土眾民的條件，制訂長期抗戰方針。請問：

75. () 上文中的□□指哪一個城市？ (A)延安 (B)遵義 (C)西安 (D)重慶。
76. () 從上述記載來看，中國國民政府當時為了對日抗戰，而採取的戰略為何？ (A)以時間換取空間 (B)以空間換取時間 (C)閃電戰 (D)消耗戰。

答案：(1)(D)；(2)(B)

- (三) 孫中山一生致力國民革命，其黨組織歷經多次改組，各有不同的貢獻。請問：

77. () 孫中山於甲午戰爭後成立的第一個革命團體是下列何者？ (A)興中會 (B)保路同志會 (C)國民黨 (D)湖北軍政府。
78. () 民國 2 年，哪一組織發動「二次革命」？ (A)興中會 (B)保路同志會 (C)國民黨 (D)湖北新軍。

答案：(1)(A)；(2)(C)

- (四) 「傾覆滿清專制政府，鞏固中華民國，圖謀民生幸福，此國民之公意……至專制政府既倒，國內無變亂，民國卓立於世界，為列邦公認，斯時文（指孫中山本人）當解臨時大總統之職，謹以此誓於國民。」以上為孫中山擔任臨時大總統的誓詞。請問：

79. () 革命黨人能「傾覆滿清專制政府」，是受到哪一事件的影響？ (A)立憲運動 (B)八國聯軍 (C)甲午戰爭 (D)武昌起事。
80. () 此時中華民國臨時政府所在地，位於哪一城市？ (A)南京 (B)北京 (C)廣州 (D)上海。

答案：(1)(D)；(2)(A)

(五) 民國 17 年，中國進入訓政時期，法源依據為《中華民國訓政時期約法》，其中對五院組織、中央與地方權限、民生經濟與國民教育原則、人民的權利與義務等，均有明確的規定。請問：

81. () 建國程序分為軍政、訓政、憲政時期，主要是依據下列何者？ (A)《六三法》 (B)《憲法》 (C)《臨時約法》 (D)《建國大綱》。
82. () 訓政時期執政的政黨為何？ (A)共產黨 (B)國民黨 (C)興中會 (D)同盟會。

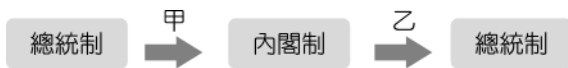
答案：(1)(D)；(2)(B)

(六) 在十年建設期間，中國政府有著內憂與外患，令國家的局勢不穩定。請問：

83. () 其中內憂是指下列何者？ (A)中共 (B)國民黨 (C)軍閥 (D)革命黨。
84. () 最終中國選擇下列何種策略？ (A)先安內後攘外 (B)展開剿共 (C)成立滿洲國 (D)再度聯共。

答案：(1)(A)；(2)(D)

(七) 小慧整理民國初年的政治體制如附圖，請問：



85. () 甲過程的原因為何？ (A)限制袁世凱專權 (B)袁世凱企圖解散國會 (C)袁世凱準備實施君主立憲 (D)袁世凱稱帝。
86. () 乙過程的原因為何？ (A)限制袁世凱專權 (B)袁世凱企圖解散國會 (C)袁世凱廢除《臨時約法》 (D)袁世凱稱帝。

答案：(1)(A)；(2)(C)

(八) 《七十年長征：江渭清回憶錄》的作者對於西元 1961 年發生的「某件事」印象相當深刻，他在回憶錄中留下相關的描寫。請閱讀後回答問題：「這裡耗糧特別大，不分老少、不管活輕活重，都在一個大鍋裡吃，一年吃了兩年糧，全年口糧幾個月就吃光了，浪費大得不得了……而且，以前各家各戶燒飯時，對鍋灶碗盆，十分愛護，現在吃大鍋飯了，鍋灶經常壞，碗筷隨手丟，經常要重新添購鍋碗灶具……」

87. () 上文所記述的是哪一個歷史事件？ (A)人民公社 (B)土法煉鋼 (C)土地改革 (D)民營企業收歸國有
88. () 引文中的事件對中國影響極大，以下何者與這個事件沒有直接關聯？ (A)有數千萬人死於饑荒 (B)中國各地出現了大量的廢鐵 (C)農民生產意願低落 (D)各地出現抗議的學生
89. () 如果回到引文中的年代，我們可能會在大街小巷看到何種標語？ (A)外爭主權，內除國賊 (B)停止內戰，一致抗日 (C)吃飯不花錢，努力搞生產 (D)廢除二十一條

答案：(1)A (2)D (3)C

(九) 以下引文是蔣中正在民國 26 年對某個事件之嚴正聲明，請閱讀完引文回答下列問題：

「……現在衝突地點已到了北平門口的盧溝橋。如果盧溝橋可以受人壓迫強占，那麼我們百年故都，北方政治文化的中心與軍事重鎮的北平，就要變成瀋陽第二！今日的北平，若果變成昔日的瀋陽，今日的冀察，亦將成為昔日的東四省。北平若可變成瀋陽，南京又何嘗不可變成北平！所以盧溝橋事變的推演，是關係中國國家整個的問題，此事能否結束，就是最後關頭的境界。」

90. () 這篇聲明所指涉的應該是下列哪一事件？ (A)遷都重慶 (B)南京大屠殺 (C)七七事變 (D)日軍進攻上海
91. () 該戰爭原本是兩國戰爭，但在下列哪一事件後，成為世界大戰的一環？ (A)南京大屠殺 (B)遷都重慶 (C)珍珠港事變 (D)廣島原爆

答案：(1)C (2)C

(十) 臺中市政府勞工局每年都會舉辦「東協好聲音才藝競賽及友善國際勞工嘉年華活動」，是中部地區移工及新住民朋友的年度盛事。西元 2020 年活動於 9 月 27 日在臺中公園舉辦，副市長出席共襄盛舉，盼用多國美食及表演，帶領市民及移工感受多元文化之美。請回答下列問題：

92. () 下列哪一個國家不屬於東協 11 個會員國之一？ (A)泰國 (B)越南 (C)緬甸 (D)澳洲
93. () 臺灣現今對外經貿關係嚴重向中國傾斜，西元 2022 年我國第一大出口市場為中國，占

整體比重 38.8%，第二大出口市場為東南亞國協，占整體比重 16.8%。故中華民國政府鼓勵哪一項政策，強化臺灣與東南亞國家經濟、人才的交流？ (A)南進政策 (B)親美政策 (C)西進政策 (D)新南向政策

94. ()東協的秘書處設立在下列哪一個國家境內？ (A)泰國 (B)印尼 (C)柬埔寨 (D)馬來西亞

答案：(1)D (2)D (3)B

(十一) 引文是蔣中正的〈革命軍的責任是安內與攘外〉，請閱讀引文後回答以下問題：

現在我們國家正是內憂外患相逼之時，一方面國內有狂暴的土匪，天天拼命的殺人放火；一方面國外有日本帝國主義，天天向我們猛烈的侵略……

95. ()文中所說的「狂暴的土匪」指的是中國當時面臨的哪一個問題？ (A)割據中國的軍閥 (B)四處逃竄的流寇 (C)列強扶植的政權 (D)擴張勢力的共產黨

96. ()文中提到，中國除了內憂之外，還面臨到日本的侵略——九一八事變。請問：九一八事變中，日本人企圖取得中國哪一處的領土？ (A)山東 (B)東北 (C)南京 (D)福建

97. ()這篇引文發表於西元 1933 年，在當年的報紙上，我們不可能看到以下哪一則新聞？ (A)中華民國政府經交涉後取回關稅自主權 (B)政府圍剿共軍再次取得成果 (C)張學良發動西安事變挾持蔣中正 (D)政府發行法幣

答案：(1)D (2)B (3)C

(十二) 請閱讀下列資料並回答問題。

……大多數之人民智識不甚高尚……由專制一變而為共和，此誠太驟之舉動，難望有良好結果……總統繼承問題，尚未解決……他日或因此種問題釀成禍亂，如一時不即撲滅，或馴至敗壞中國之獨立……中國如用君主制，較共和制為宜，此殆無可疑者也。

98. () (1)文中發生的時代背景應該與何者有關？ (A)辛亥革命 (B)軍閥割據 (C)南下護法 (D)洪憲帝制

99. () (2)該則資料發生的前後，國體的演變應為下列何者？ (A)共和制→君主制→共和制 (B)君主制→君主制→共和制 (C)共和制→君主制→君主制 (D)君主制→共和制→君主制

100. () (3)在資料之後的政治氛圍，應該為下列何者？ (A)五九國恥 (B)軍閥統治 (C)一戰爆發 (D)二次革命

答案：(1)D (2)A (3)B