

[滿分 100 分]

一、單題 (每題 1 分, 共 72 分)

1. ( ) 歐洲三面環海, 海岸線相當長。其中哪一個海域沿岸地區受到西風吹拂的影響最為明顯, 因此帶來大量的降水分布?  
(A) 波羅的海 (B) 黑海 (C) 地中海 (D) 大西洋。

答案：(D)

解析：歐洲西部為大西洋, 因此西風所帶來的水氣多來自於大西洋。

2. ( ) 南美洲大部分地區位於南、北回歸線之間。請問：下列何種特色和上述條件的關係最大?  
(A) 地勢高聳 (B) 資源豐富 (C) 時區眾多 (D) 氣候炎熱。

答案：(D)

解析：緯度位置和氣溫高低的關係最為直接。

3. ( ) 東歐的捷克為工業大國, 由於共產時期累積下來的工業基礎雄厚, 今日吸引許多企業到該國投資生產, 以便產品能就近行銷歐洲市場。請問：若根據上文敘述判斷, 這些工業產品的運輸路線多朝哪一方向運至市場銷售?  
(A) 東方 (B) 西方 (C) 南方 (D) 北方。

答案：(B)

解析：歐洲主要消費市場在西歐國家, 因此產品在捷克生產後多向西運至法、德、英等國家。

4. ( ) 拉丁美洲和加勒比國家共同體 (CELAC) 為一國際組織, 附圖為該組織的標誌, 可以看出成員國是由除了北美洲的加拿大和美國以外的所有美洲國家所組成, 目前該組織的哪一官方語言的比例最高?



- (A) 英語 (B) 法語 (C) 西班牙語 (D) 葡萄牙語。

答案：(C)

解析：中南美洲除了巴西使用葡萄牙語, 其餘大多數國家使用西班牙語。

5. ( ) 紐西蘭除了地形景觀豐富外, 還因受到下列何者的影響, 境內自然景觀少受破壞, 吸引了大量觀光客?  
(A) 面積狹小 (B) 牧業發達 (C) 地震頻繁 (D) 人口稀少。

答案：(D)

解析：當地因為人口密度低, 自然景觀較少受到人為破壞。

6. ( ) 歐洲哪一個地區位於德國與俄羅斯之間, 因此在第二次世界大戰時, 遭受了戰火的波及?  
(A) 西歐 (B) 東歐 (C) 南歐 (D) 北歐。

答案：(B)

解析：東歐西側為西歐國家, 而東側為俄羅斯。

7. ( ) 新聞報導：「近日由於受到大西洋東部的暴風雨影響, 某地區海上石油的開採量大為減少, 影響國際原油價格。」根據報導, 下列哪一產油區的石油產量減少?

- (A) 波斯灣杜拜原油 (B) 中國新疆原油 (C) 北海布蘭特原油 (D) 美國阿拉斯加原油。

答案：(C)

解析：大西洋東部為西歐沿海, 石油開採主要在北海。

8. ( ) 南歐與西歐之間以阿爾卑斯山為主要分界線, 然而此山脈並未造成兩地間交通的阻隔, 最主要的因素為下列何者?  
(A) 氣候溫暖, 終年無雪 (B) 河運發達, 水流平緩 (C) 冰蝕峽谷, 山谷寬廣 (D) 斷層陷落, 地勢低平。

答案：(C)

解析：阿爾卑斯山的冰蝕谷地有利於南北間的交通往來。

9. ( ) 俄羅斯境內各地區的自然環境差異甚大。請問：這和下列哪一個因素的關係最為密切?  
(A) 國土橫跨的經緯度大 (B) 地勢高低起伏 (C) 族群宗教多元 (D) 海洋深入內陸。

答案：(A)

解析：國土橫跨的經緯度大, 疆域相當廣闊, 因此各地區的自然環境差異大。

10. ( ) 澳洲因與亞洲國家比鄰而居, 故發起哪一個經濟組織, 加強與環太平洋的經貿關係?  
(A) EU (B) APEC (C) ASEAN (D) WTO。

答案：(B)

解析：澳洲發起 APEC, 加強與環太平洋的經貿關係。

11. ( ) 北美大平原北部湖泊遍布, 提供當地水力發電及航運交通。該區地形的成因主要為下列何者?  
(A) 火山作用 (B) 冰河作用 (C) 溶蝕作用 (D) 風蝕作用。

答案：(B)

解析：北美大平原北部受冰河侵蝕, 多冰蝕湖, 地表崎嶇。

12. ( ) 臺灣探險隊在歷經千辛萬苦抵達南極點後, 欲在南極點上面向臺灣, 向國人證明他們做到了。此時應該朝哪一個方向前進才會找到臺灣?

- (A) 東北方 (B) 正北方 (C) 西北方 (D) 正南方。

答案：(B)

解析：南極點為地圖中的正南方, 因此其他地區皆位於南極點的正北方。

13. ( ) 俄羅斯是世界面積最大的國家, 國土跨越 11 個時區, 依據地理位置判斷, 下列哪個地形區的民眾較快見到 2023 年的第一道曙光?

(A)歐俄平原 (B)西伯利亞高原 (C)西伯利亞山地 (D)西伯利亞平原。

答案：(C)

解析：西伯利亞山地位置最東，時間也最快。

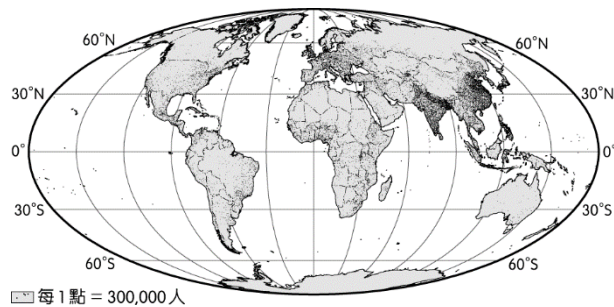
14. ( ) 中南美洲的氣候類型呈現多樣化。請問：造成該地區氣候多樣化的主要因素為下列哪兩項？

(A)地形、面積 (B)地形、西風 (C)緯度、地形 (D)經度、地形。

答案：(C)

解析：中南美洲受到地形起伏及緯度位置的影響，有熱帶、溫帶及高地氣候等分布。

15. ( ) 附圖為世界人口分布圖，歐洲為全世界人口分布最為平均的地區。請問：這種特色和下列何者的關係最大？

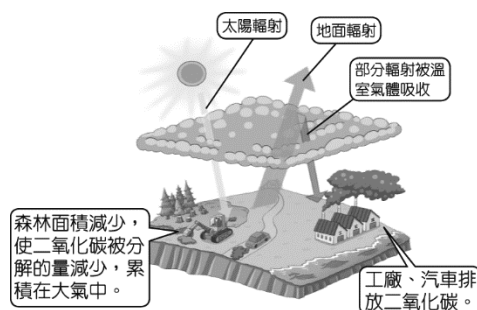


(A)經濟較為發達 (B)工業革命發源地 (C)自然環境優越 (D)海外殖民地多。

答案：(C)

解析：歐洲多平原分布，再加上氣候溫和溼潤，因此人口分布平均。

16. ( ) 隨著全球人口數增加及經濟快速發展，人類對地球資源的耗用以及對自然環境的破壞日益嚴重，環境保育已成為當前最迫切的全球議題。根據附圖的內容推測，最有可能是全球何種環境議題的示意圖？

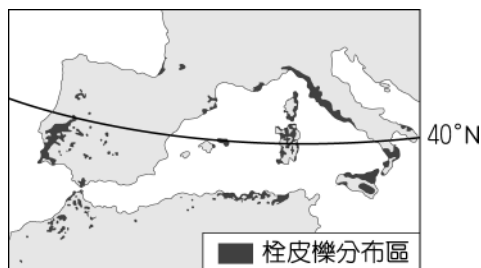


(A)全球暖化 (B)水土流失 (C)板塊擠壓 (D)生態系統失衡。

答案：(A)

解析：溫室氣體如果過量，會造成地表平均溫度上升，加速全球暖化。

17. ( ) 封裝酒瓶的軟木塞是由栓皮櫟的樹皮製成。根據附圖栓皮櫟的分布區判斷，其生長環境的氣候特色，主要為下列何者？〔108.會考〕




(A)全年有雨，無明顯乾季 (B)乾燥少雨，年降水量 250 mm 以下 (C)夏雨冬乾，年降水量 1000 mm 以上 (D)冬雨夏乾，年降水量 400 至 800 mm。

答案：(D)

解析：圖中栓皮櫟樹分布區為環地中海區，為溫帶地中海型氣候，冬雨夏乾，年降水量 400 至 800 mm。

(A)溫帶海洋性氣候 (B)溫帶沙漠氣候 (C)溫帶大陸性氣候。

18. ( ) 附圖為莫斯科的權力中心——克里姆林宮照片。請問：該都市為下列哪一個國家的首都？



(A)波蘭 (B)捷克 (C)俄羅斯 (D)德國。

答案：(C)

解析：克里姆林宮位於俄羅斯。

19. ( ) 今日中南美洲的族群為當地原住民與外來族群融合而成。請問：形成現在中南美洲文化的主要族群不包括下列何者？

(A)印第安人 (B)英國人 (C)非洲人 (D)西班牙人。

答案：(B)

解析：英國主要影響的地區為北美洲。

20. ( ) 緯度位置會影響一地的氣候特色。請問：下列哪兩種氣候類型和位於南、北回歸線之間的關係最為密切？  
 (A)熱帶雨林氣候、高地氣候 (B)熱帶雨林氣候、溫帶沙漠氣候 (C)熱帶莽原氣候、溫帶地中海型氣候 (D)熱帶雨林氣候、熱帶莽原氣候。

答案：(D)

解析：以赤道為中心，依序分別為熱帶雨林氣候及熱帶莽原氣候。

21. ( ) 下列哪一地區是個浮潛跟潛水的聖地，它就像是個上帝的水族箱，因為環境海洋做得非常好，所以其實水非常透澈，從船上看下去就能看到各種不同的珊瑚跟水母群？  
 (A)帛琉 (B)南島 (C)北島 (D)夏威夷群島。

答案：(A)

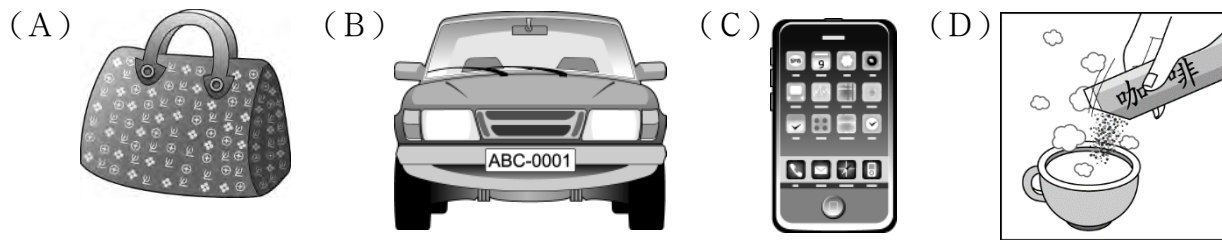
解析：(A)帛琉是浮潛跟潛水的聖地，因為海洋保育做得非常好，水非常透澈，從船上看下去就能看到各種不同的珊瑚跟水母群。

22. ( ) 位於西伯利亞地區的河川，冬季多結冰，不利於水運。請問：在夏季融雪時，這些河川多流入哪一個海域？  
 (A)太平洋 (B)大西洋 (C)北極海 (D)印度洋。

答案：(C)

解析：當地地勢南高北低，河川多向北流入北極海。

23. ( ) 美國某公司看中歐盟市場發展的潛力，預計到波蘭去設廠，相關產品以銷售歐洲國家為主。請問：若根據其投資設廠位置判斷，則其生產的主要商品應該為下列何者？



答案：(B)

解析：東歐國家主要以工資低廉為其優勢，再加上波蘭盛產煤礦，工業發展條件佳，因此以汽車工業最為適合。

24. ( ) 附圖為某國以該國著名的景觀為主題所發行的郵票。這些郵票最可能是由下列何國所發行？〔108.會考〕



- (A)法國 (B)瑞士 (C)德國 (D)西班牙。

答案：(C)

解析：左圖中島嶼瀕波羅的海，右圖的城堡鄰近奧地利，在德國南部。(A)瀕大西洋和地中海(B)在阿爾卑斯山區(D)西班牙瀕地中海。

25. ( ) USMCA 為美洲主要的經貿組織，其成員國與其他美洲國家的界線為附圖中的哪一條線？



- (A)甲 (B)乙 (C)丙 (D)丁。

答案：(B)

解析：USMCA 包括了美國、加拿大、墨西哥。

26. ( ) 美、中兩國之間近年來的貿易衝突不斷，對於全世界的經濟活動造成重大影響。美國前總統川普提倡製造業由中國遷移至美國境內生產，引起相關業者的討論。若以該國的生產區位條件而言，其有利的因素未包括下列何者？  
 (A)礦產豐富 (B)資金充足 (C)勞工便宜 (D)技術進步。

答案：(C)

解析：美國勞工的生產技術進步，然而其工資較高，因此容易因為成本考量而遷移至他國生產。

27. ( ) 莫斯科為俄羅斯的首都，也是早期共產國家的權力中心。請問：該都市位於下列哪一個地形區中？  
 (A)歐俄平原 (B)西部西伯利亞平原 (C)中部西伯利亞高原 (D)東部西伯利亞山地。

答案：(A)

解析：歐俄平原為俄羅斯的精華區，主要都市皆位於此。

28. ( ) 位於南美洲的沙漠是世界上最乾燥的地區之一，終年降水量極少，位於太平洋沿岸沙漠地區的居民多利用清晨時的霧氣來收集露水，以供生活所需。若由上述資料判斷，該沙漠最可能位於哪一國境內？  
 (A)巴西 (B)墨西哥 (C)智利 (D)阿根廷。

答案：(C)

**解析**：由上文中「位於太平洋沿岸沙漠地區」可知為位於智利北部的沙漠。

29. ( ) 曉名利用今年的假期到大洋洲的島群旅遊，回來之後告訴大家當地的環境特色。請問：下列敘述中，何者不正確？  
(A)面積不大，大部分地區只要開半天的車就可以繞島一周了 (B)四季分明，因此任何季節去都可欣賞不同的景象  
(C)氣候炎熱，攜帶輕薄的衣物即可 (D)四面環海，分布於世界最大的海洋上。

**答案**：(B)

**解析**：大洋洲島群位於熱帶地區，四季皆夏。

30. ( ) 2011年該國的經濟狀況陷入困境，政府債臺高築因此大砍社會福利，導致各地示威抗議不斷，讓這個西方文明的發源地動盪不安，連帶著影響觀光業的發展。請問：上文中所提到的國家位於附圖中何處？



- (A)甲 (B)乙 (C)丙 (D)丁。

**答案**：(D)

**解析**：西方文明的發源地為希臘，在21世紀初的歐債風暴中，造成經濟及社會的動盪不安。

31. ( ) 大洋洲的地理位置正好處於哪兩大洲之間，因此戰略地位重要？  
(A)亞洲、歐洲 (B)亞洲、非洲 (C)歐洲、美洲 (D)美洲、亞洲。

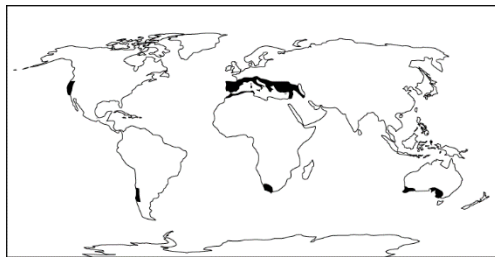
**答案**：(D)

32. ( ) 中南美洲位於板塊接觸帶上，受到地理位置的影響，當地容易出現下列何種地形景觀？  
(A)石灰岩地形 (B)火山地形 (C)冰河地形 (D)沙漠地形。

**答案**：(B)

**解析**：板塊接觸帶容易出現地震及火山活動。

33. ( ) 大衛要從各地進口某項農產品，其主要的生產地區如附圖所示，請問：大衛進口的最可能為下列哪一農產品？

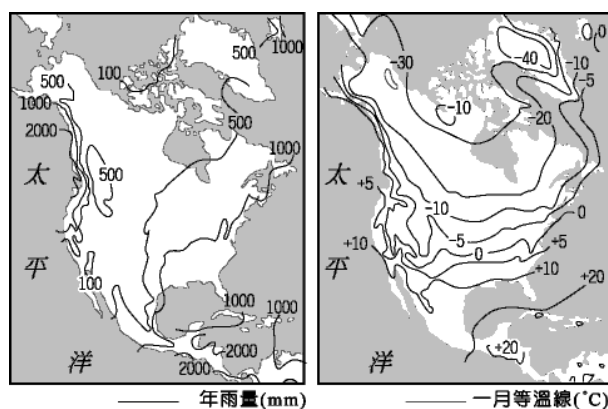


- (A)小麥 (B)咖啡 (C)葡萄 (D)棉花。

**答案**：(C)

**解析**：圖中分布地區為溫帶地中海型氣候，因此其主要作物為葡萄。

34. ( ) 附圖為北美地區的氣候資料。依據圖上的等值線判斷，哪一個地區較為溫暖乾燥？〔95.第一次基測〕



- (A)加拿大北部 (B)美國西南岸 (C)美國東北岸 (D)中美地峽及沿海島嶼。

**答案**：(B)

**解析**：美國西南岸為溫帶地中海型氣候。

35. ( ) 北美洲的工業發展甚快，除了有豐富的天然資源外，和其優越的海陸位置也有關係。請問：北美洲所濱臨的海洋不包括下列何者？

- (A)北極海 (B)大西洋 (C)印度洋 (D)太平洋。

**答案**：(C)

**解析**：印度洋為亞洲及非洲所包圍。

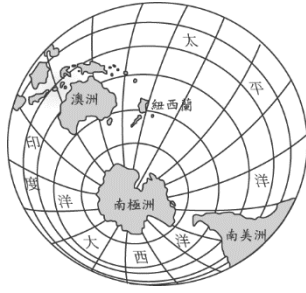
36. ( ) 2008年諾貝爾經濟學獎得主克魯曼教授前往美國金融重鎮訪問，希望找出經濟衰退的主因。請問：他前往的都市最可能為下列何者？

- (A)洛杉磯 (B)舊金山 (C)紐約 (D)休士頓。

**答案**：(C)

**解析**：美國金融業重心在紐約的華爾街。

37. ( ) 地球由世界上各大洲及海洋所形成，附圖為南極大陸和周圍地區的位置分布圖，下列有關圖中的位置敘述，何者不正確？



(A) 澳洲位於南半球 (B) 紐西蘭屬於大洋洲 (C) 大西洋位於南極點南方 (D) 紐西蘭緯度較澳洲高。

答案：(C)

解析：位於南極點北方。

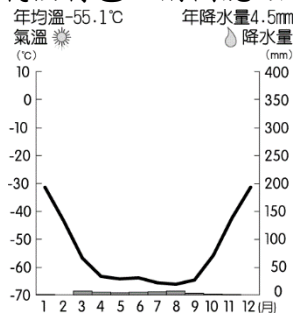
38. ( ) 蒙特婁為加拿大的工商業中心，顯示該國重要的聚落主要分布於哪一條河川沿岸地區？

(A) 科羅拉多河 (B) 密西西比河 (C) 格蘭河 (D) 聖羅倫斯河。

答案：(D)

解析：加拿大東部的重要都市都位於聖羅倫斯河兩岸，有利於水運交通往來。

39. ( ) 地球上隨著各地區的地理條件差異，形成不同的氣候特色。附圖應該為下列何種氣候類型的特色？



(A) 高地氣候 (B) 寒帶氣候 (C) 溫帶海洋性氣候 (D) 溫帶大陸性氣候。

答案：(B)

解析：由圖中資料顯示為南極大陸的氣候類型。

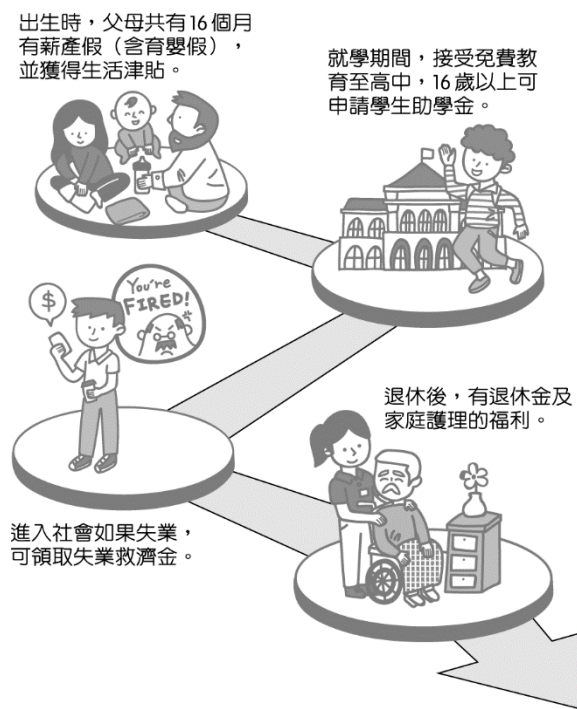
40. ( ) 北美洲以何種語言為主要語言，故稱為盎格魯美洲？

(A) 法語 (B) 德語 (C) 英語 (D) 西班牙語。

答案：(C)

解析：北美洲以英語為主要語言，故稱為盎格魯美洲。

41. ( ) 附圖是某個國家的社會福利制度圖，此國最可能位在哪一地區？



(A) 東歐 (B) 西歐 (C) 南歐 (D) 北歐。

答案：(D)

解析：由社會福利制度佳，判斷是北歐。

42. ( ) 澳洲因為有下列哪一條經緯線經過，受到高氣壓籠罩的影響，形成乾燥的沙漠氣候？

(A) 北回歸線 (B) 南回歸線 (C) 赤道 (D) 本初經線。

答案：(B)

解析：澳洲有南回歸線經過，因此境內形成沙漠氣候區的分布。

43. ( ) 歐洲受到地理位置的影響，其氣候類型主要以下列何者為主？

(A) 熱帶氣候 (B) 溫帶氣候 (C) 副熱帶氣候 (D) 寒帶氣候。

答案：(B)

解析：歐洲大多位於中緯度，以溫帶氣候為主。

44. ( ) 每年2月巴西會舉行為期數天的「狂歡節」，眾人跳著節奏強烈的森巴舞，民眾也開心的手舞足蹈，慶典華麗、熱鬧，常吸引各地的觀光客。在這場熱鬧的嘉年華會中最不可能融合哪一民族的特色？  
 (A)因紐特人 (B)印第安人 (C)非洲黑人 (D)葡萄牙人。

答案：(A)

解析：森巴舞的出現與因紐特人無關。

45. ( )

酒為人類飲用歷史非常悠久的加工飲品，由植物發酵製成，附表為不同酒類的原料與著名產地。酒除了作為飲品之外也有醫療、衛生等用途，就像現在把酒精作為簡易殺菌使用一樣，在中世紀歐洲，高酒精濃度的伏特加或白蘭地，即成為防範鼠疫蔓延的消毒藥，或戰場上傷病軍人的治療用藥。因此，酒對文明的發展有其貢獻，對於某些國家甚至有舉足輕重的影響力。

| 酒名  | 原料 | 著名產地 |
|-----|----|------|
| 清酒  | 米  | 日本   |
| 香檳  | 葡萄 | 法國   |
| 伏特加 | 穀類 | 俄羅斯  |
| 蘭姆酒 | 甘蔗 | 古巴   |

酒雖作為全球重要的飲品之一，但在某些地區，因為宗教或政治等因素是禁止製酒、賣酒或是飲酒的，例如穆斯林禁止飲酒，因此在伊斯蘭世界多以法律明文禁止買賣酒類。在臺灣，現行法律則規定須取得製造許可才可以製酒，民眾私釀酒僅限自用，每戶以100公升為限；且酒的販賣或轉讓不得以自動販賣機、郵購、電子購物或其他無法辨識購買或受讓者年齡等方式為之。

根據酒類的原料來源判斷，蘭姆酒的產地最可能集中在下列何處？〔109.會考〕

- (A)北美五大湖區 (B)加勒比海地區 (C)環地中海地區 (D)環波羅的海地區。

答案：(B)

解析：題幹所示，蘭姆酒的原料是甘蔗，產地在古巴，古巴在加勒比海地區，故選(B)。

46. ( ) 國內近年來吹起了一股時尚風潮，許多精品在臺灣的銷售情況甚佳。請問：國人喜愛的路易·威登(LV)是哪一國的知名品牌？

- (A)義大利 (B)法國 (C)美國 (D)英國。

答案：(B)

解析：法國的時尚產業相當發達，知名品牌如香奈兒、路易·威登等皆出自該國。

47. ( ) 小華想要走訪知名電視劇拍攝場景，位於美國東南部沿海地區的邁阿密，他想避開受信風影響，溫暖潮溼的6~9月，因此將行程排定於較涼爽的3~5月。上述電視劇場景最可能屬於哪一種氣候類型？

- (A)溫帶地中海型氣候 (B)夏雨型暖溫帶氣候 (C)溫帶大陸性氣候 (D)溫帶海洋性氣候。

答案：(B)

解析：由美國東南部沿海地區、夏季受信風影響而溫暖潮溼可知，應為夏雨型暖溫帶氣候。

48. ( ) 「……目前阿爾卑斯山在海拔高度1,200公尺的地方就有滑雪場，受到全球暖化的影響，再過數十年，想滑雪的人就得爬到1,500公尺以上的地方……。」阿爾卑斯山位於哪一洲？

- (A)歐洲 (B)亞洲 (C)北美洲 (D)中南美洲。

答案：(A)

解析：阿爾卑斯山位於歐洲，為主要的地形脊梁。

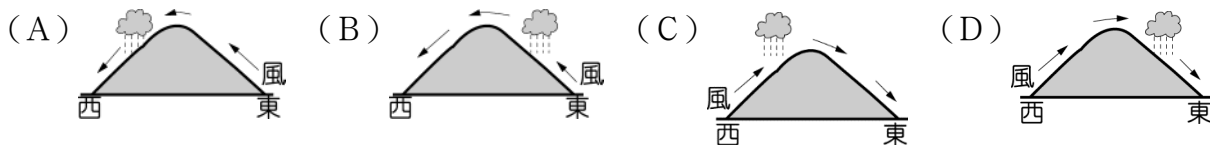
49. ( ) 東歐國家過去受蘇聯控制，採計畫經濟體制，此種經濟政策被稱為「不平衡的工業發展」。這種「不平衡」是用來形容下列哪種現象？

- (A)輕重工業的比例 (B)貧富差距的加大 (C)工業區位的集中 (D)區域發展的不均。

答案：(A)

解析：東歐國家先前實施的計畫經濟，重視軍事、國防等重工業，較忽略民生的輕工業。

50. ( ) 澳洲面積廣大，各地的降水特色各有不同。請問：東南沿海在1月時的主要降水情況最接近下列何者？



答案：(B)

解析：澳洲的東南沿海盛行東南信風。

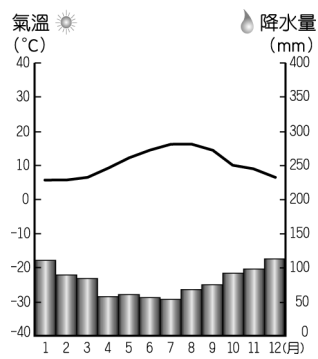
51. ( ) 智利北部的阿塔卡馬沙漠，曾創下連續173個月未降水紀錄。但在2016年卻因受到全球氣候異常影響，鄰近的海域水氣大增，而在當地降下大雨，雨後竟然出現一片粉紅花海。請問：上文中的海域應該為下列何者？

- (A)太平洋 (B)大西洋 (C)加勒比海 (D)墨西哥灣。

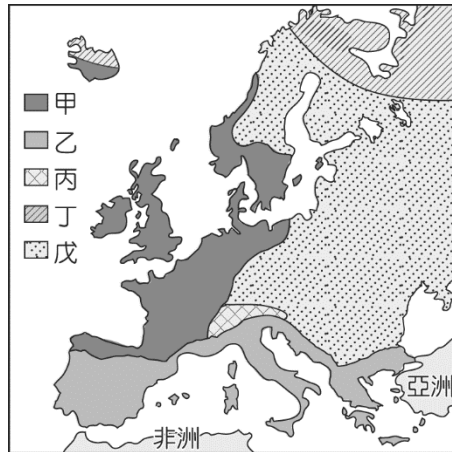
答案：(A)

解析：智利位於南美洲西側，相鄰太平洋。

52. ( ) 歐洲某地區的氣候圖如圖(一)所示，其分布區域應位於圖(二)中何處？



▲圖(一)



▲圖(二)

(A)甲 (B)乙 (C)丙 (D)戊。

答案：(A)

解析：終年有雨的氣候類型為溫帶海洋性氣候，主要分布於西歐。

53. ( ) 位於北非的利比亞曾與義大利簽署協議，合作打擊偷渡活動，但因近年來利比亞政局動盪而成效不佳，因而使兩國相隔的哪一個海域上的偷渡客暴增？

(A)大西洋 (B)北海 (C)黑海 (D)地中海。

答案：(D)

解析：北非隔地中海與義大利相鄰。

54. ( ) 附圖是正雄在書中看到關於某國際組織的簡介，根據內容判斷，這最可能是在介紹下列何者？〔106.會考〕

它所在的地區，在地理位置上大致為東鄰大陸、西瀕海洋，組織內的人民雖然分屬不同國籍，但許多人使用共同的貨幣，而且人員、貨物可以自由流通，不必額外負擔關稅，可說是區域整合相對成功的例子。

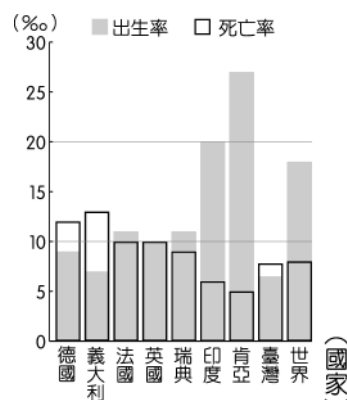
北美自由貿易區＝北美自由貿易協定

(A)聯合國 (B)歐洲聯盟 (C)北美自由貿易區 (D)亞太經濟合作會議。

答案：(B)

解析：圖中內容提到許多人使用共同的貨幣，可知是歐洲聯盟，因目前各國際組織只有歐盟使用歐元，故選(B)。

55. ( ) 附圖為部分國家的出生率及死亡率統計圖，關於該圖內容的敘述，下列何者正確？



(A)臺灣的出生率高於平均值 (B)義大利的自然增加率為負 (C)世界平均出生率受歐洲國家影響較大 (D)德國死亡率較高是因為實施計畫經濟。

答案：(B)

解析：(A)低於(B)義大利的出生率<死亡率，故自然增加率<0 (C)可能受非洲、亞洲國家影響較大 (D)德國因醫療技術進步，老年人口比例上升，高齡社會下死亡率較高。

56. ( ) 歐洲為工業革命的發源地，工商業發達。請問：最早展開工業革命的國家，其主要氣候類型為附表中何者？

| 氣候類型 | 氣溫分布 | 年溫差 | 降水量分布 |
|------|------|-----|-------|
| 甲    | 夏涼冬暖 | 小   | 全年有雨  |
| 乙    | 夏熱冬寒 | 大   | 夏雨冬乾  |
| 丙    | 夏熱冬寒 | 大   | 終年乾燥  |

|   |      |    |      |
|---|------|----|------|
| 丁 | 夏熱冬暖 | 不大 | 夏乾冬雨 |
|---|------|----|------|

(A)甲 (B)乙 (C)丙 (D)丁。

答案：(A)

解析：英國是工業革命的發源地，屬溫帶海洋性氣候。甲為溫帶海洋性氣候，乙為溫帶大陸性氣候，丙為溫帶沙漠氣候，丁為溫帶地中海型氣候。

57. ( ) 上地理課時，老師請下列四位同學舉出中南美洲的特色，誰的言論錯誤？

(A)小元：這裡有全世界最長的河流 (B)思涵：這裡有全世界最長的山脈 (C)小昀：這裡有全世界流域面積最廣的河流 (D)安安：這裡的巴拿馬運河連接太平洋與大西洋。

答案：(A)

解析：(A)全世界最長的尼羅河位在非洲。

58. ( ) 植物學家 Mary 到中南美洲進行考察，若她從 GPS 上判斷目前的位置為西經 60 度、南緯 2 度。請問：她所見到的植物景觀為何？

(A)寸草不生的漠地 (B)樹叢茂密的雨林 (C)疏林高草的莽原 (D)高聳整齊的針葉林。

答案：(B)

解析：赤道附近為雨林分布地區。

59. ( ) 澳洲目前正積極和亞洲國家進行多方面的交流與合作，並加入該地區的經濟組織。請問：澳洲與亞洲國家合作的有利條件為何？

(A)殖民背景 (B)語言相同 (C)距離接近 (D)宗教信仰。

答案：(C)

解析：澳洲的地理位置接近亞洲，有地利之便。

60. ( ) 西班牙的開發歷史甚早，為早期殖民主義盛行時的海上霸權。請問：該國位於哪一個地形區？

(A)歐洲大平原 (B)阿爾卑斯山 (C)伊比利半島 (D)巴爾幹半島。

答案：(C)

解析：西班牙及葡萄牙皆位於伊比利半島上。

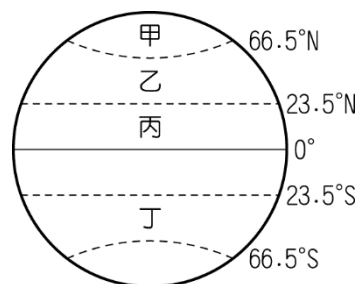
61. ( ) 國家邊界為國防上重要的一環，因此許多國家在邊境上的管制相當嚴格。然而下列哪些國家之間已撤除邊境管制，人民可以自由往來？

(A)馬來西亞、新加坡、印尼 (B)中國、北韓、俄羅斯 (C)西班牙、法國、比利時 (D)美國、加拿大、墨西哥。

答案：(C)

解析：西班牙等國因為皆為歐洲聯盟的會員國，因此各國家人民可自由往來。

62. ( ) 全球暖化會使附圖中哪一個地區的冰層大量融化，導致海水面上升？



(A)甲 (B)乙 (C)丙 (D)丁。

答案：(A)

解析：兩極地區受到全球暖化的影響，冰層大量融化，導致海水面上升。

63. ( ) 近年來，「北歐斯堪地那維亞風格」的居家風格相當受市場歡迎，其特色為使用當地的針葉林為建材，簡約大方，營造出溫暖又耐看的氛圍。請問：北歐當地多針葉林的主要原因為何？

(A)氣候暖溼 (B)夏雨冬乾 (C)緯度較高 (D)半島地形。

答案：(C)

解析：北歐因地處高緯、天氣寒冷，因此多以針葉林為主，而成為當地的建築裝潢建材特色。

64. ( ) 美國各種產業活動相當發達，有利於當地的經濟發展。請問：下列哪一個地區為古老地塊，蘊藏豐富的礦產？

(A)洛磯山脈 (B)五大湖區 (C)密西西比河沖積平原 (D)阿帕拉契山脈。

答案：(D)

解析：東部山脈為古老地塊，因此多礦產分布。

65. ( ) 下列何種天然植被具有調節地球大氣的功能，有利提供充足的氧氣，因此被稱為「地球之肺」？

(A)針葉林 (B)莽原 (C)苔原 (D)雨林。

答案：(D)

解析：雨林的天然植物最為茂密，可提供充足的氧氣供生物生存。

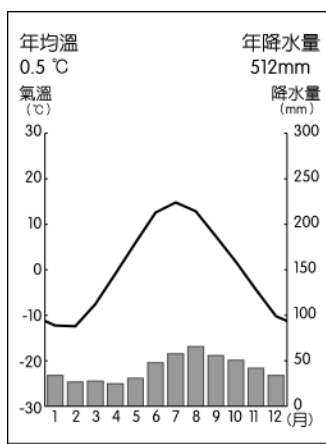
66. ( ) 南美洲各地的自然景觀差異甚大，有林木茂密的雨林，也有寸草不生的漠地。請問：曉明在電視上見到南美洲植物高低成層的雨林景觀，主要是位於下列何處？

(A)亞馬孫盆地 (B)巴西高原 (C)墨西哥高原 (D)安地斯山脈南端。

答案：(A)

解析：南美洲的雨林主要分布於赤道經過的亞馬孫盆地。

67. ( ) 附圖是羅瓦聶密的氣候圖，該地以聖誕老人村聞名，每年皆會在全日黑夜中舉辦盛大的嘉年華。該城市應屬於何種氣候類型？



(A)高地氣候 (B)寒帶氣候 (C)溫帶海洋性氣候 (D)溫帶大陸性氣候。

答案：(B)

解析：由冬季寒冷（ $-10^{\circ}\text{C}$ 以下）、全日黑夜，判斷是位於高緯度地區的寒帶氣候。

68. ( ) 全球暖化的氣候變遷影響了生物的活動，下列哪一種生物的棲息地就因受到影響，以致面臨滅種危機？

(A)蚊子 (B)無尾熊 (C)綿羊 (D)北極熊。

答案：(D)

解析：全球暖化導致北極熊面臨滅種危機。

69. ( ) 大衛觀察美洲的大氣現象，發現某地區一年四季的氣候變化不大，每天的變化情況大致如附表所示。請問：該地區最可能位於下列何處？

| 時間 | 天氣特色 |
|----|------|
|    | 太陽升起 |
|    | 氣溫升高 |
|    | 白雲朵朵 |
|    | 風雲突變 |
|    | 雨過天晴 |
|    | 涼爽宜人 |

(A)北美大平原 (B)亞馬孫盆地 (C)安地斯山脈 (D)墨西哥高原。

答案：(B)

解析：熱帶雨林氣候區的午後雷陣雨情況如表中所示。

70. ( ) 中南美洲受到西班牙人、葡萄牙人移民影響，高度依賴少數農礦產品的出口，屬於何種經濟方式？

(A)計畫經濟 (B)自由經濟 (C)商品化農業 (D)殖民地式經濟。

答案：(D)

解析：中南美洲受到西班牙人、葡萄牙人移民影響，高度依賴少數農礦產品的出口，屬於殖民地式經濟。

71. ( ) 目前世界上因二氧化碳排放量過高，導致溫室效應加劇，這和下列哪一種類型的國家關係最大？

(A)人口眾多國家 (B)低度開發國家 (C)工業發展國家 (D)礦藏輸出國家。

答案：(C)

解析：工業發展國家大量使用化石燃料，因此二氧化碳排放量最多。

72. ( ) 圖(一)為某動物園的宣傳海報。請問：圖(一)中的動物應是來自圖(二)中何處？



▲圖(一)



▲圖(二)

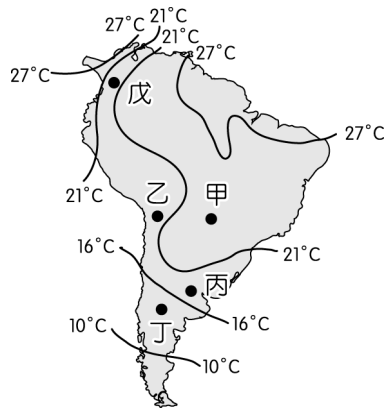
(A)甲 (B)乙 (C)丙 (D)丁。

答案：(D)

解析：無尾熊為澳洲特有種動物。

二、題組 (每格 1 分，共 15 分)

73. 南美洲的輪廓呈現倒三角形的特色，影響當地的氣候分布。附圖為該地區的等溫線分布圖，請由圖中資料回答相關問題：



- ( ) (1) 根據圖中氣溫分布判斷，該圖標題應該為下列何者？ (A) 南美洲七月等溫線圖 (B) 南美洲一月等溫線圖 (C) 南美洲年均溫等溫線圖 (D) 南美洲年溫差等溫線圖。
- ( ) (2) 圖中戊點較其他同緯度地區的氣溫低，其最主要的原因為何？ (A) 寒流經過 (B) 強風侵襲 (C) 地勢高聳 (D) 高氣壓籠罩。
- ( ) (3) 根據地理位置判斷，圖中甲點降水特色應該為下列何者？ (A) 終年有雨 (B) 夏乾冬雨 (C) 夏雨冬乾 (D) 終年乾燥。

答案：(1)(B)；(2)(C)；(3)(C)

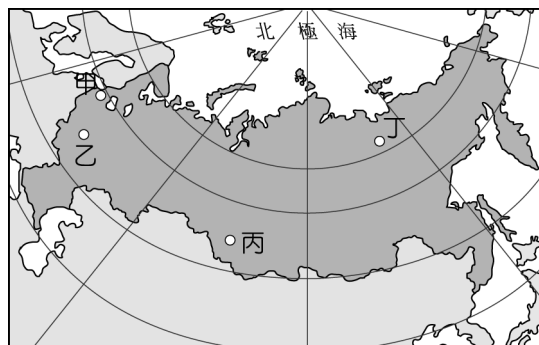
解析：(1) 南美洲位於南半球，一月為夏季。

(2) 戊位於安地斯山區。

(3) 圖中甲點為熱帶莽原氣候區。

74. 俄羅斯這個國家億萬富翁人數高達 114 位，居世界第五多。全球唯一的富豪展在這裡舉辦，名車、遊艇、名錶、鑽石等幾乎以秒殺的方式銷售。在共產主義的高牆倒塌後，俄羅斯成為金磚國，以不可思議的速度崛起，但是在金碧輝煌的背後，該國卻有九成的人口年收入不到一萬美元，形成強烈的對比。請問：

- ( ) (1) 上文中呈現俄羅斯驚人的奢華，然而在背後的貧富差距卻成為發展隱憂。俄羅斯經濟的興起和下列何者關係最大？ (A) 重工業發達，有利民生工業發展 (B) 古老地塊組成，擁有豐富石油礦產 (C) 研發技術進步，通訊電子業發達 (D) 資金充足，成為全球金融市場中心。
- ( ) (2) 俄羅斯的首都擁有世界上最多超級富豪，其地理位置為附圖中何處？



(A) 甲 (B) 乙 (C) 丙 (D) 丁。

- ( ) (3) 隨著經濟的發展，俄羅斯境內區域間的發展差距漸大。目前人口密度最高的地區為下列何者？ (A) 歐俄平原 (B) 西伯利亞 (C) 高加索山 (D) 太平洋沿岸。

答案：(1)(B)；(2)(B)；(3)(A)

解析：(1) 俄羅斯近年來因為石油等礦產豐富，大量對外出口，帶來豐富的外匯，帶動經濟發展。

(2) 乙為莫斯科，位於歐俄平原中部，為俄羅斯的政經中心。甲為聖彼得堡，丙為新西伯利亞，丁為維科揚斯克。

(3) 歐俄平原地形平坦且氣候較為暖溼，因此人口分布較為密集。

75. 大洋洲的國家顧名思義多位於廣大海洋之中，當地的產業活動及環境特色都和大自然息息相關。近年來由於氣候變遷，使得這片人間仙境面臨殘酷的考驗。請問：

- ( ) (1) 該洲依其地理位置而分成三大群島，其畫分大致如附圖所示，圖中的 A、B 分界線分別為下列何者？



(A) 赤道、本初經線 (B) 0° 經線、國際換日線 (C) 赤道、國際換日線 (D) 本初經線、0 度緯線。

- ( ) (2) 當地產業和自然環境相關，下列哪一個島嶼類型由於土壤較為肥沃，因此農業活動成為當地居民的收入來源？ (A) 珊瑚礁島 (B) 火山島 (C) 大陸島 (D) 沙洲島。
- ( ) (3) 大洋洲是指澳洲及散布在太平洋上的 2 萬多個島嶼，其中面積最大的澳洲在發展的過程中曾為下列何國的殖民地，因此其經濟活動和該國的關係相當密切？ (A) 法國 (B) 日本 (C) 美國 (D) 英國。

答案：(1)(C)；(2)(B)；(3)(D)

解析：(1) 大洋洲島國以赤道及國際換日線大致分成三大群島。

(2) 火山島陸地面積較大，土壤肥沃，有利農業活動的發展。

(3) 澳洲昔日為英國殖民地，因此發展過程受到英國的影響甚大。

76. 「從飛機上往下望去，整片黃沙，偶而夾雜著點點綠叢，真令人以為到了另一個星球。下了飛機後，我們乘著旅行社租來的遊覽車，沿著海岸公路疾馳，所看到的仍是黃沙為主的景觀，同時那一點點的綠叢，近看原來是一株株的橄欖樹，與排列整齊的葡萄樹叢，為這個黃色世界增添一分生氣。」請問：

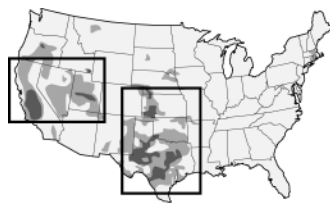
- ( ) (1) 根據上文的描述，該地方最有可能位於哪一國家？ (A) 日本 (B) 馬來西亞 (C) 西班牙 (D) 挪威。  
 ( ) (2) 該地方的氣候最有可能屬於哪一種類型？ (A) 熱帶雨林氣候 (B) 溫帶地中海型氣候 (C) 溫帶季風氣候 (D) 熱帶莽原氣候。

答案：(1)(C)；(2)(B)

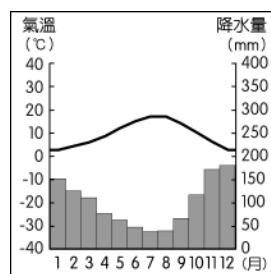
解析：(1) 由「黃沙、橄欖樹」判斷是西班牙。

(2) 溫帶地中海型氣候的年降水量不多，橄欖、葡萄為該氣候區的主要作物。

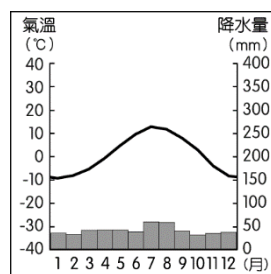
77. 附圖為美國乾旱監控網站提供的 8 月全美乾旱情形示意圖，圖中可以看出乾旱情形在加州與德州最為嚴重。



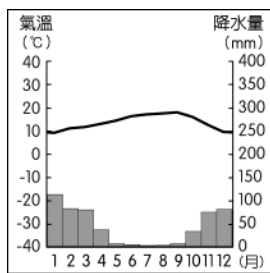
( ) (1) 美國加州乾旱情形如此嚴重，與當地是何種氣候類型有關？ (A)



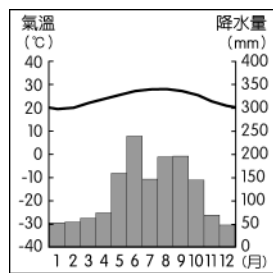
(B)



(C)




(D)



( ) (2) 家豪看到此圖，決定在課前整理課本提到的美國常見天災及好發時期，但筆記有許多錯誤，只有下列何者正確？

- (A) 春夏之交 (B) 夏末秋初 (C) 秋冬之際 (D) 冬末春初

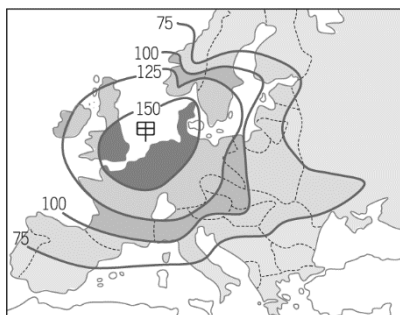


答案：(1)(C)；(2)(A)

解析：(1) 加州屬溫帶地中海型氣候，夏季受副熱帶高壓籠罩，空氣過於乾燥，容易引發乾旱，甚至森林大火。

(2) 龍捲風好發於春夏之交時，常見在北美大平原因暖空氣與冷空氣快速匯聚上升而形成。

78. 附圖為第二次世界大戰前，歐洲各地農業活動的示意圖。圖中的數值愈高代表農業活動愈密集。請依圖中資料回答下列問題：



( ) (1) 海洋對歐洲的發展影響相當深遠。請問：附圖中甲區域所在的海域為何？ (A) 北海 (B) 愛琴海 (C) 地中海 (D) 波羅的海。

( ) (2) 附圖中甲區域的農業活動最為集約，若依其分布範圍加以判斷，此區域不包括下列何國？ (A) 丹麥 (B) 英國 (C) 法國 (D) 西班牙。

答案：(1)(A)；(2)(D)

解析：(1) 甲位在英、法中間，為北海。

(2) 西班牙分布不在甲區。