

一、選擇-:(每題 0 分。共 0.0 分):

1. ()若要繪製一張中國五大地形占總面積的比例圖，繪製成下列哪一種圖表最適合？ (A)點圖 (B)圓餅圖 (C)柱狀圖 (D)等高線圖。

《答案》B

詳解：面積比例最適合用圓餅圖來表示。

2. ()中國地勢呈三級階梯，主要呈現下列何種地勢起伏？ (A)西高東低 (B)西低東高 (C)南高北低 (D)南低北高。

《答案》A

3. ()中國的溫帶季風氣候與副熱帶季風氣候以下列哪一座山脈為分界？ (A)天山 (B)秦嶺 (C)太行山 (D)大興安嶺。

《答案》B

4. ()從附表甲、乙、丙、丁四地的氣候資料判斷，何地最可能為草原氣候？ (A)甲 (B)乙 (C)丙 (D)丁。

地點	最冷月 月均溫(°C)	年降水量 (mm)
甲	-5.5	355
乙	-15.2	185
丙	-3.7	622
丁	5.6	1,230

《答案》A

詳解：草原氣候的年降水量介於 250~500 mm 之間。

5. ()青藏高原天空碧藍、太陽輻射強，日照非常充足，主要是受下列哪一項因素影響？ (A)緯度較低 (B)距海較遠 (C)地勢較高 (D)高壓中心。

《答案》C

6. ()十九世紀後，美國與澳洲的荒野逐漸開發，在大量的勞力需求下，向中國招募數以百萬計的華工，前往當地修築鐵路、開挖金礦。這些華工當時搭乘船隻所橫渡的海域應為下列何者？ (A)大西洋 (B)印度洋 (C)太平洋 (D)北極海。

《答案》C

詳解：中國與澳洲、美國共同瀕臨的海域為太平洋。

7. ()能源將是下個世紀最重要的戰略資源之一，中國如果要提升能源產量，應選擇下列哪一個地區進行技術開發提升能源產量？ (A)東部地區 (B)中部地區 (C)西部地區 (D)海南經濟特區。

《答案》C

8. ()中國為了促進西部地區的經濟與社會發展，於西元 2000 年通過西部大開發政策，並進行了相關的基礎及交通建設，附圖是某建設的路線圖，依據圖中資訊判斷，其所指的應為其中的哪一項目？ (A)西氣東輸 (B)西電東送 (C)青藏鐵路 (D)南水北調。



《答案》A

詳解：由新疆出發往上海地區的最可能是輸送天然氣的西氣東輸工程路線。

9. () 中國自改革開放以來，歷經長時間的現代工業發展，已出現數個經濟發展核心地區。請問：下列哪一個經濟圈以鋼鐵、石化工業發達聞名，也有「中國矽谷」之稱的中關村等高科技產業？ (A) 珠三角經濟圈 (B) 長三角經濟圈 (C) 環渤海經濟圈 (D) 海南經濟特區。

《答案》C

10. () 日本地震頻繁，多火山地形，如境內第一高峰「富士山」就是一座活火山，推測應與何項因素有關？ (A) 緯度橫跨廣 (B) 經度範圍大 (C) 處板塊交界 (D) 高低壓多變。

《答案》C

詳解：日本地處板塊交界帶，地殼不穩，多火山、地震與溫泉。

11. () 某一地區因位於中國與日本之間，因此歷史上，當中國強盛時，則該區為中國所控制，反之則為日本殖民。請問：該區指的是下列何者？ (A) 朝鮮半島 (B) 中南半島 (C) 印度半島 (D) 阿拉伯半島。

《答案》A

12. () 中國北方會利用黃土為建材，夯製成床鋪，引入爐灶升火的熱氣至床鋪下，有保暖的功效。下列何處也常看到類似的房屋設計？ (A) 日本琉球 (B) 南韓首爾 (C) 中國上海 (D) 臺灣埔里。

《答案》B

13. () 日本列島四面環海，降水量豐富，但下列何者並非為日本帶來豐沛降水的原因？ (A) 冬季西北季風 (B) 夏季東南季風 (C) 沿海親潮流經 (D) 夏、秋兩季的颱風。

《答案》C

14. () 東北亞因地理位置鄰近某國，文化發展深受影響，如日本的茶道、花道及文字；又如南韓的節慶、韓醫及建築。請問：文中所指的某國最有可能為下列何者？ (A) 中國 (B) 俄羅斯 (C) 印度 (D) 美國。

《答案》A

15. () 北韓擁有豐富資源，奠定其工業發展的基礎，以下關於北韓的敘述，何者正確？ (A) 礦產與水力資源比南韓豐富 (B) 工業技術較南韓進步 (C) 與南韓長年和諧共處 (D) 是東北亞的經濟發展中心。

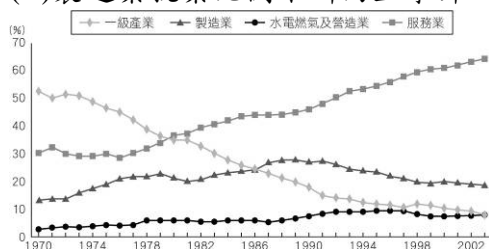
《答案》A

16. () 西元2014年9月亞運在南韓仁川舉行，當中華女網得到團體金牌的消息傳回國內後，激起了康康國中的同學們對仁川這個城市的興趣和好奇。下列同學們的陳述何者錯誤？ (A) Mina：仁川位於朝鮮半島，實施民主政體 (B) 小君：仁川是南韓的首都，各項發展皆很進步 (C) 小胖：當地氣候應屬溫帶季風氣候 (D) Gery：在仁川街上可見三星電子產品和現代汽車。

《答案》B

詳解：南韓首都為首爾。

17. () 附圖是南韓就業結構變化統計圖，圖上依照各產業的就業人口計算當年度的就業人口比例。請問：根據圖表所示內容，下列哪一項敘述最為正確？ (A) 第一級產業就業比例逐年下降 (B) 第三級產業就業比例一直奪冠 (C) 製造業就業比例不斷向上攀升 (D) 水電燃氣及營造業比例明顯下降。



《答案》A

18. () 季風亞洲是指在氣候上受季風氣候影響的亞洲地區。下列何項地理事實為季風亞洲的區域特色？ (A) 分布範圍包括亞洲全區 (B) 多數居民以稻米為主食 (C) 降水季節分布多為全年有雨 (D) 夏季季風多自陸地吹向海洋。

《答案》B

19. () 附圖為中國人民幣 10 元的背面圖，圖中是中國最長的河流經山地而切割出的峽谷景觀。中國運用此峽谷興建了三峽大壩，以供應全國民生用水、產業用電。請問：該河流應為下列何者？ (A) 珠江 (B) 長江 (C) 黃河 (D) 黑龍江。



《答案》B

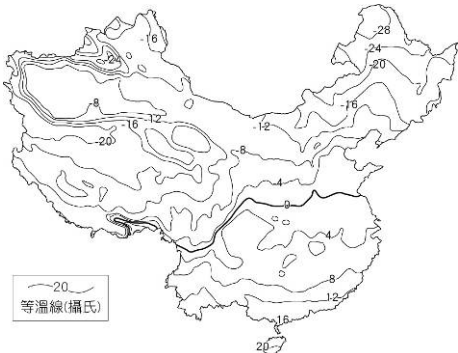
詳解：題幹中可知中國的河流以長江的長度最長，三峽大壩則是興建於長江上游的大型水利工程。

20. () 某報導指出：「現今中國適婚男女的性別比懸殊，且隨著社會文化的變遷，愈來愈多女性不願意結婚，因此出現部分男性為了結婚，須繳交費用給婚友社的情形。其中，婚友社內的女性不僅對男性的要求逐漸增加，雙方媒合時間也愈來愈久。」請問：上述現象和中國哪一個政策的實施較有關？ (A) 開放生二胎 (B) 一胎化政策 (C) 經濟改革開放 (D) 老年福利政策。

《答案》B

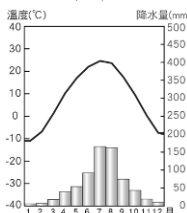
詳解：中國受到一胎化政策影響，性別結構失衡，使部分男性較難找到婚配對象。

21. () 附圖為中國某季節的等溫線分布圖，由圖中資訊可以得出下列哪一項事實？ (A) 此圖為中國夏季(7月)等溫線分布圖 (B) 中國的年溫差呈現由南往北遞減的趨勢 (C) 0°C 等溫線大致與秦嶺、淮河一線重疊 (D) 東北平原此月分溫度低主要是受到地形影響。



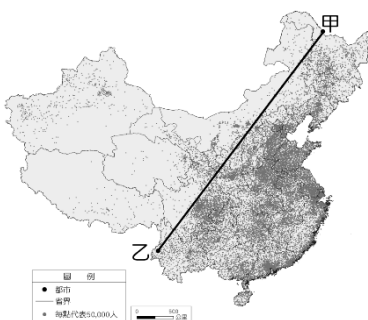
《答案》C

22. () 附圖為中國某地的氣候圖。請問：該地屬於何種氣候類型？ (A) 溫帶沙漠氣候 (B) 草原氣候 (C) 溫帶季風氣候 (D) 副熱帶季風氣候。



《答案》C

23. () 附圖為中國人口分布圖，下列圖中敘述，何者錯誤？ (A) 甲地為黑河，乙地為騰衝 (B) 連線以西環境負載力較低，以農耕為主 (C) 連線以東大致為季風氣候，為人口集中區 (D) 此圖顯示中國人口分布不均。



《答案》B

詳解：(B) 環境負載力較低，以畜牧業為主。

24. () 中國南方福建、廣東一帶，早期有大批居民移向海外謀生，因此被稱為「僑鄉」。造成此地區人口大量向外移動的原因，不包括下列何者？ (A) 山多田少 (B) 人口稠密 (C) 出海便利 (D) 政府鼓勵。

《答案》D

25. () 西元 2023 年 7 月，南韓各地出現中華郵政寄出的毒包裹，截至 24 日上午共接獲 2,141 起報案，引起恐慌。事後經查證這些郵件竟是從「中國深圳」寄出、再經臺灣轉發的郵件。請問：文中提及的毒包裹由中國寄往臺灣若是利用空運，則飛機出發後應大致朝哪一方向飛行，方能抵達臺灣？ (A) 東北方 (B) 西北方 (C) 東南方 (D) 西南方。

《答案》A

詳解：深圳位於廣東省，珠江口東側，在臺灣的西南方。

26. () 小瀨收到中國友人寄來的家鄉明信片。此都市自清末以來擁有豐富的異國風情，各種西式別墅和洋房林立，近年該都市中快速發展的浦東新區，更因中國境內第一間迪士尼樂園開幕而話題不斷。請問：此都市應為下列何者？ (A) 北京 (B) 廣州 (C) 上海 (D) 深圳。



《答案》C

27. () 早期有句順口溜說：「寧要浦西一張床，不要浦東一間房。」現在則是「浦東一年一個樣，三年變大樣。」請問：下列有關上海發展的敘述何者正確？ (A) 浦東以發展能源密集度高的產業為主 (B) 帶動了周圍的地區發展，形成珠三角經濟圈 (C) 浦東新區有許多大型建設，如迪士尼樂園 (D) 浦西地區是上海近年急速發展的地帶，商業興盛。

《答案》C

28. () 中國四大經濟區中，中部地區的武漢位於長江沿岸，是中國內陸重要的交通樞紐，具有通訊、電子、生物醫藥和汽車等產業聚集優勢，每年也有百萬大學生的人才資源，但是在工業活動發展過程中始終較缺乏下列哪一項條件？ (A) 礦產資源 (B) 水力電能 (C) 出口港口 (D) 政策優惠。

《答案》C

29. () 分析中國東南沿海地區都市化程度的變化，其與下列何項資料的趨勢最相近？ (A) 鄉村人口比例 (B) 農業人口比例 (C) 工商從業人數 (D) 新生幼兒人數。

《答案》C

30. () 「中國經濟發展快速，近年來在國民所得提高後出現購物節的消費旋風，大量運輸需求使得各家快遞業者如雨後春筍般紛紛冒出，政府為了改善交通系統以提升快遞、物流的運輸效率，興建許多高速公路。」根據上文判斷，以下哪一個地區的高速公路最為密集？ (A) 甲 (B) 乙 (C) 丙 (D) 丁。



《答案》B

詳解：經濟發達程度直接反應於消費能力，因此可判斷高速公路密集度最高者應為(乙)地區。

31. () 「工業轉型後的中國，因人民購買能力大幅提升，消費總額屢創新高，一躍成為全球最大的消費市場，甚至有『世界市場』的稱號。」上述現象與下列中國哪一項特徵關係最為密切？ (A) 進出口貿易額世界第一 (B) 人口總數名列世界前茅 (C) 「一帶一路」推廣有成 (D) 國土面積廣大資源豐富。

《答案》B

32. () 亞洲基礎設施投資銀行（簡稱亞投行，縮寫為 AIIB）是一個向亞洲各國提供援助，支持當地基礎建設多邊開

發機構，成立宗旨在促進亞洲區域內的建設和經濟一體化進程。以中國為主要出資者的亞投行，代表中國嘗試以什麼優勢與亞洲其他國家進行關連？ (A)資金 (B)勞力 (C)原料 (D)市場。

《答案》A

詳解：亞投行是多國政府成立的一個區域多邊開發機構，主要業務是以融資方式援助亞太地區國家進行交通、電信、能源、農業與城市發展等基礎建設。西元 2013 年中國提出亞投行的倡議，經一年籌備，於西元 2014 年正式成立，中國出資 50%，為最大股東。中國藉著亞投行實現「一帶一路」構想，同時讓國內熱錢找到投資標的。然而近年疫情明顯降低了借貸國還債能力，使亞投行的獲利和資產都出現嚴重的減損或呆帳，資產規模未如預期般快速擴張。

33. () 「為解決水資源需求和電力問題，中國致力於水資源開發，但也常引起國際爭議，例如：中國在某一河川上游興建水壩、開發水力，就因影響下游的東南亞國家的用水和生態環境，而引來抗議。」上文中的河川最可能是哪一條河流？ (A)長江 (B)珠江 (C)黑龍江 (D)瀾滄江。

《答案》D

34. () 中國提出「一帶一路」倡議後，部分國家引進中國資金，使國內經濟有所改善，卻也有部分國家發生下列何種問題？ (A)無力償還債務 (B)領土被中國侵略 (C)能源供不應求 (D)受肺炎病毒肆虐。

《答案》A

35. () 「一帶一路」為近年來中國對外投資的重要策略，「一帶」指絲綢之路經濟帶，路線起於中國沿海，並向西拓展，其經濟走廊橫跨範圍以哪些洲別為主？ (甲)亞洲 (乙)歐洲 (丙)非洲 (丁)大洋洲 (A)甲乙 (B)甲丁 (C)乙丙 (D)丙丁。

《答案》A

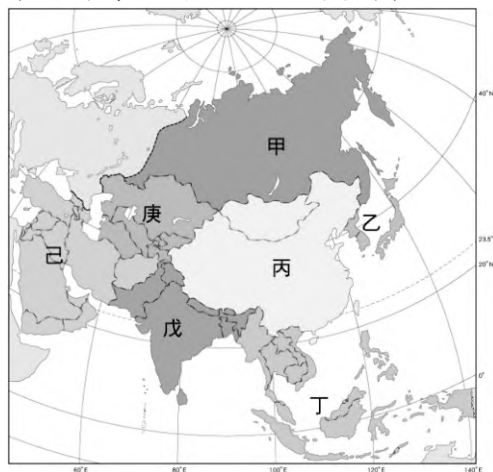
36. () 附表為加拿大、美國和中國的水資源比較。請問：造成中國平均每人淡水資源量偏低的主因是什麼？ (A)夏雨集中 (B)人口眾多 (C)坡陡流急 (D)水污染嚴重。

國家	淡水資源總量 (百億立方公尺)	平均每人 淡水資源量 (立方公尺)
加拿大	2,850	81,062
美國	2,818	8,914
中國	2,813	2,072

《答案》B

詳解：從附表中資訊可知，三個國家在淡水資源的總量上相差不多，然而中國每人可分配使用的資源量相較美國、加拿大差距懸殊，可知主要為中國龐大人口壓力所致。

37. () 附圖為亞洲各地理區與所在分區圖。請問：日本、南韓位於哪一個代號？ (A)甲 (B)乙 (C)丙 (D)丁。



《答案》B

38. () 日本除了有知名的雪猴泡溫泉景色，更有漂浮著大量紅澄澄蘋果的溫泉湯。請問：日本各地擁有眾多知名溫泉的主要原因為何？ (A)暖流經過 (B)地處高緯 (C)板塊擠壓 (D)季風吹拂。

《答案》C

39. () 小琪到日本某一主要島嶼旅行時，經常會遇到來自於南韓的旅客，詢問後得知這裡南韓旅客之所以很多，是因為這個島嶼與南韓的距離最近，請問：上述島嶼應該為下列哪一座島？ (A)北海道 (B)本州島 (C)四國島

(D)九州島。

《答案》D

40. ()日本國內有不少知名的歷史古蹟建築，附圖為日本奈良的東大寺，該寺是受國外觀光客歡迎的景點之一。請由該建築物判斷，日本曾經受到何種文化的影響？ (A)印度 (B)美國 (C)希臘 (D)中國。



《答案》D

詳解：該建築具有中國式的斗拱和屋簷，可判斷曾受中國文化的影響。

41. ()日本糧食自給率僅40%，日本政府長年視為國安危機，然而日本山多平原少，加上農業人口老化的迫切危機，日本政府推動以何種農業生產方式以提高糧食自給率，並解決相關農業問題？ (A)精緻農業 (B)生態農業 (C)智慧型農業 (D)機械化農業。

《答案》C

42. ()西元2016年的里約奧運閉幕式中，播放下一屆奧運主辦城市的宣傳影片，其中包括小精靈(Pac Man)、Hello Kitty、哆啦A夢，時任日本首相的安倍晉三也化身瑪利歐，通過綠色水管現身奧運閉幕式會場，讓觀眾一片驚呼。日本首相表示：「在日本虛擬人物的幫忙下，我想向世界展示日本的軟實力。」請問：文中「日本的軟實力」是指什麼？ (A)高科技產業 (B)觀光產業 (C)動漫產業 (D)音樂產業。

《答案》C

詳解：日本動漫產業發達，更透過其周邊商品、電影，甚至配樂都能製造龐大商機。

43. ()日本農業受自然環境的影響，有許多不同的特色，包含下列何者？ (甲)粗放農業 (乙)集約農業 (丙)種植小麥 (丁)種植稻米 (A)甲丙 (B)甲丁 (C)乙丙 (D)乙丁。

《答案》D

44. ()近年來，南韓積極發展工業，具有相當的成效，如從事通訊業的三星公司，即在國際市場上占有一席之地。請問：南韓近來積極發展的是下列哪一種性質的產業？ (A)原料密集型產業 (B)動力密集型產業 (C)勞力密集型產業 (D)技術密集型產業。

《答案》D

詳解：高科技產業屬於技術密集型產業，需要優質的高科技人才與機器。

45. ()南韓的《魷魚遊戲》是西元2021年最火熱的話題，更創下韓劇史上首次在影音串流平臺Netflix的90多個國家中均是排行榜冠軍的紀錄，全球點擊用戶達到1.1億(Netflix當時用戶約為2.09億)，堪稱「席捲全球」。上文可說明南韓的文化產業傳播全球，與下列哪一項條件或技術推波助瀾有關？ (A)網際網路的流通擴散 (B)政府出資觀眾免費觀看 (C)政府制訂相關文化政策 (D)強調節目製作技術獨創性。

《答案》A

46. ()某報告指出：「中國的網路購物持續推動其消費市場蓬勃發展。截至西元2020年3月，中國的上網人數規模達9.04億，較西元2018年底成長7,508萬人；網路普及率達64.5%，較西元2018年底提升4.9%；網路支付用戶規模達7.68億，較西元2018年底大幅成長1.68億；網路購物用戶規模更已達到7.1億。」請問：中國網路消費社會的形成，主要仰賴下列哪兩個條件的支持？ (甲)高效率的物流運輸 (乙)緊密的國際分工 (丙)發達的電子商務系統 (丁)頻繁的國際移工流動 (A)甲乙 (B)甲丙 (C)乙丁 (D)丙丁。

《答案》B

47. ()中國的經濟發展恰好與網際網路的日益發達接軌，因此國內網路購物相當盛行。請問：中國的網路購物能盛行，需要下列哪些因素的搭配？ (甲)低廉的勞力成本 (乙)便利的交通運輸 (丙)物流產業的高度發展 (丁)電子商務系統的完善 (A)甲乙丙 (B)甲乙丁 (C)甲丙丁 (D)乙丙丁。

《答案》D

48. ()開城工業區是由北韓提供工業區土地，南韓大財團提供資金、技術等項目，作為兩國合作開發工業區的有利條件。運作期間，曾有超過四萬名的北韓勞工每日於該工業區內進行線上的生產工作。依據北韓的經濟發展推測，開城工業區主要的生產項目不包括下列何者？ (A)製鞋 (B)成衣紡織 (C)電子裝配 (D)半導體。

《答案》D

49. ()附表為中國全國與上海的常住人口年齡結構，顯示上海的常住人口年齡結構變化趨勢與全國不一致。上述現象與上海何項特徵關係最密切？ (A)房產價格較高 (B)就業機會較多 (C)老人福利較佳 (D)沙塵暴較嚴重。

【105 教育會考】

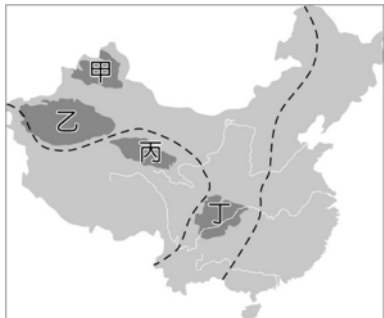
	年齡 (歲)	0-14	15-64	65歲以上
全國	2000	22.9%	70.1%	7.0%
	2010	16.6%	74.5%	8.9%
上海	2000	12.2%	76.3%	11.5%
	2010	8.6%	81.3%	10.1%

《答案》B

詳解：由表中可看出 2000~2010 年間，上海壯年人口比例的成長較全國高，幼年人口比例的減少較全國緩，而老年人口比例減少，此與中國的變化趨勢明顯有別，由此判斷與(B)就業機會較多的關係最密切。

二、題組-:(每題 0 分。共 0.0 分):

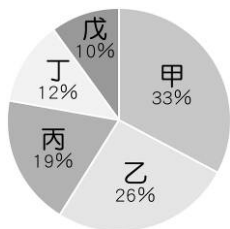
1. 附圖為中國四個盆地的分布簡圖。請問：



- () (1) 何者位於最高階梯的範圍內？ (A)甲 (B)乙 (C)丙 (D)丁。
 () (2) 「該盆地四周群山環繞，進出不易，古代有『蜀道難』之嘆，因而沿河修築棧道，以便於出入。」上文中描述的盆地應為下列何者？ (A)甲 (B)乙 (C)丙 (D)丁。
 () (3) 何者是中國面積最大的盆地，盆地內有塔克拉瑪干沙漠？ (A)甲 (B)乙 (C)丙 (D)丁。

《答案》(1)C (2)D (3)B

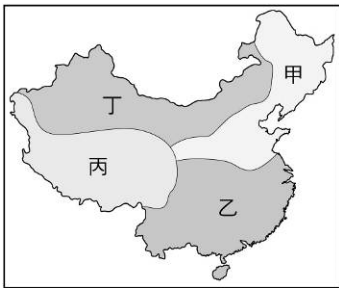
2. 附圖為中國五大地形面積比例圖，甲~戊代表不同地形種類。請問：



- () (1) 中國的東南丘陵在人口集中區，多被闢成梯田，種植茶和水果等作物。請問：東南丘陵應屬圖中哪一種地形類型？ (A)乙 (B)丙 (C)丁 (D)戊。
 () (2) 中國三級階梯中的最高階梯，以圖中哪兩種地形種類為主？ (A)甲乙 (B)乙丙 (C)乙丁 (D)丁戊。
 () (3) 下列關於中國整體地形特色的敘述，何者最符合事實？ (A)平原面積廣 (B)山多平原少 (C)高原和盆地相間 (D)丘陵和山地比例最高。

《答案》(1)D (2)A (3)B

3. 附圖為中國的分區簡圖。請問：

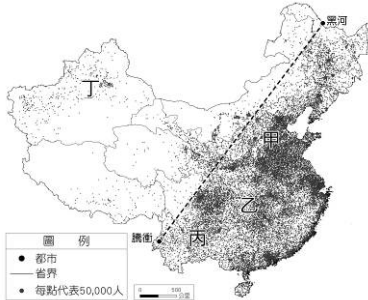


- () (1) 由圖判斷，甲、乙兩區的主要地理界線為下列何者？ (A) 秦嶺、淮河 (B) 長江、珠江 (C) 阿爾金山、祁連山 (D) 大興安嶺、太行山。
- () (2) 圖中哪一個區塊內的「自治區」數量最多？ (A) 甲 (B) 乙 (C) 丙 (D) 丁。

《答案》(1)A (2)D

詳解：(2) 丁區內有內蒙古自治區、寧夏回族自治區及新疆維吾爾自治區。

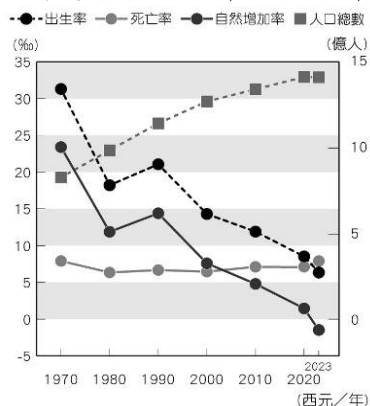
4. 附圖為中國人口分布圖，圖中甲~丁代表不同地區。請問：



- () (1) 圖中黑河和騰衝兩地連線以東的自然環境具有下列哪兩項特色？ (甲) 降水豐富 (乙) 地形崎嶇 (丙) 空氣稀薄 (丁) 平原較多 (A) 甲乙 (B) 甲丁 (C) 乙丙 (D) 丙丁。
- () (2) 關於附圖中黑河和騰衝兩地連線以西地區的人口特徵，下列敘述何者符合事實？ (A) 約占全國總人口的 6% (B) 人口分布較其他地區平均 (C) 對人口的拉力大於其他地區 (D) 人口增加速度超過全國平均。
- () (3) 附圖的甲~丁四地，哪一個人口最為密集？ (A) 甲 (B) 乙 (C) 丙 (D) 丁。

《答案》(1)B (2)A (3)A

5. 附圖是中國出生率、死亡率、自然增加率和人口總數的曲線變化圖。請問：

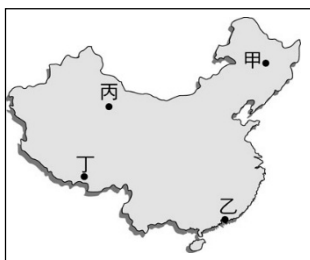


- () (1) 中國曾長期實施人口政策控制生育率，但圖中每年增加的人數還是很龐大，直至近年來成長才漸趨緩慢、且出現負成長情形，最主要的原因為何？ (A) 人口數量多 (B) 出生率仍高 (C) 移民人口增加 (D) 死亡率降低。
- () (2) 圖中自然增加率的起伏狀況受下列哪一項數據的影響最為明顯？ (A) 人口總數 (B) 出生率 (C) 移入率 (D) 死亡率。

《答案》(1)A (2)B

詳解：(2) 圖中自然增加率與出生率起伏最一致。

6. 附圖是中國簡圖。請問：



- () (1) 早期主要以駱駝作為馱獸，在沙漠中擔任運輸要角的地區為圖中何處？ (A) 甲 (B) 乙 (C) 丙 (D) 丁。
- () (2) 利用犛牛能馱重物在寒冷的山區行走，作為主要運輸馱獸的地區為圖中何處？ (A) 甲 (B) 乙 (C) 丙 (D) 丁。

《答案》(1)C (2)D

詳解：(1)丙區為乾燥的沙漠氣候。(2)犛牛為青藏高原地區的主要牲畜。

7. 小文計畫前往中國某自然保護區進行調查活動，專業人士建議他最好把時間安排在7~9月，還要攜帶墨鏡、遮陽帽、防晒乳、羽絨服和防水服等物品。請問：

() (1) 依據上文判斷，小文前往的地區最可能位於附圖中何地？ (A)甲 (B)乙 (C)丙 (D)丁。



() (2) 小文在當地進行活動時，最可能使用到下列何種獸？ (A)馬匹 (B)犛牛 (C)駱駝 (D)山羊。

《答案》(1)A (2)B

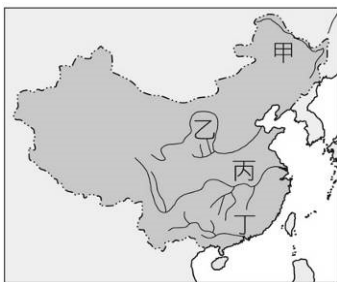
8. 設立經濟特區是中國改革開放以來的成功政策，也帶動了中國的經濟發展。請問：

() (1) 中國於東南沿海設立經濟特區時，主要發展的產業應為下列何者？ (A)重工業 (B)服務業 (C)加工出口業 (D)高科技工業。

() (2) 下列關於經濟特區的特色敘述中，何者錯誤？ (A)以出口為導向 (B)提供資金供外商運用 (C)提供優惠條款吸引外商 (D)希望引進外來技術促進中國工業升級。

《答案》(1)C (2)B

9. 附圖為中國河川分布圖。請問：



() (1) 黃土高原主要因圖中哪一條河川流經，受到流水侵蝕，導致水土流失嚴重？ (A)甲 (B)乙 (C)丙 (D)丁。

() (2) 為解決北部的缺水問題，中國計畫將哪一條河川的水源輸往黃河流域？ (A)甲 (B)乙 (C)丙 (D)丁。

() (3) 承上題，此一重大的水利工程為下列何者？ (A)南水北調 (B)三峽大壩 (C)圍湖造田 (D)西電東送。

《答案》(1)B (2)C (3)A

詳解：甲為黑龍江，乙為黃河，丙為長江，丁為珠江。

10. 附圖為中國三大氣候類型與四個地點的分布圖，請回答下列問題。



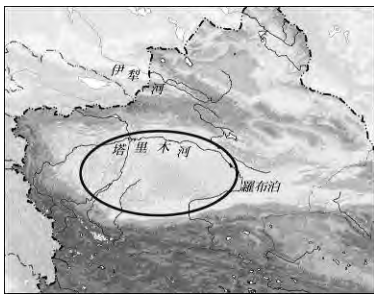
() (1) 圖中虛線所代表的意義為何？ (A)一月 0°C 等溫線 (B)七月 20°C 等溫線 (C)年降水量 $1,000\text{mm}$ 等雨量線 (D)溫帶季風氣候與草原氣候分界線。

() (2) 甲~丁四個地點中，何者的年溫差可能最大？ (A)甲 (B)乙 (C)丙 (D)丁。

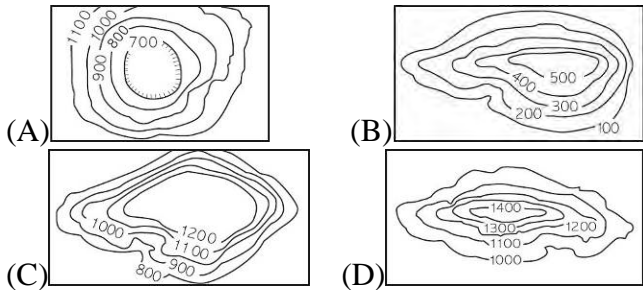
《答案》(1)A (2)D

詳解：(1)虛線為秦嶺、淮河一線，所代表的意義為一月 0°C 等溫線、年降水量 750mm 等雨量線。(2)圖中丁地屬於溫帶季風氣候，因緯度較高，年溫差較大。甲為高地氣候。乙為熱帶季風氣候。丙為副熱帶季風氣候。

11. 中國疆域面積遼闊，各地區的自然環境不同，附圖中線段圈起地區面積約 33.76 萬平方公里，其邊緣總長度約 $3,046$ 公里。為了遏止圈起地區的沙源不向外擴散，中國耗時 40 多年，終於在西元 2024 年底完成全線「鎖邊合龍」的阻沙防護工程。請問：



- () (1) 文中提及的工程應位於下列哪一行政區的範圍內？ (A) 西藏 (B) 新疆 (C) 四川 (D) 山西。
- () (2) 圖中線段圈起地區的地形與下列哪一張圖所呈現的最相符？



《答案》(1)B (2)A

詳解：塔克拉瑪干沙漠位於新疆「塔里木盆地」內。

12. 附圖為中國地勢三級階梯示意圖。請問：



- () (1) 圖中甲階梯的主要地形為下列何者？ (A) 塔里木盆地 (B) 內蒙古高原 (C) 青藏高原 (D) 雲貴高原。
- () (2) 圖中乙階梯以下列哪些地形為主體？ (A) 山地、平原 (B) 高原、盆地 (C) 丘陵、平原 (D) 山地、丘陵。
- () (3) 下列哪些山脈組合是乙階梯與丙階梯的分界？ (A) 祁連山、岷山 (B) 大興安嶺、太行山、巫山 (C) 秦嶺、陰山 (D) 喜馬拉雅山、橫斷山脈。

《答案》(1)C (2)B (3)B

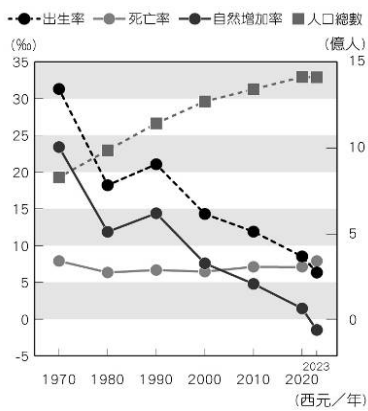
13. 附圖為中國三級階梯地勢示意圖。請問：



- () (1) 圖中最高階梯的範圍，若疊合中國的省級行政區，主要為哪一個行政區的範圍？ (A) 新疆維吾爾自治區 (B) 西藏自治區 (C) 黑龍江省 (D) 海南省。
- () (2) 圖中的次高階梯多山地、高原和盆地分布。下列哪一座山地位在次高級階梯內？ (A) 天山 (B) 長白山 (C) 小興安嶺 (D) 喜馬拉雅山。
- () (3) 下列中國哪兩項自然環境特色，與三級階梯的地勢分布關係密切？ (甲) 主要河川多向東流 (乙) 海洋水氣深入內陸 (丙) 全境沒有寒帶氣候 (丁) 冬季南北溫差極大 (A) 甲乙 (B) 乙丙 (C) 乙丁 (D) 丙丁。

《答案》(1)B (2)A (3)A

14. 附圖是中國的人口數據變化圖，請依圖中資料回答問題。



() (1) 中國人口的自然增加率變化，主要與下列哪一項因素的變動最為相似？ (A) 出生率 (B) 死亡率 (C) 人口總數 (D) 移入率。

() (2) 中國在圖中哪一年的自然增加率最低？ (A) 西元 1970 年 (B) 西元 1980 年 (C) 西元 2000 年 (D) 西元 2020 年。

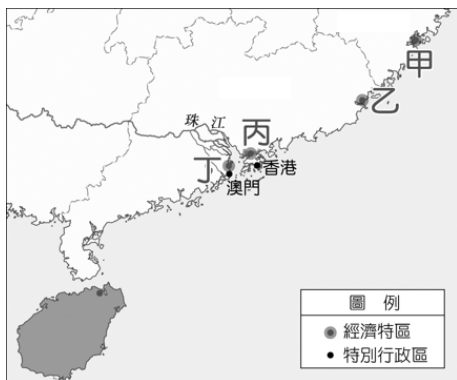
() (3) 中國的出生率雖逐年降低，但每年增加的人口數仍相當可觀，直至近年才開始出現人口負成長的情形，這是因為中國的人口具有下列哪一種特徵？ (A) 人口總數大 (B) 死亡率極低 (C) 出生率提升 (D) 移入率增加。

《答案》(1)A (2)D (3)A

15. 「低空經濟」一般是指在 1,000 公尺以下空域發展的各種經濟活動，載體包括有人駕駛和無人駕駛的各種航空器，應用範圍有物流、送外賣、載客、測量等，中國可說是全球低空經濟的先驅，並且已連續多年穩居全球最大無人機出口國，其中又以深圳的無人機生產量最大，目前中國無人機專利申請量佔全球 70%，西元 2024 年全中國的低空經濟市場規模超過 6,700 億元人民幣，預估西元 2025 年有望達到 1.5 萬億元。請問：

() (1) 上文中應用「無人航空器」的產業類型，所具有的屬性不包括下列何者？ (A) 原料密集度高 (B) 技術密集度高 (C) 資本密集度高 (D) 附加價值較高。

() (2) 上文中提及中國最大的無人機生產地，應在附圖中何地？ (A) 甲 (B) 乙 (C) 丙 (D) 丁。



《答案》(1)A (2)C

16. 附圖為中國四大經濟區分布圖。請問：



() (1) 四大經濟區的劃分，主要是以下列何者作為依據？ (A) 地形類型 (B) 面積大小 (C) 發展策略 (D) 人口多寡。

() (2) 若依四大經濟區的產值面積大小排列，由大到小依序為何？ (A) 東部 > 中部 > 西部 > 東北 (B) 東部 > 西部 > 東北 > 中部 (C) 中部 > 東北 > 東部 > 西部 (D) 西部 > 中部 > 東部 > 東北。

() (3) 下列哪些是東部地區發展上的優勢？ (甲) 勞力充足 (乙) 交通便利 (丙) 能源豐富 (丁) 教育水準較高 (戊) 水源豐沛 (A) 甲乙丙 (B) 甲乙丁 (C) 乙丙丁 (D) 乙丁戊。

《答案》(1)C (2)D (3)B

詳解：東部地區為中國經濟核心區，但水、電、糧食等資源較不足；中部地區有豐富的能源與糧產，但較缺乏人才、資金；西部地區面積最大，林、牧、礦業豐富，但受限地形與氣候，發展落後；東北地區面積最小、產值最低、人口最少，政府為振興此區，力推產業轉型。

17. 中國加入 WTO 後，「世界工廠」、「全球製造業中心」這樣的觀念被頻繁提及。「中國製造」的產品愈來愈多，不斷成長的出口額也強化著這些說法。請問：

() (1) 近年來，中國的經濟發展不包括下列哪一項特色？ (A) 成為世界經濟體系的一員 (B) 農業是經濟成長的主要動力 (C) 電子商務系統發達 (D) 已逐漸蛻變成世界市場。

() (2) 有「世界工廠」之稱的中國，早期主要製造的工業產品具有下列哪一項特色？ (A) 以低技術產品為主 (B) 以石油化學產品為主 (C) 以高階技術產品為主 (D) 以魚類加工品出口為主。

() (3) 中國企圖將技術層次低的輕工業逐漸轉型為技術層次較高的高科技工業，上述主要是指下列哪一項產業策略？ (A) 能源出口 (B) 扶植農業 (C) 產業轉型 (D) 進口替代。

《答案》(1)B (2)A (3)C

18. 「一帶一路」是中國近年來所提出的大型跨國經濟合作計畫，附圖是該計畫的路線示意圖，該計畫是以昔日的絲綢之路及鄭和下西洋的路線為基礎進行規畫。請問：



() (1) 依據圖中路線判斷，路線示意的涵蓋區不包括下列哪一大洲？ (A) 亞洲 (B) 歐洲 (C) 非洲 (D) 美洲。

() (2) 「西元 2017 年，斯里蘭卡因無法償還積欠中國的巨債，將具有高度軍事、經濟、地緣政治價值的漢班托塔港『租借』給中國 99 年，淪為中國『租界』，此事被抨擊為中國一帶一路的債務陷阱。」依據一帶一路的路線判斷，文中提及的港口瀕臨下列哪一個海域？ (A) 北極海 (B) 太平洋 (C) 印度洋 (D) 大西洋。

() (3) 「一帶一路」發展策略是藉由陸運和海運往來世界各大洲，奠定中國經濟地位。該計畫中的海上路線，由中國沿海航行至印度等南亞國家時，考慮到盛行風向有助於航行的因素，下列哪一個時間出海航行最為適合？ (A) 春節 (B) 端午節 (C) 中秋節 (D) 清明節。

《答案》(1)D (2)C (3)A

詳解：(3)春節時，冬季盛行的「東北季風」有助於中國沿海船隻航向南亞國家。

19. 位於日本九州島的阿蘇火山，約在日本時間西元 2021 年 10 月 20 日上午 11 時 43 分噴發，日本氣象廳發布「噴火速報」，火山碎屑流衝出山口高達約 1 公里，陣陣噴煙更高達 3,500 公尺。上午 11 時 48 分，更對阿蘇火山口周邊發布警報，將噴發警戒等級提高到第 3 級，熊本縣阿蘇市、南阿蘇村與高森町等地有必要禁止民眾入山。請問：

() (1) 阿蘇火山位於附圖中何地？ (A) 甲 (B) 乙 (C) 丙 (D) 丁。



() (2) 自然環境影響生活習慣與文化發展甚巨，下列哪一項日本文化特色與其多火山、地震的自然環境息息相關？ (A) 喜歡泡溫泉 (B) 喜食海鮮、魚類 (C) 和服與木屐 (D) 各式蔬菜漬物。

《答案》(1)D (2)A

20. 附圖為日本主要工業區分布圖(局部)。請問：



() (1) 日本的沿海平原成為主要工業帶的分布區，主要原因為何？ (A) 水力較充足 (B) 氣候較優良 (C) 技術較進步 (D) 交通較便利。

() (2) 日本主要工業區和工業都市均瀕臨海洋，此反映出日本工業發展上最大的缺點是下列何項？ (A) 原料仰賴進口 (B) 關鍵技術不足 (C) 技術勞工缺乏 (D) 內陸運輸不便。

() (3) 圖中工業產值長年居日本第一的京濱工業區，和居第二的阪神工業區，皆位在下列哪一個島上？ (A) 北海道 (B) 九州 (C) 本州 (D) 四國。

《答案》(1)D (2)A (3)C